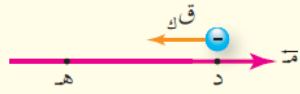


مراجعة (١-٢)




- ١) ماذا نعني بقولنا إن فرق الجهد بين نقطتين يساوي (١٢) فولت.  
٢) نقطتان (د)، (هـ) ضمن مجال كهربائي. انظر الشكل (٦-٢)، إذا كان (جر<sub>هـ</sub> = -٤) فولت و (جر<sub>د</sub> = ٨) فولت فاحسب: الشكل (٦-٢): سؤال (٢).


- أ) شغل القوة الكهربائية المبذول لنقل إلكترون من النقطة (د) إلى النقطة (هـ).  
ب) شغل القوة الخارجية المبذول لنقل بروتون من اللانهاية إلى النقطة (د) بسرعة ثابتة.  
ج) مقدار التغير في طاقة الوضع الكهربائية للإلكترون والبروتون في الفرعين السابقين.

إجابات الأسئلة

- ١) التغير في طاقة الوضع الكهربائية لوحدة الشحنات عند انتقالها بين النقطتين يساوي (١٢) جول.  
٢) أ) ش<sub>د</sub> = -٤ (جر<sub>د</sub> - جر<sub>هـ</sub>)؛ حيث جر<sub>د</sub> = -٨ و جر<sub>هـ</sub> = ٤

منهاجي  = -٤ (١٠ × ١,٦ - ٤ × ١٠) = ١٠ × ٦,٤ - ٤ × ١٠ = ١٩ جول

- ب) ش<sub>ع</sub> = ٤ (جر<sub>ع</sub> - جر<sub>د</sub>)؛ حيث جر<sub>د</sub> = ٨ و جر<sub>ع</sub> = ٤

منهاجي  = ٤ (١٠ × ١,٦ - ٠) = ١٠ × ٦,٤ = ١٩ جول

- ج) التغير في طاقة وضع الإلكترون الكهربائية:  $\Delta ط_e = -٤$  جول (الإشارة السالبة تعني نقصان طاقة الوضع للإلكترون).

التغير في طاقة وضع البروتون الكهربائية:  $\Delta ط_p = ٤$  جول