

أسئلة من الاختبارات الدولية

تصنيف النباتات والحيوانات



1- يمثل الشكل رجل طائر. أتوقع أن يعيش هذا الطائر في:

(أ) الغابة.

(ب) حقل ذرة.

(ج) الصحراء.

(د) بحيرة.


2- أحد الأشكال الآتية لا يمثل حشرة:

فَراشة



(د)

جَرَادَةٌ



(ج)

عَنْكَبُوتٌ



(ب)

نَمْلَةٌ



(أ)

3- أحد الحيوانات الآتية يمتلك أجنحة:

(أ) عصفور.

(ب) ضفدع.

(ج) فأر.







(د) أرنب.

4- طلبت المعلمة إلى الطلبة أن يذكروا بماذا تختلف الحيوانات عن بعضها. قالت أميرة: إنها تختلف في الحجم. أكتب خاصيتين إضافيتين تختلف فيهما الحيوانات عن بعضها:

(أ) تختلف في طريقة الحركة.

(ب) تختلف في غطاء الجسم.

5- أمامي رسوم لعدد من الحيوانات. أصنف هذه الحيوانات في الجدول الآتي، حسب المجموعة التي تنتمي إليها:

					
أَفْعَى	ضِفْدَعٌ	عُرَابٌ	سَمَكَةٌ قِرْشِيَّةٌ	نَمَلَةٌ	أَسَدٌ
زَوَاحِفُ	طُيُورٌ	حَشْرَاتٌ	أَسْمَاكٌ	بَرْمَائِيَّاتٌ	ثَدْيِيَّاتٌ
أَفْعَى	عُرَابٌ	نَمَلَةٌ	سَمَكَةٌ قِرْشِيَّةٌ	ضِفْدَعٌ	أَسَدٌ

6- أمامي جُمْل تصف ميزات مجموعات الحيوانات. أملأ الفراغ باسم مجموعة الحيوانات التي تميزها.

(أ) الحيوانات ذات 6 أرجل، تنتمي إلى مجموعة: **الحشرات**.

(ب) الحيوانات التي يغطي جسمها الشعر أو الفرو، تنتمي إلى مجموعة: **الثدييات**.

(ج) الحيوانات التي تغطي جسمها القشور، تنتمي إلى مجموعة: **الأسماك**.

(د) الحيوانات التي يغطي جسمها الريش، تنتمي إلى مجموعة: **الطيور**.

(هـ) الحيوانات التي جلدها جاف مغطى بالحراشف، تنتمي إلى مجموعة: **الزواحف**.

(و) الحيوانات التي جلدها رطب، وتبدأ حياتها في الماء، وتتغذى عن طريق الخياشيم في أثناء وجودها في الماء، تنتمي إلى مجموعة: **البرمائيات**.

7- رأّت دينا في جولة في حديقة عامة كائنات حية تطير. أكتب خاصيتين من خصائص الطيور تستطيع دينا عن طريقهما التعرف إليها من بين الكائنات الحية المختلفة.

(1) يغطي جسمها الريش.

(2) لها منقار.

8- شاهد الطلبة في الحقل نباتات مختلفة. أكتب خاصيتين يستطيع الطلبة عن طريقهما تصنيف النباتات.

(1) وجود الأزهار.

(2) وجود البذور.

9- وجدت منار في الحديقة كائناً حياً له قرنا استشعار. إلى أي مجموعة ينتمي هذا الكائن الحي؟

الحشرات.

10- وجد عون في الحديقة نباتاً تتكون بذوره داخل الثمار. إلى أي مجموعة ينتمي هذا النبات؟

مغطاة البذور نباتات زهرية.

11- نبات بذوره من ذوات الفلقتين. إلى أي مجموعة ينتمي هذا النبات؟

الزهرية.

12- (أ) ما الذي يغطي جلد الحيوانات التي تنتمي إلى الزواحف؟ الحراشف.

(ب) ما وظيفة غطاء الجسم الذي كتبه؟ حماية الحيوان.