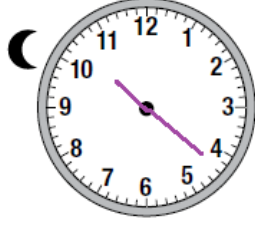



## أسئلة كتاب التمارين

### قبل الظهر، بعد الظهر


أرسم عقربي الساعة أو أكتب الوقت في الساعة الرقمية، ثم أحدد p.m. أو a.m.:

1 


10:22 a.m. ○  
p.m. ●

2 

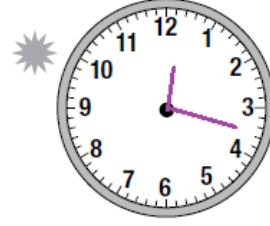
7:09 a.m. ●  
p.m. ○

3 

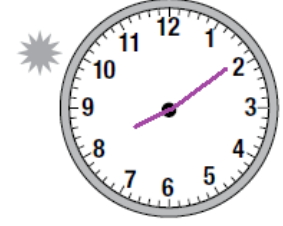
9:52 a.m. ○  
p.m. ●

4 

8:45 a.m. ○  
p.m. ●

5 

12:17 a.m. ●  
p.m. ○

6 

8:09 a.m. ●  
p.m. ○

فقدت الساعات الآتية أعدادها، أقدّر الوقت الذي تُشير إليه كل منها، ثم أكتبه بثلاث طرائق مختلفة:

7 

السادسة إلا خمس  
الخامسة وخمسة وخمسون  
5:55

8 

العاشرة والربع  
العاشرة و 15 دقيقة  
10:15

9 

الخامسة إلا ربع  
الرابعة وخمسة وأربعون  
4:45