
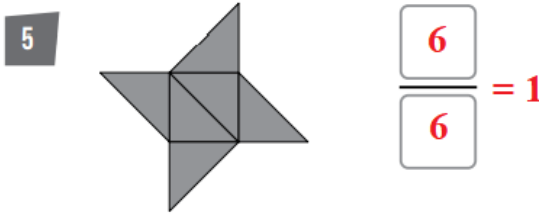
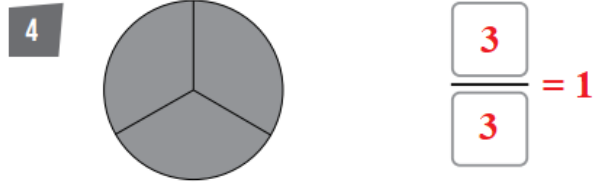

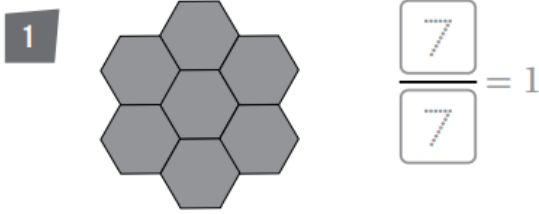


أسئلة كتاب التمارين الكسور المساوية للواحد

اكتب الكسر الذي يمثل الجزء المظلل من الكل أو من المجموعة:



منهاجي



ألون كل شكل لأمثل الكسر المعطى:

