

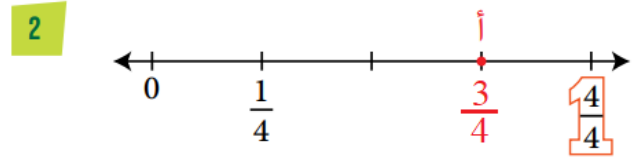
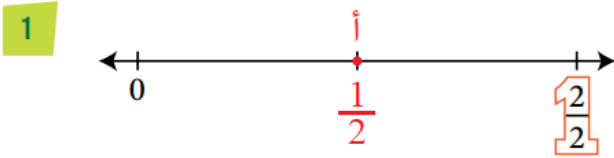
## أتحقق من فهمي الكسور على خط الأعداد

أتحقق من فهمي

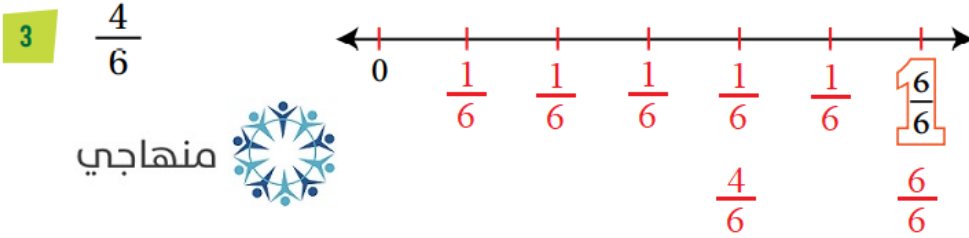


منهاجي

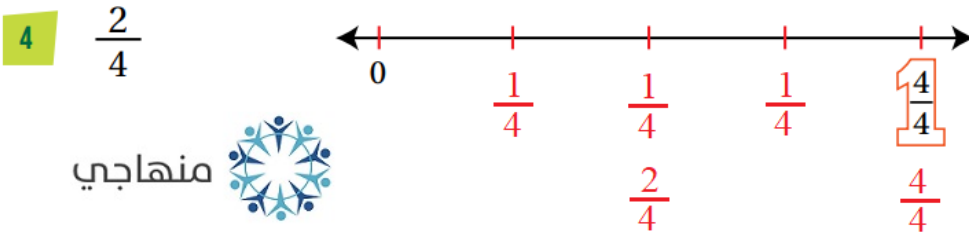
أكتب الكسر الذي يُمثل النقطة (أ):



أمثل الكسر على خط الأعداد:



منهاجي



منهاجي