

أتحقق من فهمي الكسور المساوية للواحد


أَتَحَقَّقُ مِنْ فَهْمِي



منهاجي

أَكْتُبُ الْكُسْرَ الَّذِي يُمَثِّلُ عَدَدَ الْأَجْزَاءِ الْمُلَوَّنَةِ مِنَ الْكُلِّ أَوْ مِنْ مَجْمُوعَةٍ:

1

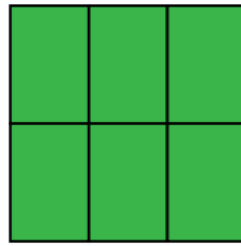


$$\frac{5}{5} = 1$$

$$\frac{5}{5} = 1$$

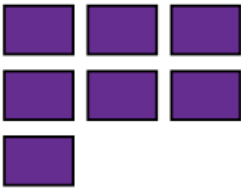


2



$$\frac{6}{6} = 1$$

3



$$\frac{7}{7} = 1$$

منهاجي

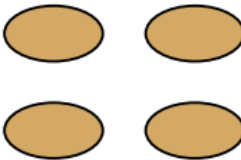


4



$$\frac{6}{6} = 1$$

5

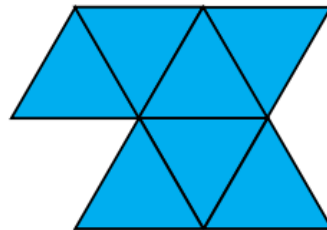


$$\frac{4}{4} = 1$$

منهاجي



6



$$\frac{7}{7} = 1$$