










أسئلة كتاب التمارين

تفسير البيانات الممثلة بالصور

ألوان الحلوى	
	أخضر
	برتقالي
	أزرق
	زهري
	أصفر
	أحمر
	بنفسجي
	بنّي
كل  تمثل حبة حلوى.	

أجيب عن الأسئلة الآتية مُعْتَمِداً عَلَى الْجَدُولِ الْمَجَاوِرِ:







1 كم يزيد عدد حبات الحلوى الخضراء على البنية؟ 4

2 ما عدد حبات الحلوى البرتقالية والحمراء معاً؟ 16

3 كم يزيد عدد حبات الحلوى الصفراء على البنفسجية؟ 4

4 ما عدد حبات الحلوى جميعها؟ 55



الهواية المُفضَّلة	
	المطالعة
	الرياضة
	الرسم
	التمثيل
	العمل في الحديقة
كل  تمثل 3 طلبة.	

يُبيِّنُ الْجَدُولُ الْمَجَاوِرُ الْهَوَايَةَ الْمُفَضَّلَةَ لِمَجْمُوعَةٍ مِنَ الطَّلَبَةِ.

1 ما عدد الطلبة الذين سُئِلُوا عَنْ هَوَايَتِهِمُ الْمُفَضَّلَةِ؟ 39

2 كم يزيد عدد الطلبة الذين هَوَايَتُهُمُ الْمُفَضَّلَةُ الْمَطَالَعَةُ عَلَى الَّذِينَ هَوَايَتُهُمُ الرَّسْمُ؟ 9

3 ما هوايتك المُفضَّلة؟ إجابات متنوعة

4 اكتب أربعة أسئلة حول هذه البيانات، وأجيب عنها.

إجابات متنوعة مثلاً:

أي الهوايات الأقل تفضيلاً؟

أي الهوايات الأكثر تفضيلاً؟

كم طالباً يفضل الرسم؟