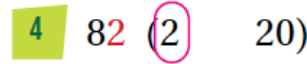
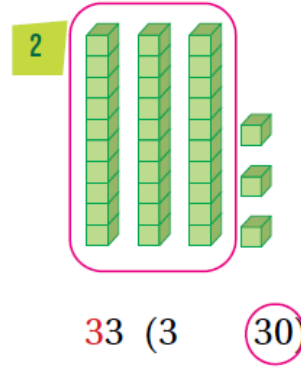
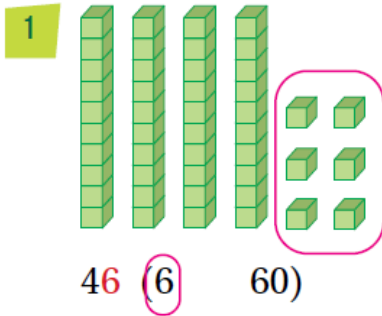


## أتحقق من فهمي القيمة المنزلية

أتحقق من فهمي



أحوظ القيمة المنزلية للرقم الملون باللون الأحمر:



أكتب العدد بالصورة التحليلية:

5  $92 = \underline{90} + \underline{2}$

6  $87 = \underline{80} + \underline{7}$



أحل المسألة



7 مسألة مفتوحة: أكتب عدداً من منزلتين، رقم الأحاد فيه 8 إجابة ممكنة 28