

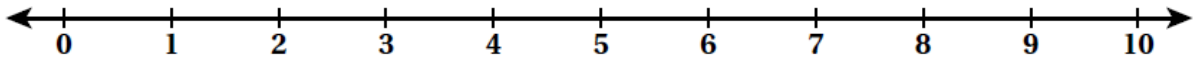
أتحقق من فهمي خط الأعداد

أَتَحَقَّقُ مِنْ فَهْمِي



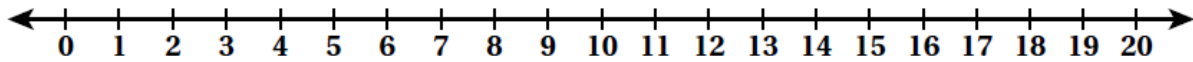
منهاجي

1 أقرأ الأعداد الآتية تصاعديًا: تابع إجابات الطلبة




منهاجي

2 أقرأ الأعداد الآتية تنازليًا: تابع إجابات الطلبة



منهاجي

3 أكتب العدد المناسب في :



أدخل المسألة



4 الحس العددي: أكتب الرقم المفقود:

