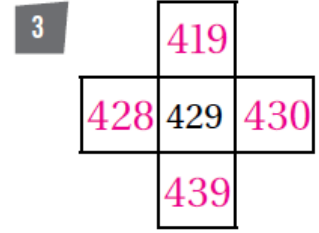
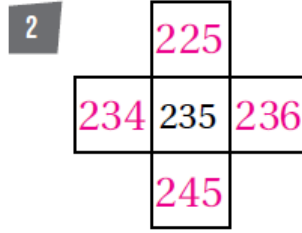
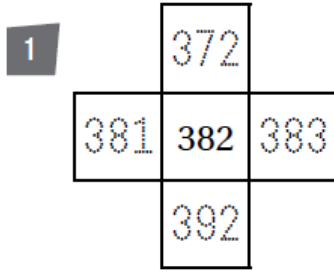


## أسئلة كتاب التمارين

### العد بالواحدات والعشرات والمئات

اكتب الأعداد المناسبة في المربعات:



اكتب التغيير الذي طرأ على الأعداد في ما يأتي:



4 304 إلى 294 أقل بـ 10

6 332 إلى 232 أقل بـ 100

5 482 إلى 483 أكثر بـ 1

8 201 إلى 191 أقل بـ 2

7 900 إلى 899 أقل بـ 1

9 بدأت جيهان العد بالمئات تصاعدياً، وبعد أربع قفزات، حتى وصلت إلى العدد 792. فما العدد الذي بدأت العد به؟ 392

10 بدأت أميرة العد بالعشرات تنازلياً 5 قفزات، حتى وصلت إلى العدد 380. فما العدد الذي بدأت العد به؟ 430

11 إذا بدأت العد بالمئات من 179 إلى 779 فما الأعداد التي سأذكرها؟ 279, 379, 479, 579, 679