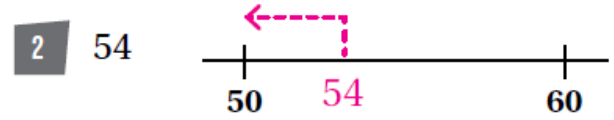
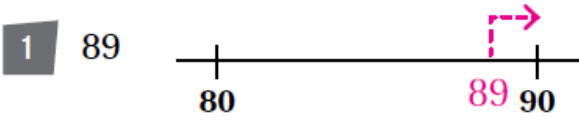


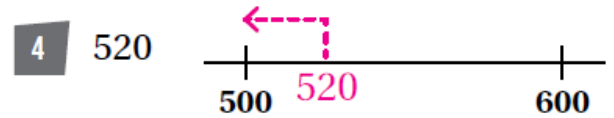
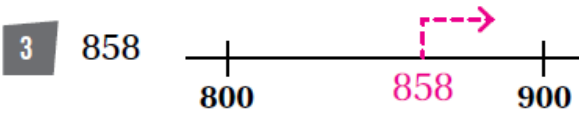
## أسئلة كتاب التمارين

### تقريب الأعداد إلى أقرب عشرة ومئة

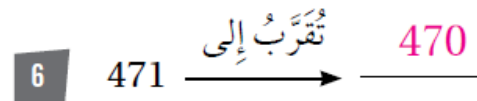
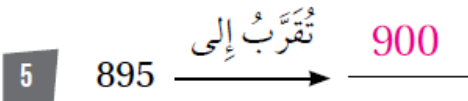
أمثل العدَدَ على خطِّ الأعدادِ، ثمَّ أبينُ اتجاهَ التَّقريبِ إلى الأعلى أو الأسفلِ عندَ تَقريبِهِ إلى أقربِ 10



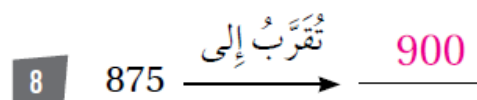
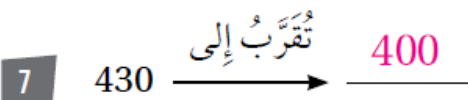
أمثل العدَدَ على خطِّ الأعدادِ، ثمَّ أبينُ اتجاهَ التَّقريبِ إلى الأعلى أو الأسفلِ عندَ تَقريبِهِ إلى أقربِ 100



أقربُ الأعدادِ الآتيةِ إلى أقربِ 10 :



أقربُ الأعدادِ الآتيةِ إلى أقربِ 100 :



9 أكتبُ 4 أعدادٍ ضمنَ 3 منازلٍ، بحيثُ يكونُ ناتجُ تَقريبِ كُلِّ مِنْهَا إلى أقربِ 10 يُساوي 450  
448, 449, 451, 452

10 ما أكبرُ عددٍ ضمنَ 3 منازلٍ يُمكنُ تَقريبُهُ إلى 300؟ 349