

أتحقق من فهمي الأضلاع والرؤوس



أتتحقق من فهمي



أحدّد عدد الأضلاع والرؤوس:

1



أضلاع 6
رؤوس 6

2



أضلاع 3
رؤوس 3

3



أضلاع 5
رؤوس 5

4



ضلع 0
رأس 0

5



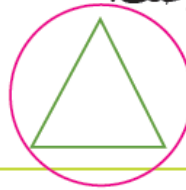
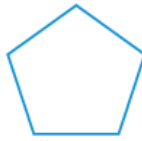
أضلاع 4
رؤوس 4

6



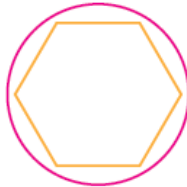
أضلاع 4
رؤوس 4

أحوط الشكل الذي ينطبق عليه الوصف:



3 أضلاع، و3 رؤوس

7



6 أضلاع، و6 رؤوس

8

أحل المسألة



التفكير المنطقي: رسمت فاطمة شكلاً له 4 أضلاع و3 رؤوس، هل رسمت شكلاً
مستويًا؟ أبرّر إجابتي. لا، لأنه لا يكون مغلقاً.

9