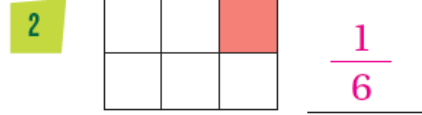
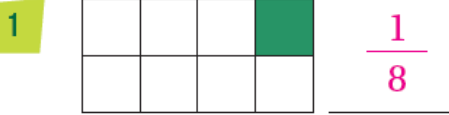




اختبار نهاية الوحدة الثامنة

الكسور والأشكال الهندسية

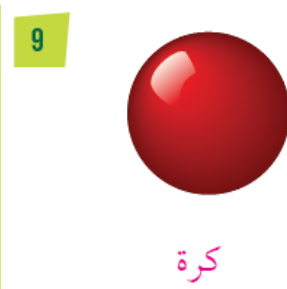
أَكْتُبِ الْكَسْرَ الَّذِي يُمَثِّلُ الْجُزْءَ الْمُلَوَّنَ، ثُمَّ أَقْرُؤْهُ:



أَكْتُبِ الْكَسْرَ الدَّالَّ عَلَى الشَّيْءِ الْمُلَوَّنِ بِاللَّوْنِ الْأَصْفَرِ:




أَكْتُبِ اسْمَ الْمُجَسِّمِ:



أَكْتُبِ اسْمَ الشَّكْلِ الْمُسْتَوِيِّ:




أرسمُ الشَّكْلَيْنِ الْآتِيَيْنِ عَلَى الشَّبَكَةِ الْمُنْقَطَةِ، وَأَحَدِدُ عَدَدَ أَضْلَاعِ كُلِّ شَكْلٍ مِنْهَا وَعَدَدَ رُؤُوسِهِ:



مَثَلًا

14

3 أَضْلَاعٍ
3 رُؤُوسٍ




خُمَاسِيٌّ

13

5 أَضْلَاعٍ
5 رُؤُوسٍ

أَحْوَطُ وَحْدَةَ النَّمَطِ، وَأَكْمِلُهُ بِرَسْمِ الشَّكْلِ الْمُنَاسِبِ:

15



16



تَدْرِيبٌ عَلَى الْإِخْتِبَارَاتِ الدَّوْلِيَّةِ

منهاجي

17 الشَّكْلُ الَّذِي لَيْسَ لَهُ سَطْحٌ مُنْحَنٌ هُوَ:



18 الشَّكْلُ الَّذِي لَهُ وَجْهَانِ فَقَطْ هُوَ:

