
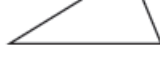


أسئلة كتاب التمارين

الأشكال المستوية

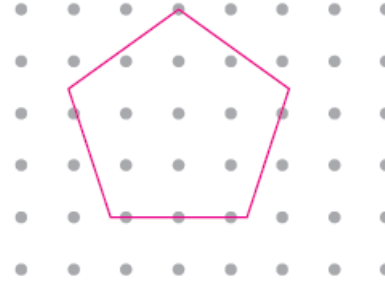
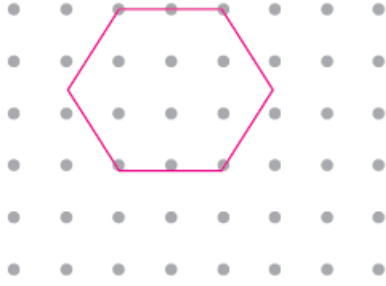
1 أحوط الأشكال المستوية:



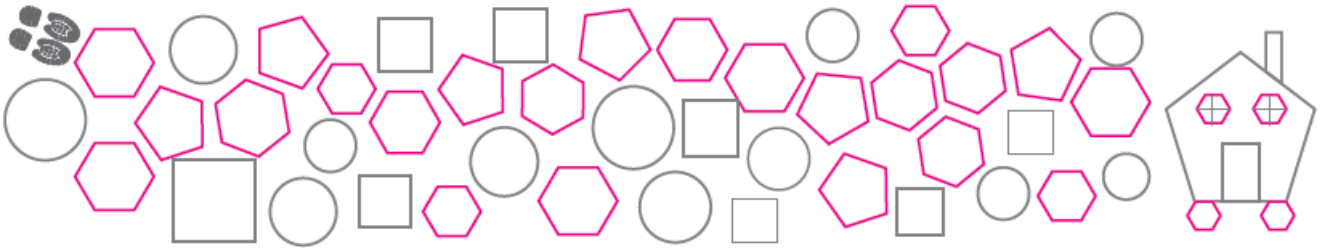
2 أرسم الأشكال المستوية الآتية على الشبكة المنقطعة:

3 سداسي

2 خماسي



4 ألون الخماسي والسداسي لأجد طريقي إلى المنزل:



5 اكتب أسماء الأشكال المستوية التي أراها في الصورة.

مثلث، مستطيل، سداسي، ثماني، دائرة.

