




أتحقق من فهمي

السنتيمتر

أتحقق من فهمي



أَبْحَثُ عَنِ الْأَشْيَاءِ الْأَتِيَّةِ، ثُمَّ أَقْدِّرُ طَوْلَ كُلِّ مِنْهَا، ثُمَّ أَجِدُ قِيَاسَهُ بِالسَّنْتِيمِترَاتِ:

الشيء	التقدير	القياس
1 	<u>4</u> cm	<u>4</u> cm
2 	<u>3</u> cm	<u>3</u> cm
3 	<u>2</u> cm	<u>2</u> cm

أحل المسألة



4 **أَكْتَشِفُ الْخَطَأَ:** قَاسْتُ هَلَا طَوْلَ الطَّبْشُورَةِ الْمُجَاوِرَةِ، فَقَالْتُ: إِنَّهَا تُسَاوِي 7cm، أَكْتَشِفُ الْخَطَأَ الَّذِي وَقَعْتُ فِيهِ هَلَا، وَأَصْحَحُهُ.

طول الطبشورة 6 cm لأنه كان يجب عليها أن

تبدأ القياس من العدد 0 وليس العدد 1