

أسئلة كتاب التمارين

الضرب في 4

اكتب جملة الضرب المناسبة:



$$\underline{2} \times \underline{4} = \underline{8}$$




$$\underline{4} \times \underline{4} = \underline{16}$$

أضع العدد المناسب في لإكمال جملة الضرب:



$$\boxed{3} \times 4 = \boxed{12}$$

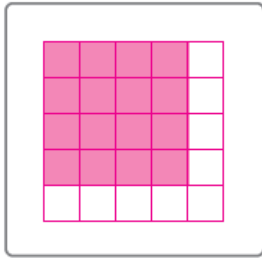


$$\boxed{5} \times 4 = \boxed{20}$$

أرسم شبكة لأجد ناتج الضرب:

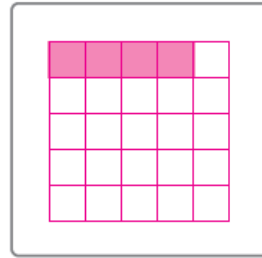
5

$$4 \times 4 = \boxed{16}$$



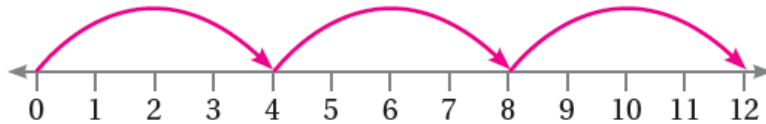
6

$$1 \times 4 = \boxed{4}$$



7 أرسم عدد القفزات المناسب على خط الأعداد التي تناسب جملة الضرب، ثم أجد ناتج الضرب:

$$3 \times 4 = \boxed{12}$$



8 إذا كان للسلاحفة 4 أرجل، فكم رجلاً لـ 5 سلاحف؟

20 رجلاً