

## أسئلة كتاب التمارين

### الضرب في 2

اكتب جملة الضرب المناسبة:

1   $2 \times 2 = 4$

2   $3 \times 2 = 6$

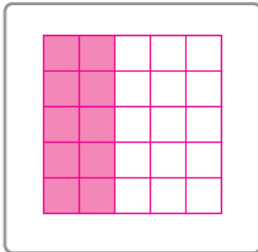
أضع العدد المناسب في  لإكمال جملة الضرب:

3   $4 \times 2 = 8$


4   $5 \times 2 = 10$

ارسم شبكة لإيجاد ناتج الضرب:

5  $5 \times 2 = 10$

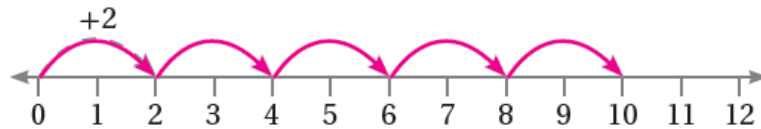


6  $3 \times 2 = 6$



ارسم عدد القفزات المناسب على خط الأعداد التي تناسب جملة الضرب، ثم أجد ناتج الضرب:

7  $5 \times 2 = 10$



8  $4 \times 2 = 8$

