

أسئلة كتاب التمارين

الضرب في 2

اكتب جملة الضرب المناسبة:

1  $2 \times 2 = 4$

2  $3 \times 2 = 6$

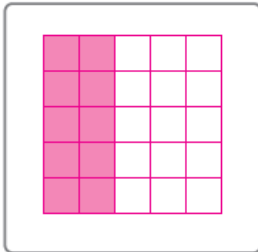
أضع العدد المناسب في لإكمال جملة الضرب:

3  $4 \times 2 = 8$


4  $5 \times 2 = 10$

ارسم شبكة لإيجاد ناتج الضرب:

5 $5 \times 2 = 10$

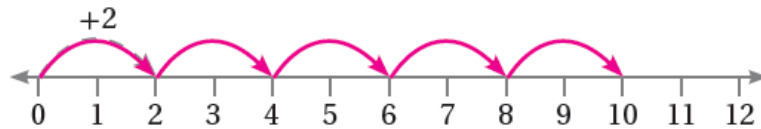


6 $3 \times 2 = 6$



ارسم عدد القفزات المناسب على خط الأعداد التي تناسب جملة الضرب، ثم أجد ناتج الضرب:

7 $5 \times 2 = 10$



8 $4 \times 2 = 8$

