

أسئلة مراجعة الوحدة الأولى

المفاهيم والمصطلحات

السؤال الأول:

أملأ الفراغ في كل من الجمل الآتية بالكلمة المناسبة:

الْوَرَاثَةُ
تَنْمُو
التَّكَاثُرُ

تُسمى قدرة الكائنات الحية على إنتاج أفراد جديدة

- عندما صغار الحيوانات فإنها تتغير.
- انتقال الصفات من الآباء إلى الأبناء يُسمى

المهارات والأفكار العلمية

السؤال الثاني:

الصورتان الآتيتان إحداهما لطائر وهو كائن حيّ، والأخرى للسحاب وهو ليس كائناً حياً:



أقدم سببين لتصنيف الطائر كائناً حياً، والسحاب كائناً غير حيّ:

-
-

السؤال الثالث:

أقارن بين القطة الأم وصغارها، ثم:



- أكتب صفتين تتشابه بهما صغار القطة مع الأم.
- أكتب صفتين تختلف بهما صغار القطة عن الأم.

السؤال الرابع:

أميّز الحقيقة من الرأي في العبارتين الآتيتين:




- صغير الأرنب ينمو ويتغير.
- صغير الأرنب أجمل من صغير القط.

السؤال الخامس:

تفكير ناقد: هل السيارة كائن حيّ؟ لماذا؟

السؤال السادس:

أستخدم الأرقام: أعدّ أرجل الحيوانات في الصور الآتية، ثم أرتبها بحسب عدد أرجلها من الأقل إلى الأكثر.



أختار الإجابة الصحيحة

السؤال السابع:


أتوقع: أي البطات الآتية أم للفراخ التي في الصورة المجاورة؟



ج



ب



ا

السؤال الثامن:

أتسلسل: تبين الصور الآتية نمو نبات، فأی ممّا يأتي يُمثل الترتيب الصحيح للنمو؟



4



3



2



1

أ- 2 , 1 , 3 , 4

ب- 3 , 1 , 4 , 2

ج- 4 , 1 , 2 , 3