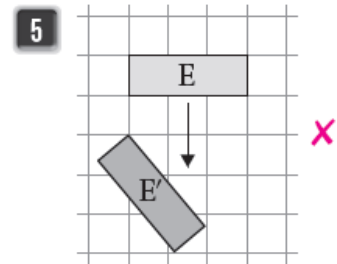
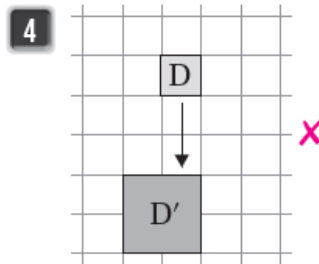
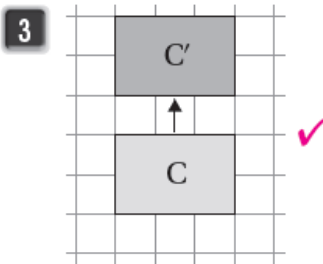
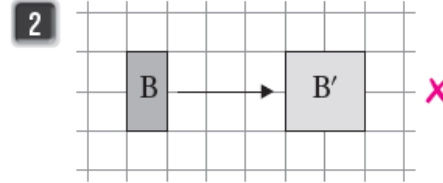
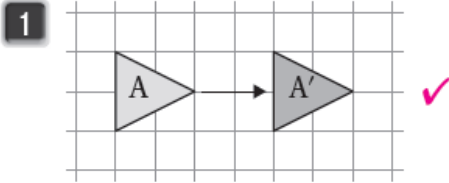


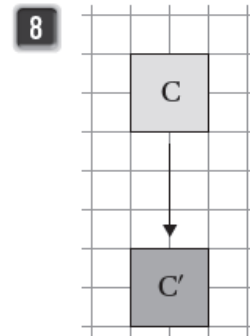
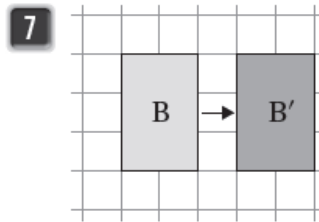
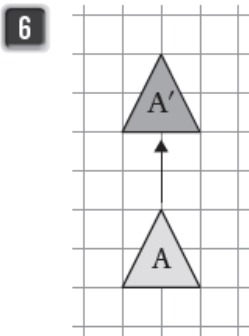
## إجابات كتاب التمارين

### الانسحاب

أختارُ الشَّكْلَ أَوْ الأشْكَالَ الَّتِي تُمَثِّلُ انْسِحَابًا:



أُكْمِلُ الجُمْلَةَ الَّتِي تَحْتَ كُلِّ شَكْلٍ:



4 انْسَحَبَ الْمُثَلَّثُ

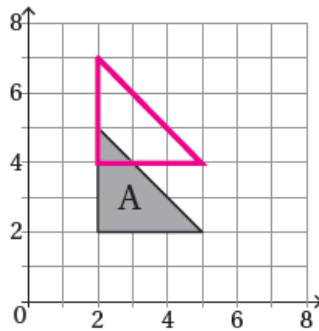
وَحَدَاتٍ إِلَى الْأَعْلَى

3 انْسَحَبَ الْمُسْتَطِيلُ

وَحَدَاتٍ إِلَى الِیْمَنِ

5 انْسَحَبَ الْمُرَبَّعُ

وَحَدَاتٍ إِلَى الْأَسْفَلِ



بِنَاءٍ عَلَى الشَّكْلِ الْمُجَاوِرِ، أُجِيبُ عَنِ الْأَسْئَلَةِ الْآتِيَةِ:

9 أَرَسِّمُ الشَّكْلَ النَّاتِجَ عَنِ انْسِحَابِ الْمُثَلَّثِ وَحَدَّتَيْنِ إِلَى الْأَعْلَى، وَأَكْتُبُ

إِحْدَائِيَّاتِ الرُّؤُوسِ قَبْلَ الْانْسِحَابِ وَبَعْدَهُ.

10 أَقِيسُ أَطْوَالَ الْأَضْلَاعِ فِي الشَّكْلَيْنِ. وَأَقَارِنُ بَيْنَ أَطْوَالِ الْأَضْلَاعِ الْمُتَنَاطِرَةِ.

متساوية.