



تدریبات علی وحدة الضرب

حقائق الضرب في الأعداد ٢، ٥، ١٠

الجزء الأول

اعداد:

نهاد حسن

مشرفة مركز مصادر التعلم

مركز مصادر التعلم

مراجعة وحدة الضرب

الجزء الاول: حقائق الضرب في الاعداد (٢،١٠،٥)

س١: أحصر العملية التي يمكن تحويلها الى عملية ضرب:

$$٥ + ٥ + ٥ + ٦ + ٥$$

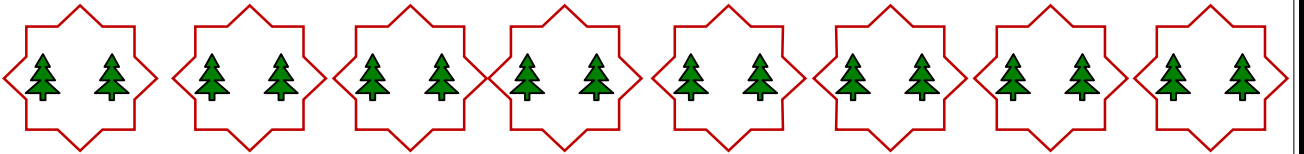
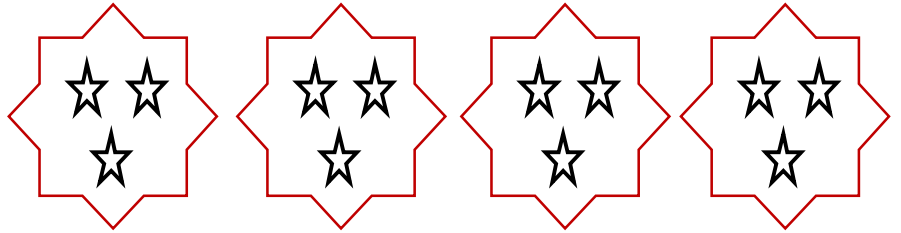
$$٣ + ٣ + ٣ + ٣ + ٣$$

$$٢ + ٢ + ٦ + ٢ + ٢$$



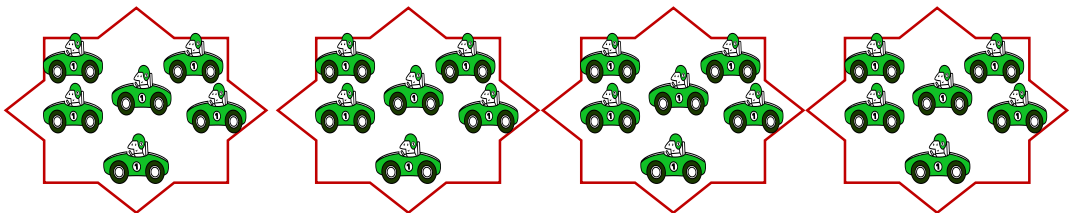
س٢: أجد عدد العناصر باستخدام عملية الضرب:

$$\bigcirc = \bigcirc \times \bigcirc$$



$$\bigcirc = \bigcirc \times \bigcirc$$

$$\bigcirc = \bigcirc \times \bigcirc$$



س٣: صل بين عملية الجمع المتكرر و عملية الضرب المساوية لها :-

$$\begin{array}{l} 6 \times 6 \\ 5 \times 5 \\ 10 \times 7 \\ 2 \times 4 \\ 5 \times 3 \end{array}$$

$$\begin{array}{l} 10 + 10 + 10 + 10 + 10 + 10 \\ 3 + 3 + 3 + 3 + 3 \\ 5 + 5 + 5 + 5 + 5 \\ 6 + 6 + 6 + 6 + 6 + 6 \\ 2 + 2 + 2 + 2 \end{array}$$

س٤: حول عملية الضرب الى جمع متكرر:

$$+ \square + \square + \square = 5 \times 3$$

$$\square + \square + \square + \square + \square = 10 \times 5$$

$$\square + \square + \square + \square = 2 \times 4$$

$$\square + \square + \square + \square + \square + \square + \square = 3 \times 7$$


س٥ : اكتب العدد المناسب :-

$$\square \times 5 = \square \times 3$$

$$2 \times 9 = 9 \times \square$$

س٦ : اكتب العدد المناسب :-

$$\frac{\square^2}{14} \times = \frac{\square^7}{14} \times$$



س٧: اكتب ناتج ضرب ما يلي في الفراغ :-

$$\square = 5 \times 10$$

$$\square = 2 \times 1$$

$$\square = 10 \times 4$$

$$\square = 2 \times 9$$

$$\square = 10 \times 4$$

$$\square = 2 \times 3$$

$$\square = 2 \times 8$$

$$\square = 5 \times 2$$

$$\square = 5 \times 6$$

$$\square = 2 \times 7$$

$$\square = 5 \times 5$$

$$\square = 2 \times 9$$

س٨: ضع العدد المناسب في الفراغ لتصبح عملية الضرب صحيحة :

$$70 = 10 \times \square$$

$$35 = \square \times 5$$

$$14 = 2 \times \square$$

$$25 = \square \times 5$$

$$30 = \square \times 6$$

$$45 = 5 \times \square$$

$$20 = \square \times 2$$

$$16 = 2 \times \square$$



س٨: كم عَيْنًا ل ٦ طالبات ؟

الحل :

س٩: ما العددان اللذان ناتج جمعهما = ٥ ، وحاصل ضربهما = ٦ ؟

$$6 = \bigcirc \times \bigcirc$$

$$5 = \bigcirc + \bigcirc$$




س١٠: أوجد ناتج الضرب:

$$= \frac{7}{2} \times \quad -١$$

$$= \frac{7}{5} \times \quad -٢$$

$$= \frac{9}{2} \times \quad -٣$$



١٠ دنانير

س١١: اذا كان ثمن اللعبة ١٠ دنانير، واشترت هبة ٦ لعبات، فكم دفعت؟

.....



س١٢: اشترى أحمد ٣ كتب، في كل كتاب ١٠ صفحات، فكم صفحة في جميع الكتب؟

.....

س١٣: في المدرسة ٥ شعب للصف الثاني، وفي كل شعبة ١٠ طلاب، فكم عدد طلاب الصف الثاني في المدرسة؟

.....



س١٤: مثل (٦ X ٢) بالرسم، ثم جد ناتج الضرب.