



شبكة مناهجي التعليمية  
أسئلة من نوع اختيار من متعدد الفصلين الأول والثاني  
كيمياء – الأستاذ أحمد الحسين  
الثاني عشر العلمي

**تعريف أرهينوس**

- ١- المادة التي تنتج  $\text{OH}^-$  عند إذابتها في الماء هي:  
أ- حمض ارهينوس. ب- قاعدة أرهينوس. ج- قاعدة لويس. د- قاعدة برونستد-لوري.  
٢- المحلول الذي لا يسلك سلوكاً قاعدياً وفق مفهوم أرهينوس، هو:  
أ-  $\text{NaOH}$  ب-  $\text{KOH}$  ج-  $\text{NH}_3$  د-  $\text{LiOH}$   
٣- المحلول الذي لا يسلك سلوكاً حمضياً أو قاعدياً وفق مفهوم أرهينوس، هو:  
أ-  $\text{NaCN}$  ب-  $\text{HClO}_4$  ج-  $\text{HBr}$  د-  $\text{NaOH}$

**تعريف برونستد - لوري**

- ٤- يُعد حمض الهيدروكلوريك  $\text{HCl}$  حمضاً عند تفاعله مع الماء وفق مفهوم برونستد - لوري لأنه:  
أ- مستقبل بروتون ب- مانح بروتون ج- مستقبل  $\text{OH}^-$  د- مانح  $\text{OH}^-$   
٥- إحدى المواد الآتية تسلك سلوكاً أمفوتيرياً (متردداً) وفق مفهوم برونستد - لوري:  
أ-  $\text{HCOO}^-$  ب-  $\text{HCO}_3^-$  ج-  $\text{NH}_4^+$  د-  $\text{CH}_3\text{O}^-$   
٦- إحدى المواد الآتية تسلك سلوكاً قاعدياً فقط وفق مفهوم برونستد - لوري:  
أ-  $\text{H}_2\text{O}$  ب-  $\text{CH}_3\text{NH}_3^+$  ج-  $\text{HPO}_4^{2-}$  د-  $\text{CO}_3^{2-}$



مناهجي  
منعة التعليم العالي

**تعريف لويس**

- ٧- يشترط لويس في الحموض:  
أ- احتوائها على  $\text{H}$  ب- احتوائها على أفلاك فارغة.  
ج- امتلاكها أزواج من الإلكترونات غير الرابطة. د- احتوائها على  $\text{OH}$   
٨- إحدى المواد الآتية تسلك سلوكاً حمضياً وفق تعريف لويس فقط:  
أ-  $\text{Ag}^+$  ب-  $\text{NH}_4^+$  ج-  $\text{HCl}$  د-  $\text{H}_2\text{O}$

**الأزواج المترافقة**

- ٩- الزوج المترافق من الحمض والقاعدة  $\text{N}_2\text{H}_4/\text{N}_2\text{H}_5^+$  وفق مفهوم برونستد-لوري ينتج من تفاعل:

- أ-  $\text{N}_2\text{H}_4$  مع  $\text{H}_2\text{O}$  ب-  $\text{N}_2\text{H}_5^+$  مع  $\text{H}_3\text{O}^+$   
ج-  $\text{N}_2\text{H}_4$  مع  $\text{N}_2\text{H}_5^+$  د-  $\text{N}_2\text{H}_4$  مع  $\text{OH}^-$   
١٠- أحد الأزواج الآتية يعتبر زوجاً مترافقاً ينتج من تفاعل  $\text{CH}_3\text{NH}_2$  مع  $\text{NH}_4^+$ :  
أ-  $\text{CH}_3\text{NH}_3^+/\text{CH}_3\text{NH}_2^-$  ب-  $\text{NH}_3/\text{CH}_3\text{NH}_3^+$   
ج-  $\text{CH}_3\text{NH}_2/\text{CH}_3\text{NH}_2^-$  د-  $\text{CH}_3\text{NH}_2/\text{CH}_3\text{NH}_3^+$

### التأين الذاتي للماء

- ١١- في محلول يبلغ  $[H_3O^+]$  فيه  $2 \times 10^{-3}$  مول/لتر، فإن  $[OH^-]$  يساوي:
- أ-  $5 \times 10^{-11}$  ب-  $2 \times 10^{-11}$  ج-  $5 \times 10^{-11}$  د-  $2 \times 10^{-11}$
- ١٢- أي المحاليل الآتية قاعدي إذا كان  $[H_3O^+]$  في كل منها يساوي:
- أ-  $1 \times 10^{-3}$  ب-  $2 \times 10^{-5}$  ج-  $5 \times 10^{-6}$  د-  $2 \times 10^{-9}$
- ١٣- أي المحاليل الآتية أكثر حمضية إذا كان  $[H_3O^+]$  في كل منها يساوي:
- أ-  $5 \times 10^{-3}$  ب-  $2 \times 10^{-4}$  ج-  $3 \times 10^{-3}$  د-  $2 \times 10^{-5}$

### الرقم الهيدروجيني

- ١٤- محلول يبلغ  $[OH^-]$  فيه  $5 \times 10^{-8}$  مول/لتر، فإن قيمة (pH) لمحلوله تساوي: (لو  $2 = 0,3$ )
- أ- ٨ ب- ٧,٣ ج- ٥,٣ د- ٥,٧
- ١٥- محلول تبلغ قيمة (pH) فيه ٤,٧، فإن  $[OH^-]$  فيه يساوي (لو  $2 = 0,3$ ):
- أ-  $5 \times 10^{-9}$  ب-  $5 \times 10^{-10}$  ج-  $2 \times 10^{-9}$  د-  $2 \times 10^{-5}$

### حسابات الحموض والقواعد

- ١٦- محلول الحمض HBr تم تحضيره بإذابة (٠,٠١ مول) من الحمض في (١٠٠ مل) من المحلول فإن قيمة pH له تساوي:
- أ- صفر ب- ١ ج- ٣ د- ٥
- ١٧- قيمة (pH) لمحلول القاعدة NaOH تساوي (١٢)، كتلة القاعدة (بوحدة الغرام) المذابة في ٢٠٠ مل من ذلك المحلول تساوي (الكتلة المولية لـ NaOH = ٤٠ غ/مول):
- أ- ٨ ب- ٠,٨ ج- ٠,٠٨ د- ٠,٠٠٨
- ١٨- محلول الحمض HCN تركيزه ٠,٠١ مول/لتر، فإذا كان  $[CN^-]$  في ذلك المحلول يساوي  $2 \times 10^{-6}$ ، فإن قيمة  $K_a$  للحمض تساوي:
- أ-  $2 \times 10^{-6}$  ب-  $2 \times 10^{-12}$  ج-  $4 \times 10^{-12}$  د-  $4 \times 10^{-10}$
- ١٩- محلول القاعدة الضعيفة B تركيزه ٠,٠١ مول/لتر، وقيمة (pH) لمحلوله يساوي ٩، فإن قيمة pH لمحلول تركيزه ١ من القاعدة نفسها يساوي:
- أ- ٨ ب- ٩ ج- ١٠ د- ١١

- يبين الجدول المجاور أربعة حموض ضعيفة بتركيز ٠,١ مول/لتر لكل منها. أجب عن الأسئلة (٢٠، ٢١):
- ٢٠- الحمض الأضعف هو:

- أ- HA ب- HB ج- HC د- HD
- ٢١- الحمض الذي لمحلوله أقل pH:
- أ- HA ب- HB ج- HC د- HD

الحمض	المعلومات
HA	$K_a = 5 \times 10^{-7}$
HB	$K_a = 3 \times 10^{-3}$
HC	$[C^-] = 1 \times 10^{-4}$
HD	$[OH^-] = 1 \times 10^{-9}$

### القوى النسبية للحموض والقواعد

K <sub>b</sub>	صيغة القاعدة
٦-١٠ × ١	N <sub>2</sub> H <sub>4</sub>
٩-١٠ × ٢	C <sub>5</sub> H <sub>5</sub> N
٤-١٠ × ٤	CH <sub>3</sub> NH <sub>2</sub>
٥-١٠ × ٣	NH <sub>3</sub>

• يبين المجاور ثابت التآين لأربعة من القواعد الضعيفة المتساوية في التركيز. اعتماداً على الجدول، أجب عن السؤالين (٢٢ ، ٢٣):

٢٢- صيغة القاعدة التي حمضها المرافق هو الأضعف:

أ- N<sub>2</sub>H<sub>4</sub>      ب- C<sub>5</sub>H<sub>5</sub>N

ج- CH<sub>3</sub>NH<sub>2</sub>      د- NH<sub>3</sub>

٢٣- الحمض المرافق الذي لمحلولة أقل قيمة pH :

أ- N<sub>2</sub>H<sub>5</sub><sup>+</sup>      ب- C<sub>5</sub>H<sub>5</sub>NH<sup>+</sup>

ج- CH<sub>3</sub>NH<sub>3</sub><sup>+</sup>      د- NH<sub>4</sub><sup>+</sup>

### خصائص الأملاح، وتمييه الأملاح

٢٤- أي محاليل الأملاح الآتية الأعلى (pH):

أ- N<sub>2</sub>H<sub>5</sub>Cl      ب- KHSO<sub>3</sub>      ج- KCl      د- NH<sub>4</sub>Cl

• اعتماداً على قيم K<sub>b</sub> للقواعد الضعيفة المبينة في الجدول المجاور، أجب عن السؤالين (٢٥ ، ٢٦):

٢٥- الملح الذي الذي لمحلولة أعلى (pH):

أ- N<sub>2</sub>H<sub>5</sub>Br      ب- C<sub>5</sub>H<sub>5</sub>NHBr

ج- CH<sub>3</sub>NH<sub>3</sub>Br      د- NH<sub>4</sub>Br

٢٦- الملح الأكثر تميهاً في الماء من الآتية هو:

أ- N<sub>2</sub>H<sub>5</sub>Cl      ب- C<sub>5</sub>H<sub>5</sub>NHCl

ج- CH<sub>3</sub>NH<sub>3</sub>Cl      د- NH<sub>4</sub>Cl

٢٧- الملح الذي لا يعد ذوبانه في الماء تميهاً من الأملاح الآتية، هو:

أ- NaCN      ب- NaBr      ج- NH<sub>4</sub>Br      د- NaHCO<sub>3</sub>

٢٨- الترتيب الصحيح للمحاليل المائية الآتية (NaCl , NH<sub>4</sub>Cl , NaCN , HCl) المتساوية في التركيز وفق pH :

أ- HCl > NaCN > NaCl > NH<sub>4</sub>Cl      ب- HCl > NaCl > NH<sub>4</sub>Cl > HCl

ج- NaCN > NaCl > NH<sub>4</sub>Cl > HCl      د- NaCN > NaCl > HCl > NH<sub>4</sub>Cl

### الأيون المشترك

٢٩- الأيون المشترك في محلول C<sub>5</sub>H<sub>5</sub>NHCl و C<sub>5</sub>H<sub>5</sub>N هو:

أ- C<sub>5</sub>H<sub>5</sub>N      ب- C<sub>5</sub>H<sub>5</sub>NH<sup>+</sup>      ج- C<sub>5</sub>H<sub>5</sub>NH<sup>-</sup>      د- C<sub>5</sub>H<sub>6</sub>N<sup>+</sup>

٣٠- ينتج الأيون المشترك NH<sub>4</sub><sup>+</sup> من المحلول المكون من:

أ- NH<sub>3</sub>/HCl      ب- NH<sub>4</sub>Cl/HCl

ج- NH<sub>3</sub>/H<sub>2</sub>O      د- NH<sub>4</sub>Cl/ NH<sub>3</sub>

٣١- إن إضافة الملح HCOONa للحمض HCOOH يؤدي إلى:

أ- زيادة pH.      ب- نقصان [OH<sup>-</sup>].      ج- تقليل K<sub>a</sub>.      د- زيادة [H<sub>3</sub>O<sup>+</sup>].

K <sub>b</sub>	صيغة القاعدة
1 × 10 <sup>-6</sup>	N <sub>2</sub> H <sub>4</sub>
2 × 10 <sup>-9</sup>	C <sub>5</sub> H <sub>5</sub> N
4 × 10 <sup>-4</sup>	CH <sub>3</sub> NH <sub>2</sub>
3 × 10 <sup>-5</sup>	NH <sub>3</sub>



٣٢- يبين المجاور ثابت التأيين لأربعة من القواعد الضعيفة المتساوية في التركيز. اعتماداً على الجدول، القاعدة وملحها بالتركيز نفسه اللازمة لعمل محلول قيمة (pH) له تساوي ٨ هما:



٣٣- إذا كانت قيمة pH في محلول يحتوي على (٠,١) مول/لتر من حمض HX = (٣)، فإن تركيز الملح NaX (بوحدة مول/لتر) الذي يجب أن يضاف للمحلول لتتغير قيمة pH بمقدار (٢) يساوي:

- أ- (٠,٢)      ب- (٠,١)      ج- (٠,٠١)      د- (٠,٠٥)

### عدد التأكسد

٣٤- عدد تأكسد الهيدروجين في المركب (CaH<sub>2</sub>) يساوي:

- أ- ١      ب- ١+      ج- ٢+      د- ٢-

٣٥- يكون عدد تأكسد الأكسجين (-١) في المركب:

- أ- Na<sub>2</sub>O      ب- K<sub>2</sub>O<sub>2</sub>      ج- F<sub>2</sub>O<sub>2</sub>      د- NO<sub>2</sub>

٣٦- عدد تأكسد الكلور في الأيون HClO<sub>4</sub> يساوي:

- أ- ٧+      ب- ٧-      ج- ١+      د- ١-

### تعريفات التأكسد والاختزال

٣٧- المادة التي تُختزل:

أ- تفقد إلكترونات ويزداد عدد تأكسدها.      ب- تفقد إلكترونات ويقل عدد تأكسدها.

ج- تكسب إلكترونات ويزداد عدد تأكسدها.      د- تكسب إلكترونات ويقل عدد تأكسدها.

٣٨- التغير في عدد تأكسد المادة التي تأكسدت في التفاعل الآتي: HSO<sub>3</sub><sup>-</sup> + IO<sub>3</sub><sup>-</sup> → SO<sub>4</sub><sup>2-</sup> + I<sub>2</sub> هو:

- أ- ٥      ب- ٢      ج- ٣      د- ٦

٣٩- في أي التحولات الآتية يحدث تأكسد لذرات النيتروجين؟



٤٠- في التفاعل الآتي: MnO<sub>4</sub><sup>-</sup> + ClO<sub>2</sub><sup>-</sup> → MnO<sub>2</sub> + ClO<sub>4</sub><sup>-</sup> فإن العامل المؤكسد هو:

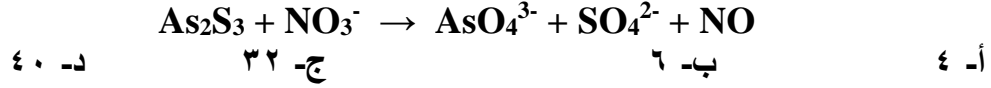
- أ- ClO<sub>2</sub><sup>-</sup>      ب- MnO<sub>4</sub><sup>-</sup>      ج- MnO<sub>2</sub>      د- ClO<sub>4</sub><sup>-</sup>

٤١- في التفاعل 2OH<sup>-</sup> + Br<sub>2</sub> → BrO<sup>-</sup> + Br<sup>-</sup> + H<sub>2</sub>O ، المادة التي يحدث لها تأكسد واختزال ذاتي، هي:

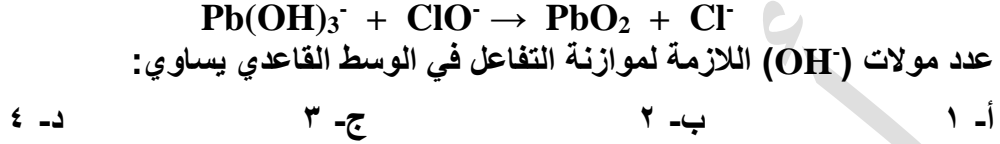
- أ- Br<sub>2</sub>      ب- OH<sup>-</sup>      ج- BrO<sup>-</sup>      د- Br<sup>-</sup>

## موازنة تفاعلات التأكسد والاختزال

٤٢- عدد مولات أيونات  $H^+$  اللازمة لموازنة نصف تفاعل التأكسد في المعادلة غير الموزونة أدناه يساوي:



٤٣- التفاعل التالي يحدث في وسط قاعدي:



## الخلايا الغلفانية

٤٤- ادرس المعلومات الواردة في الجدول أدناه، العبارة الصحيحة في ما يتعلق بالخلية الغلفانية التي قطبها  $(H_2/Ni)$ ، هي:

أقطاب الخلية الغلفانية	المهبط	$E^\circ$ الخلية (فولت)
Pb / $H_2$	$H_2$	٠,١٣
Ni / Pb	Pb	٠,١

أ- يزداد تركيز أيونات  $H^+$       ب- يزداد تركيز أيونات  $Ni^{2+}$

ج- جهد الخلية -٠,٢٣ فولت      د- شحنة القطب Ni موجبة

٤٥- بناءً على المعلومات في الجدول الآتي:

معادلة التفاعل	$E^\circ$ التفاعل (فولت)
$Sn + Ag^+ \rightarrow Sn^{2+} + Ag$	٠,٩٤+
$Sn + Fe^{2+} \rightarrow Sn^{2+} + Fe$	٠,٣-

فإن الترتيب الصحيح لأيونات الفلزات وفقاً لقوتها كعوامل مؤكسدة، هو:

أ-  $Sn^{2+} > Ag^+ > Fe^{2+}$       ب-  $Fe^{2+} > Ag^+ > Sn^{2+}$

ج-  $Sn^{2+} > Fe^{2+} > Ag^+$       د-  $Ag^+ > Sn^{2+} > Fe^{2+}$

• اعتماداً على جدول جهود الاختزال الآتية:

الأيون	$Ni^{2+}$	$Cr^{3+}$	$Ag^+$	$Cu^{2+}$	$Cl_2$
جهد الاختزال المعياري $E^\circ$ فولت	٠,٢٣-	٠,٧٤-	٠,٨+	٠,٣٤+	١,٣٦+

أجب عن الأسئلة (٤٦ ، ٤٧):

٤٦- أحد التفاعلات الآتية يحدث تلقائياً، وهو:



٤٧- الفلزان اللذان يكونان خلية خلفانية لها أكبر فرق جهد هما:

أ-  $Cl_2 / Cr$       ب-  $Cr / Ag$       ج-  $Cr / Cu$       د-  $Ni / Cu$

٤٨- ترتيب أيونات الفلزات الافتراضية (A,B,C,D) حسب قوتها كعوامل مؤكسدة ( $C^{2+} < A^{2+} < D^{2+} < B^{2+}$ ) فالعبارة الصحيحة هي:

أ- يمكن حفظ محلول كبريتات A في وعاء من D .

ب- في خلية (C و D) شحنة قطب D سالب.

ج- يمكن تحريك محلول لأحد أملاح D بملعقة من الفلز A أو الفلز D .

د- التفاعل بين B و  $A^{2+}$  تلقائي.

٤٩- ادرس العبارتين الآتيتين:

• ترسبت ذرات A عند وضع قطعة من B في محلول يحتوي أيونات  $A^{2+}$  .

• عند تحريك محلول  $C^{2+}$  بملعقة من A ترسبت ذرات C .

ترتيب أيونات الفلزات الافتراضية (A,B,C) حسب قوتها كعوامل مختزلة، هو:

أ-  $A > B > C$       ب-  $B > A > C$       ج-  $C > A > B$       د-  $A > C > B$

٥٠- بناءً على المعلومات في الجدول الآتي، والتي تمثل أربع خلايا غلفانية في الظروف المعيارية:

Q/X	M/X	Z/X	Y/X	أقطاب الخلية $E^\circ$ الخلية (فولت)
٠,٦	٠,٤٨	٠,٠٩	٠,٠١	
X	M	X	Y	المهبط

فإن إحدى العبارات الآتية صحيحة:

أ- يمكن حفظ محلول كبريتات Q في وعاء من Z .

ب- لا يمكن حفظ حمض الهيدروكلوريك HCl في وعاء من Y .

ج- أيونات  $Y^{2+}$  أقوى كعامل مؤكسد من أيونات  $M^{2+}$  .

د- التفاعل بين Q و  $Z^{2+}$  غير تلقائي.

### قانون السرعة ورتبة التفاعل

٥١- في التفاعل الافتراضي الآتي:  $A + B \rightarrow 2C$  ، تم الحصول على البيانات الواردة في الجدول

رقم التجربة	[A] مول/لتر	[B] مول/لتر	سرعة التفاعل مول/لتر . ث
١	٠,٢	٠,١	$١,٦ \times ١٠^{-٩}$
٢	٠,٤	٠,١	$٦,٤ \times ١٠^{-٩}$
٣	٠,٢	٠,٢	$١,٦ \times ١٠^{-٩}$

المجاور، عند درجة حرارة معينة:

يكون قانون سرعة التفاعل:

أ-  $k = [A]^1 [B]^1$  س

ب-  $k = [A]^1 [B]^1$  س

ج-  $k = [B]^1$  س

د-  $k = [A]^2$  س

- ٥٢- العبارة الصحيحة فيما يتعلق بسرعة التفاعل الكيميائي:
- تتعتمد سرعة التفاعل على معاملات المتفاعلات في المعادلة الموزونة.
  - تتعتمد سرعة التفاعل على معاملات النواتج في المعادلة الموزونة.
  - وحدة سرعة التفاعل هي (مول/لتر.ث).
  - وحدة سرعة التفاعل هي (لتر/مول.ث).
- ٥٣- العبارة التي لا تتفق ومفهوم رتبة التفاعل هي:
- قيمة عددية صحيحة أو كسرية.
  - تتعتمد على طريقة سير التفاعل ويمكن حسابها عملياً.
  - تساوي عدد مولات المواد المتفاعلة في المعادلة الموزونة.
  - تبين أثر تركيز المتفاعلات في سرعة التفاعل الكيميائي.
- ٥٤- إذا علمت أن قيمة ثابت السرعة ( $k$ ) لتفاعل ما عند درجة حرارة معينة تساوي  $(١,٥ \times ١٠^{-١})$  لتر/مول.ث، وقانون سرعة التفاعل هو:  $k = [A]^x$  فإن قيمة  $x$  تساوي:
- صفر
  - ١
  - ٢
  - ٣

### نظرية التصادم

- ٥٥- اعتماداً على نظرية التصادم تزداد سرعة التفاعل بزيادة درجة الحرارة لأن:
- عدد الجزيئات التي تمتلك طاقة تنشيط يزداد.
  - طاقة التنشيط للتفاعل العكسي تزداد.
  - عدد الجزيئات التي تمتلك طاقة تنشيط يقل.
  - طاقة التنشيط للتفاعل الأمامي تزداد.
- ٥٦- عند حدوث التصادم الفعال وأثناء سير التفاعل يتكون بناء يسمى المعقد المنشط، وهو:
- بناء غير مستقر يمتلك طاقة وضع منخفضة.
  - بناء مستقر يمتلك طاقة وضع عالية.
  - بناء غير مستقر يمتلك طاقة وضع عالية.
  - بناء مستقر يمتلك طاقة وضع منخفضة.



### العوامل المؤثرة في سرعة التفاعل

- ٥٧- العبارة الصحيحة فيما يتعلق بالعوامل المؤثرة في سرعة التفاعل الكيميائي هي:
- تزداد سرعة التفاعل الكيميائي بزيادة طاقة التنشيط للتفاعل.
  - تزداد سرعة التفاعل الكيميائي بزيادة مساحة السطح المعرضة للتفاعل.
  - يزداد زمن ظهور النواتج باستخدام العامل المساعد.
  - يزداد زمن ظهور النواتج بزيادة مساحة السطح المعرضة للتفاعل.

- ٥٨- تفسر نظرية التصادم تأثير العامل المساعد في سرعة التفاعل بأنه مادة تعمل على:
- أ- تقليل التغير في المحتوى الحراري للتفاعل ( $\Delta H$ ).
  - ب- زيادة طاقة التنشيط للتفاعل باتجاهيه الأمامي والعكسي.
  - ج- تقليل طاقة التنشيط للتفاعل باتجاهيه الأمامي والعكسي.
  - د- زيادة التغير في المحتوى الحراري للتفاعل ( $\Delta H$ ).

- ٥٩- يتفاعل الحديد مع حمض الهيدروكلوريك وينتج من تفاعلها غاز الهيدروجين. في أي الحالات الآتية تتصاعد كمية أكبر من غاز الهيدروجين:
- أ- تفاعل برادة حديد كتلتها (٢) غ مع محلول HCl تركيزه (٠,١) مول/لتر.
  - ب- تفاعل قطعة الحديد كتلتها (٢) غ مع محلول HCl تركيزه (٠,١) مول/لتر.
  - ج- تفاعل قطعة الحديد كتلتها (٢) غ مع محلول HCl تركيزه (٠,٢) مول/لتر.
  - د- تفاعل برادة حديد كتلتها (٢) غ مع محلول HCl تركيزه (١) مول/لتر.
- ٦٠- في تفاعل ما إذا كانت كتلة العامل المساعد في بداية التفاعل تساوي (٤) غ، فإن كتلته بعد مرور (٢) دقيقة من بداية التفاعل:
- أ- أقل من (٤) غ.
  - ب- أكبر من (٤) غ.
  - ج- تساوي (٤) غ.
  - د- (صفر) غ.

### التفاعلات الماصة والطاردة للطاقة

- ٦١- الجدول التالي يتضمن بيانات لسير تفاعل ما، اعتماداً على البيانات الواردة في الجدول، فإن قيم (ع، ل) بالكيلوجول على الترتيب هي:

طاقة التنشيط للتفاعل الأمامي (كيلوجول)	طاقة التنشيط للتفاعل العكسي (كيلوجول)	طاقة وضع المواد الناجمة (كيلوجول)	سير التفاعل
٦٠	١٥٠	ع	بدون عامل مساعد
٤٥	ل	٤٠	بوجود عامل مساعد

- أ- ١٧٥ ، ٤٠      ب- ١٣٥ ، ٤٠      ج- ١٧٥ ، ٦٥      د- ١٢٥ ، ٦٥

- ٦٢- في التفاعل الافتراضي:  $A + B \rightarrow 2C + 180KJ$  إذا كانت طاقة وضع المواد الناتجة (٦٠) كيلوجول، وعند استخدام عامل مساعد انخفضت طاقة التنشيط للتفاعل الأمامي بمقدار (٢٠) كيلوجول، وأصبحت طاقة وضع المعقد المنشط (٢٧٠) كيلوجول، فإن طاقة التنشيط للتفاعل العكسي بوجود عامل مساعد تساوي بوحدة الكيلوجول:
- أ- ٢٥٠
  - ب- ٢١٠
  - ج- ١٩٠
  - د- ٢٠٠

- ٦٣- العبارة الصحيحة التي تصف التفاعل الماص للطاقة هي:

- أ- إشارة  $\Delta H$  للتفاعل سالبة.
- ب- طاقة وضع المواد المتفاعلة أقل من طاقة وضع المواد الناتجة.
- ج- التفاعل الأمامي أسهل من التفاعل العكسي.
- د- طاقة التنشيط للتفاعل الأمامي أقل من طاقة التنشيط للتفاعل العكسي.



## طبيعة الروابط في المركبات العضوية

٦٤- عدد روابط سيغما وبائي في جزيء البروبان  $C_3H_4$  على التوالي:

- أ- (٥) ، (٢)      ب- (٤) ، (٢)      ج- (٦) ، (٢)      د- (٦) ، (٣)

## تفاعلات المركبات العضوية

٦٥- في تفاعلات الهلجنة؛ تتفاعل الألكانات مع الهالوجينات بوجود الضوء الذي يعمل على:

- أ- كسر الرابطة بين ذرتي الكربون في المواد المتفاعلة.  
ب- تكوين الرابطة بين ذرة الكربون وذرة الهيدروجين في المواد الناتجة.  
ج- كسر الرابطة بين ذرتي الهالوجين في المواد المتفاعلة.  
د- تكوين الرابطة بين ذرة الكربون وذرة الهالوجين في المواد الناتجة.

٦٦- المادة (X) في التفاعل التالي هي:



- أ-  $CH_2=CH_2$       ب-  $CH_3CHO$       ج-  $CH\equiv CH$       د-  $CH_3CH_2OH$

٦٧- المادة (A) في التفاعل التالي هي:



- أ-  $CH_3CH_2CH_2OH$       ب-  $CH_3CH_2CH_2Cl$   
ج-  $CH_3CH=CH_2$       د-  $CH_3C\equiv CH$

٦٨- إحدى المواد الآتية لا تتأكسد باستخدام العامل المؤكسد PCC وهي:

- أ-  $CH_3CH_2CH_2OH$       ب-  $CH_3CHOHCH_3$   
ج-  $CH_3CH_2CHO$       د-  $CH_3OH$

٦٩- ينتج عن تسخين الإستر  $CH_3COOCH_3$  بوجود  $NaOH$  مركبان عضويان هما:

- أ-  $CH_3COOH + CH_3OH$       ب-  $CH_3COOH + CH_3ONa$   
ج-  $CH_3CONa + CH_3ONa$       د-  $CH_3COONa + CH_3OH$

٧٠- الصيغة البنائية للمركبات X , Y في المخطط التالي هما:



أ-  $K_2Cr_2O_7/H^+$  :Y ، PCC :X

ب-  $PCC$  :Y ،  $H_2SO_4$  :X

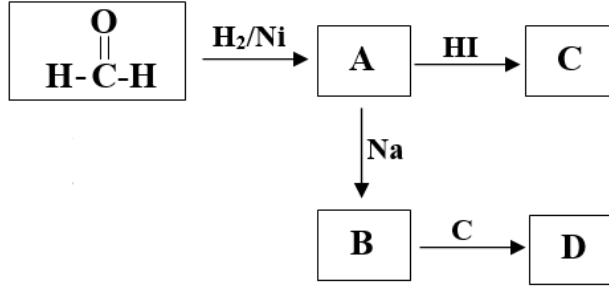
ج-  $H_2/Ni$  :X ،  $K_2Cr_2O_7/H^+$  أو PCC :Y

د-  $PCC$  :Y ،  $K_2Cr_2O_7/H^+$  :X

٧١- يعد تفاعل الحموض الكربوكسيلية مع الكحولات في وسط حمضي من تفاعلات:

- أ- الإضافة.      ب- الهدرجة.      ج- الاستبدال.      د- الحذف.

٧٢- المادة (D) في مخطط التفاعلات التالي هي:



- أ-  $\text{CH}_3\text{CH}_2\text{OH}$       ب-  $\text{CH}_3\text{CHO}$   
 ج-  $\text{CH}_3\text{OCH}_3$       د-  $\text{CH}_3\text{CH}_2\text{ONa}$

### التحضير المخبري

٧٣- يمكن تحضير المركب ١، ٢- ثنائي كلوروبروبان بإحدى الطرق الآتية:

- أ- تفاعل البروبان مع الكلور  $\text{Cl}_2$  بوجود الضوء.  
 ب- تفاعل البروبان مع مولين من الكلور  $\text{Cl}_2$ .  
 ج- تفاعل مول من  $\text{HCl}$  مع البروبين.  
 د- تفاعل البروبين مع مول من الكلور  $\text{Cl}_2$ .



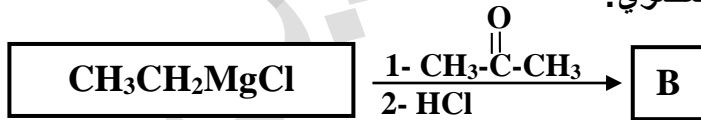
٧٤- جميع المواد الآتية تلزم لتحضير البروبان  $\text{CH}_3\text{CH}_2\text{CH}_3$  من البروبانال  $\text{CH}_3\text{CH}_2\text{CHO}$  ما عدا:

- أ-  $\text{Cl}_2$       ب-  $\text{H}_2\text{SO}_4$       ج-  $\text{H}_2$       د-  $\text{Ni}$

٧٥- واحدة من الطرق الآتية تستخدم لتحضير ١-بروبانول:

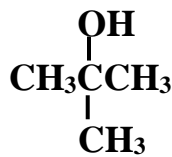
- أ- إضافة الماء في وسط حمضي إلى البروبين  $\text{CH}_3\text{CH}=\text{CH}_2$ .  
 ب- اختزال البروبانول  $\text{CH}_3\text{COCH}_3$  باستخدام  $\text{H}_2/\text{Ni}$ .  
 ج- تفاعل ١-بروموبروبان  $\text{CH}_3\text{CH}_2\text{CH}_2\text{Br}$  مع  $\text{KOH}$ .  
 د- تفاعل تسخين ٢-كلوروبروبان  $\text{CH}_3\text{CH}_2\text{CH}_2\text{Cl}$  مع  $\text{KOH}$ .

٧٦- يمثل التفاعل أدناه تحضير المركب العضوي:



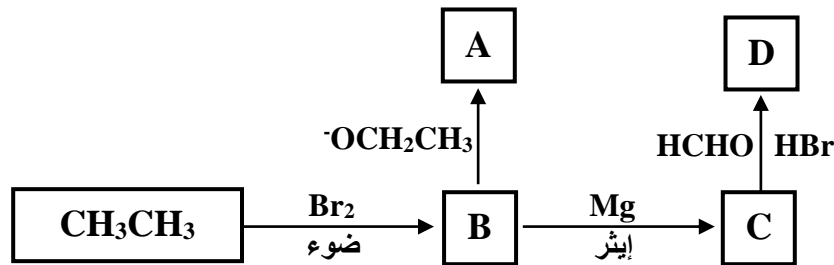
- أ- كحول أولي.      ب- كحول ثانوي.      ج- كحول ثالثي.      د- إستر.

٧٧- عند تحضير المركب المجاور بطريقة إضافة مركب غرينيارد  $\text{RMgCl}$  إلى البروبانول  $\text{CH}_3\text{COCH}_3$ ، فإن مجموعة  $\text{R}$  تمثل:



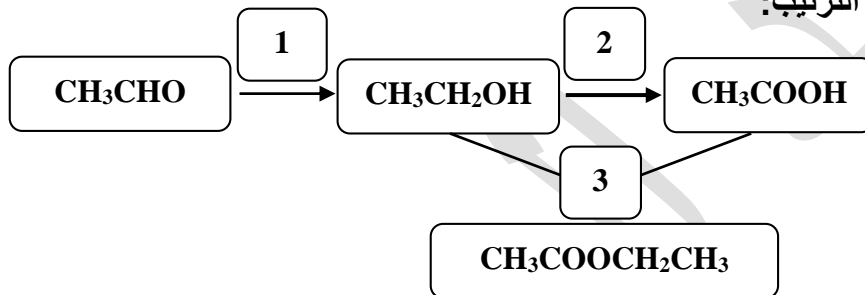
- أ-  $\text{CH}_3$       ب-  $\text{CH}_3\text{CH}_2$   
 ج-  $\text{CH}_3\text{O}$       د-  $\text{CH}_3\text{CH}_2\text{CH}_2$

٧٨- أجريت سلسلة تفاعلات كما هو موضح في المخطط أدناه لتحضير المركبين العضويين (D , A) ابتداءً من الإيثان  $CH_3CH_3$  ، فإن الصيغة البنائية لهما هي:



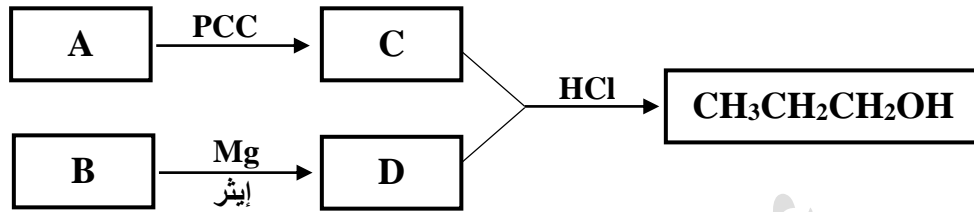
- أ-  $CH_3CH_2COOH : A$  ،  $CH_3CH_2CH_2OH : D$   
 ب-  $CH_3CH_2OCH_3 : D$  ،  $CH_3CH_2CH_2OH : A$   
 ج-  $CH_3CH_2CH_2OH : D$  ،  $CH_3CH_2OCH_2CH_3 : A$   
 د-  $CH_3CH_2OCH_3 : D$  ،  $CH_3CH_2COOH : A$

٧٩- تشير الأرقام (١ ، ٢ ، ٣) في مخطط التفاعلات أدناه إلى أنواع التفاعلات في خطوات تحضير إيثيل إيثانوات، وهي على الترتيب:



- أ- الاستبدال، التأكسد، الإضافة.  
 ب- الإضافة، التأكسد، الاستبدال.  
 ج- الاستبدال، الإضافة، التأكسد.  
 د- الإضافة، الاستبدال، التأكسد.
- ٨٠- جميع التفاعلات الآتية يمكن أن تستخدم في خطوات تحضير المركب العضوي ثنائي إيثيل إيثير  $CH_3CH_2OCH_2CH_3$  من الإيثين  $CH_2=CH_2$  ، ما عدا:
- أ- تفاعل فلز الصوديوم مع الكحول.  
 ب- تفاعل جزيء  $HCl$  مع الإيثين.  
 ج- تفاعل جزيء  $Cl_2$  مع الإيثين.  
 د- تفاعل جزيء  $H_2O$  في وسط حمضي  $H^+$  مع الإيثين.
- ٨١- يمكن تحضير كحول ثانوي بإحدى الطرق الآتية، ما عدا:
- أ- إضافة ميثيل كلوريد المغنيسيوم إلى الإيثانال.  
 ب- اختزال البيوتانون.  
 ج- تسخين ٢-كلوروبروبان مع  $KOH$ .  
 د- إضافة الماء الحمض إلى البروبين.

٨٢- أجريت سلسلة تفاعلات كما هو موضح في المخطط أدناه لتحضير المركبين العضويين  $(\text{CH}_3\text{CH}_2\text{CH}_2\text{OH})$  ابتداءً من المركبين العضويين (A و B) ، فإن الصيغة البنائية لهما هي:



- أ-  $\text{CH}_3\text{CH}_2\text{Cl} : \text{B}$  ،  $\text{CH}_3\text{OH} : \text{A}$   
 ب-  $\text{CH}_3\text{Br} : \text{B}$  ،  $\text{CH}_3\text{CHO} : \text{A}$   
 ج-  $\text{CH}_3\text{CH}_2\text{OH} : \text{B}$  ،  $\text{CH}_3\text{Cl} : \text{A}$   
 د-  $\text{CH}_3\text{Cl} : \text{B}$  ،  $\text{CH}_3\text{OH} : \text{A}$

**التمييز المخبري**

٨٣- إذا كان لديك المخطط أدناه:



يمكن التمييز مخبرياً بين المركبين (A) و (B) باستخدام:

- أ- البروم بوجود الضوء.  
 ب- الصوديوم.  
 ج- محلول تولينز.  
 د- محلول البروم المذاب في رابع كلوريد الكربون.

منهاجي

منعة التعليم العادف



## إجابات الأسئلة

١٠	٩	٨	٧	٦	٥	٤	٣	٢	١
د	أ	أ	ب	د	ب	ب	أ	ج	ب
٢٠	١٩	١٨	١٧	١٦	١٥	١٤	١٣	١٢	١١
د	ج	د	ج	ب	د	د	أ	د	ج
٣٠	٢٩	٢٨	٢٧	٢٦	٢٥	٢٤	٢٣	٢٢	٢١
د	ب	ج	ب	ب	ج	ب	ب	ج	ب
٤٠	٣٩	٣٨	٣٧	٣٦	٣٥	٣٤	٣٣	٣٢	٣١
ب	ج	ب	د	أ	ب	أ	ب	أ	أ
٥٠	٤٩	٤٨	٤٧	٤٦	٤٥	٤٤	٤٣	٤٢	٤١
أ	ب	أ	ب	د	د	ب	أ	د	أ
٦٠	٥٩	٥٨	٥٧	٥٦	٥٥	٥٤	٥٣	٥٢	٥١
ج	د	ج	ب	ج	أ	ج	ج	ج	د
٧٠	٦٩	٦٨	٦٧	٦٦	٦٥	٦٤	٦٣	٦٢	٦١
أ	د	ج	ج	د	ج	ج	ب	ب	ب
٨٠	٧٩	٧٨	٧٧	٧٦	٧٥	٧٤	٧٣	٧٢	٧١
ج	ب	ج	أ	ج	أ	أ	د	ج	ج
							٨٣	٨٢	٨١
							د	أ	ج