

شبكة منهاجي التعليمية

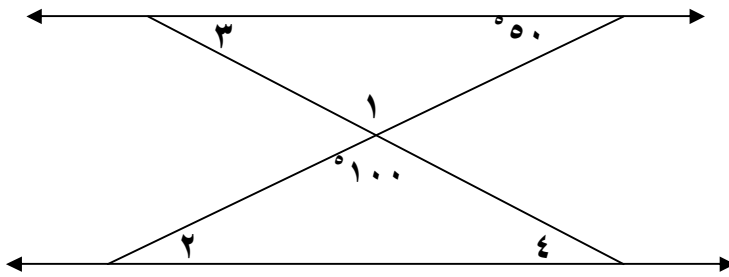
الموضوع: الزوايا المتتامة والمتكاملة (٢).

الصف: السابع.

المبحث: الرياضيات.

إعداد المعلمة: مها شرف.

### السؤال الأول:



$$= 1 >$$

السبب :

$$= 2 >$$

السبب :

$$= 3 >$$

السبب :

$$= 4 >$$

السبب :

### السؤال الثاني:

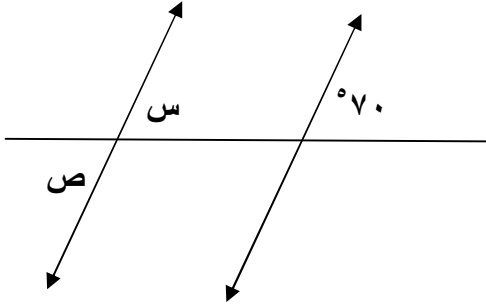
أ) إذا كانت  $1 > + 2 > + 3 > = 180$  وكانت  $2 > = 60$  ،  $1 >$  ،  $2 >$  متتامتان ،

جد قياس  $1 >$  ،  $3 >$  .

ب) زاويتان متكاملتان  $1 >$  ،  $2 >$  ، إذا كانت  $1 > = 3 >$  امثال  $2 >$  ، ما قياس كلا منهما ؟

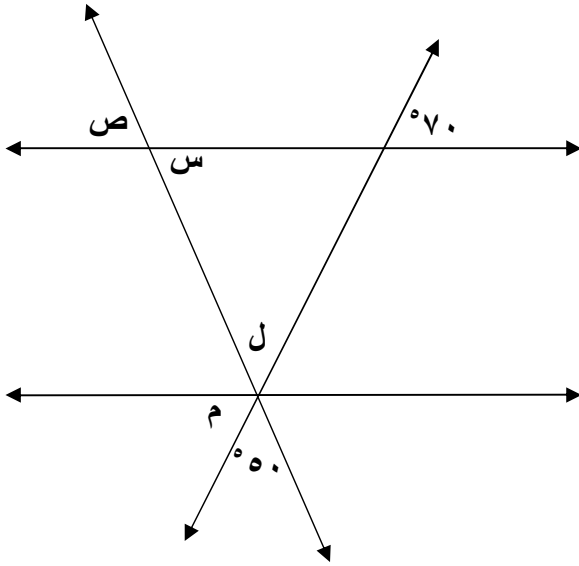
## السؤال الثالث:

جد قياسات الزوايا المشار إليها بالأرقام فيما يلي مع ذكر السبب:



= > س

= > ص

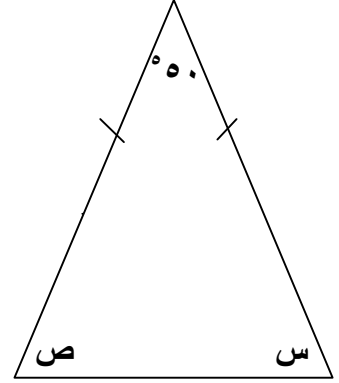


= > س

= > ل

= > ص

= > م

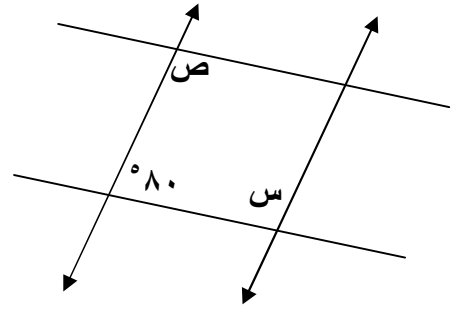


= > س

: السبب

= > ص

: السبب



= > س

: السبب

= > ص

: السبب

تمنياتنا لكم بالتوفيق