

أسئلة الدرس الثاني


إدراج الشرائح


السؤال الأول:


اذكر أربعة من أنواع التخطيطات التي تظهر في الشكل (3-7).


السؤال الثاني:

ما وظائف الأدوات الآتية؟

..... 

..... 

..... 

..... 

السؤال الثالث:

أنشئ عرضاً تقديمياً يتكون من شريحتين على النحو الآتي:

الشريحة (1): تحتوي على المخطط الهيكلي الآتي:

الشريحة (2): تحتوي على جدول فيه أمثلة من عندك عن كل نوعٍ من أنواع الكائنات المبينة في المخطط السابق.