

حل أسئلة كتاب النشاط

نشاط (1):

أستعين بخارطة الفتوحات الإسلامية في عهد الخلفاء الراشدين رضي الله عنهم، ثم ألون:

- امتداد الدولة الإسلامية في عهد عمر بن الخطاب رضي الله عنه بالأخضر.
- امتداد الدولة الإسلامية في عهد عثمان بن عفان رضي الله عنه بالأصفر.



نشاط (2):

أسجّل أسماء المعارك مكان الرقم الدال على موقعها على الخارطة:

1. سُمّيت بفتح الفتوح. (نهاوند)
2. قادها سعد بن أبي وقاص رضي الله عنه. (القادسية)



نشاط (3):

أ- أقرن بين معركة اليرموك ومعركة القادسية من خلال الجدول الآتي:

معركة القادسية	معركة اليرموك	
عمر بن الخطاب	عمر بن الخطاب	الخليفة الذي حدثت في عهده
عام ١٥هـ	عام ١٥هـ	سنة حدوثها
بلاد العراق	بلاد الشام	مكان حدوثها
سعد بن أبي وقاص	خالد بن الوليد	قائد المسلمين
انتصار المسلمين وهزيمة الفرس	انتصار المسلمين وهزيمة الروم	النتيجة

ب- أستنتج من الجدول السابق أن معركة اليرموك ومعركة القادسية تتشابهان في:

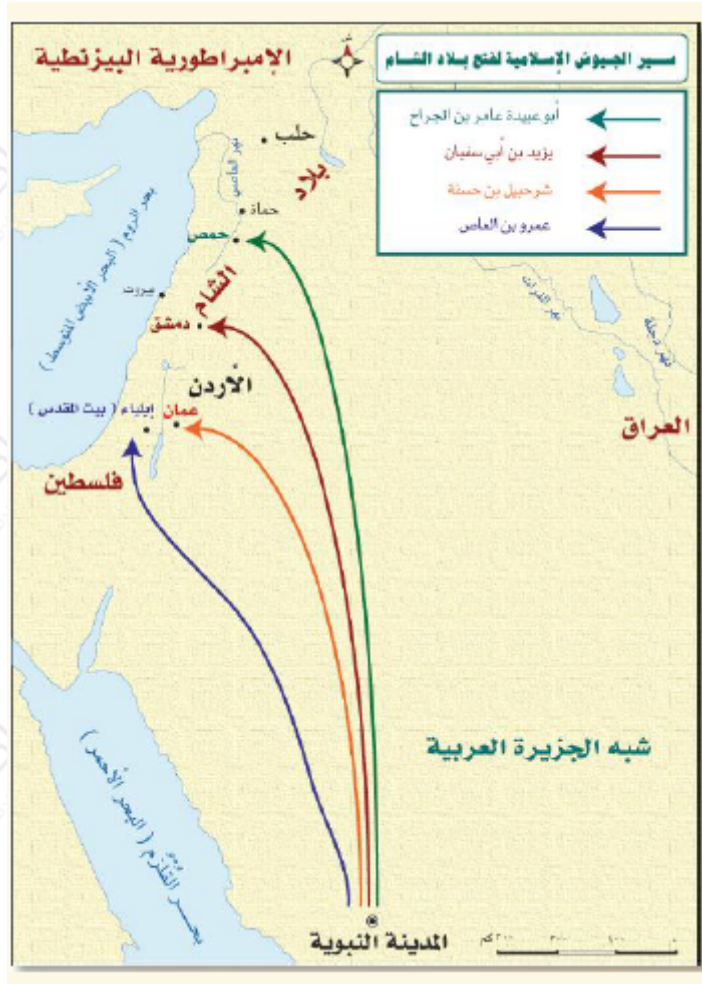
حدثت المعركتان في عهد الخليفة عمر بن الخطاب رضي الله عنه، وفي السنة نفسها، وانتصر فيهما المسلمون.

وتختلفان في:

حدثت معركة اليرموك في بلاد الشام، والقادسية في العراق، قائد المسلمين في اليرموك خالد بن الوليد، وقائد المسلمين في القادسية سعد بن أبي وقاص، وكانت نتيجة معركة اليرموك هزيمة الروم، ومعركة القادسية هزيمة الفرس.

نشاط (4):

أكتب أسماء قادة الجيوش الأربعة التي وجهها أبو بكر الصديق رضي الله عنه على الخارطة.



نشاط (5):

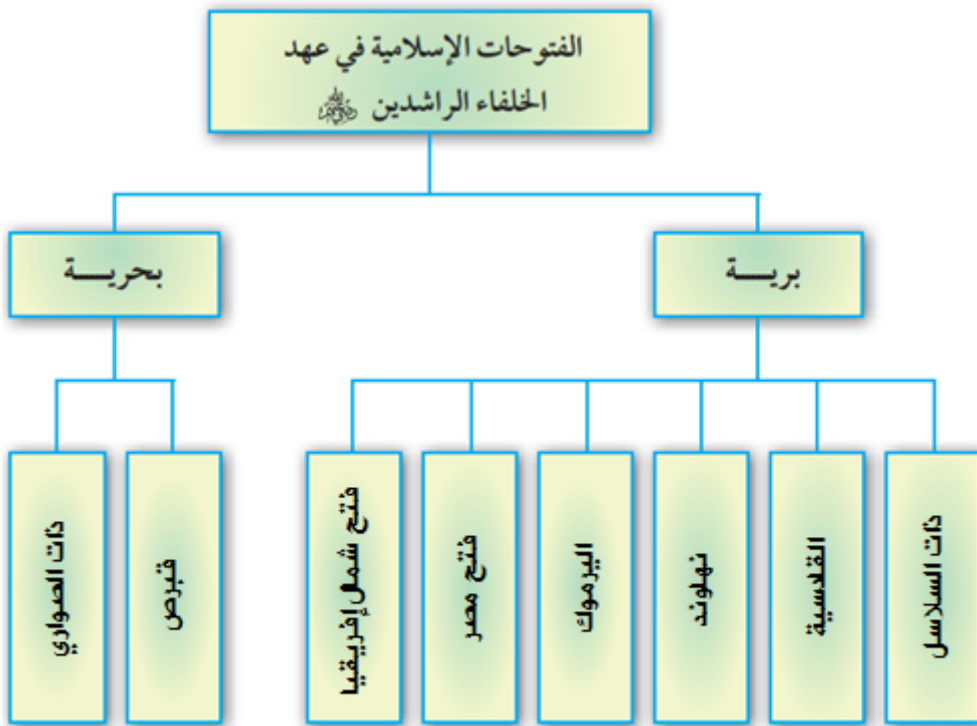
أكتب أسماء المعارك التاريخية على الخارطة الصماء مستعيناً بالخط الزمني.
اليرموك 15 هـ، نهاوند 21 هـ، ذات الصواري 34 هـ.

نشاط (6):

أكمل الشكل التالي:

أصنّف المعارك التالية إلى برية وبحرية في الشكل التالي:

معركة ذات السلاسل - معركة القادسية - معركة اليرموك - معركة نهاوند - فتح مصر - فتح شمال إفريقيا - فتح قبرص - معركة ذات الصواري.



نشاط (7):

أرّكب من الحروف التالية اسم ثلاث معارك انتصر فيها المسلمون في عهد الخلفاء الراشدين رضي الله عنهم:

ن ر أ م ل ه د و ج ي ا ك

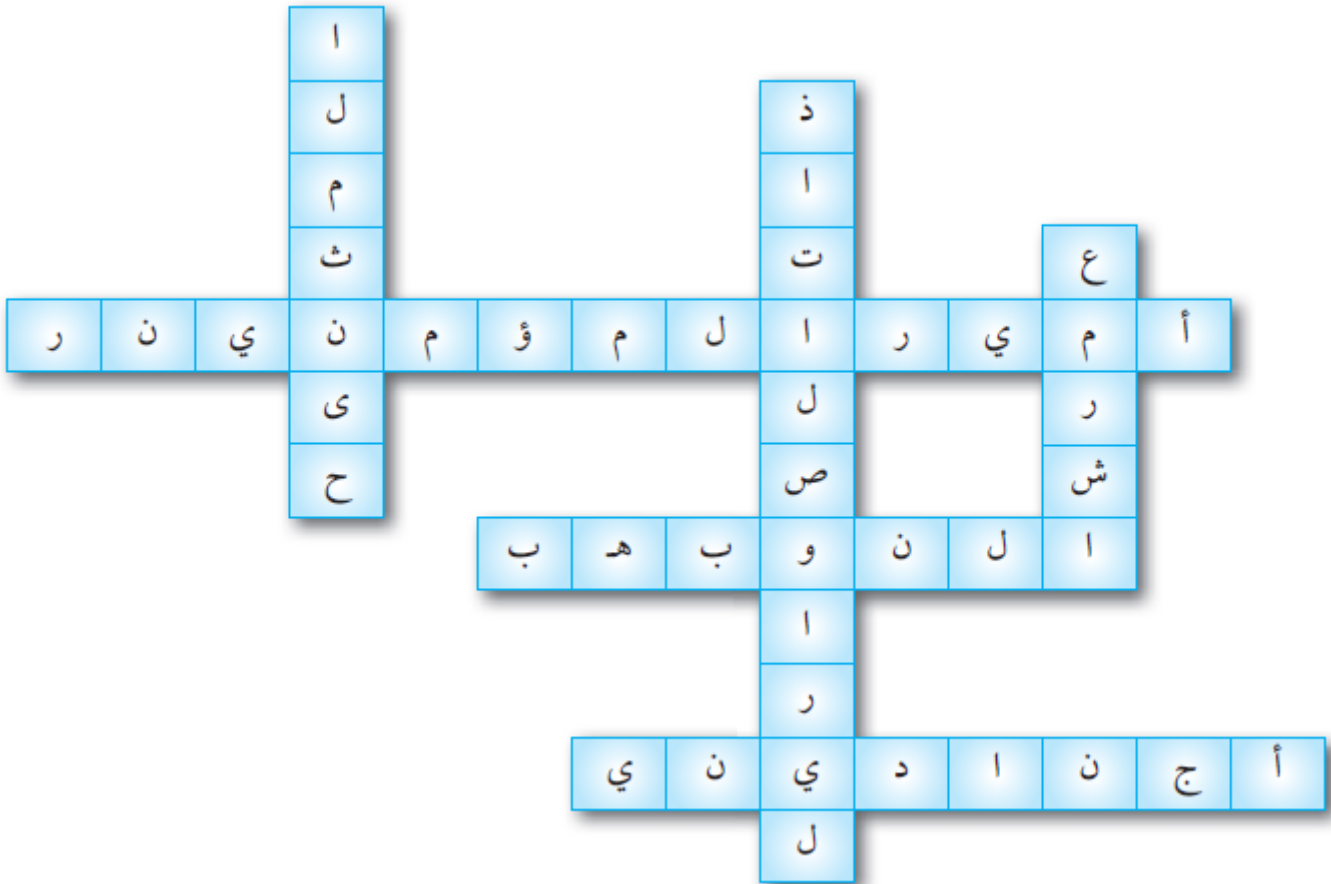
1. أجنادين.

2. اليرموك.

3. نهاوند.

نشاط (8):

أشطب الحروف في المربعات على الشكل التالي لأحصل على أحد القادة الأربعة الذين توجهوا لفتح بلاد الشام:



شرحيل.