

أدرب وأحل المسائل

تكامل اقترانات خاصة

أجد كلاً من التكاملات الآتية:

$$(1) \int (e^{2x-3} - x) dx$$

$$\int (e^{2x-3} - x) dx = \int (e^{2x-3} - x^{1/2}) dx = \frac{1}{2}e^{2x-3} - \frac{2}{3}x^{3/2} + C$$

$$(2) \int (e^{0.5x} - 3e^{-0.5x}) dx$$

$$\int (e^{0.5x} - 3e^{-0.5x}) dx = \int (e^{0.5x} - 3e^{-0.5x}) dx = 2e^{0.5x} + 6e^{-0.5x} + C$$

$$(3) \int (4\sin 5x - 5\cos 4x) dx$$

$$\int (4\sin 5x - 5\cos 4x) dx = -\frac{4}{5}\cos 5x - \frac{5}{4}\sin 4x + C$$

$$(4) \int (3\sec x \tan x - 25x) dx$$

$$\int (3\sec x \tan x - 25x) dx = 3\sec x - \frac{25}{2}x^2 + C$$

$$(5) \int (e^x - 1)e^{2x} dx$$

$$\int (e^x - 1)e^{2x} dx = \int (e^{3x} - e^{2x}) dx = \frac{1}{3}e^{3x} - \frac{1}{2}e^{2x} + C$$

$$(6) \int (\sin (5-3x) + 2 + 4x^2) dx$$

$$\int (\sin (5-3x) + 2 + 4x^2) dx = -\frac{1}{3}\cos (5-3x) + 2x + \frac{4}{3}x^3 + C$$

$$(7) \int (e^x + 1)^2 dx$$

$$\int (e^x + 1)^2 dx = \int (e^{2x} + 2e^x + 1) dx = \frac{1}{2}e^{2x} + 2e^x + x + C$$

$$(8) \int (e^{4-x} + \sin (4-x) + \cos (4-x)) dx$$

$$\int (e^{4-x} + \sin (4-x) + \cos (4-x)) dx = -e^{4-x} - \cos (4-x) + \sin (4-x) + C$$

(9) $\int x^4 - 62x \, dx$

$$\int x^4 - 62x \, dx = \int (12x - 3x) \, dx = 14x^2 - 3\ln |x| + C$$

(10) $\int (3\csc^2(3x+2) + 5x) \, dx$

$$\int (3\csc^2(3x+2) + 5x) \, dx = -\cot(3x+2) + 5\ln |x| + C$$

(11) $\int e^x + 1e^x \, dx$

$$\int e^x + 1e^x \, dx = \int (1 + e^{-x}) \, dx = x - e^{-x} + C$$

(12) $\int e^x e^{x+4} \, dx$

$$\int e^x e^{x+4} \, dx = \ln |e^{x+4}| + C = \ln(e^{x+4}) + C$$

(13) $\int \cos 2x \sin x \cos x + 4 \, dx$

$$\int \cos 2x \sin x \cos x + 4 \, dx = \int \cos 2x \cdot 12 \sin 2x + 4 \, dx = \ln |12 \sin 2x + 4| + C = \ln(12 \sin 2x + 4) + C$$

(14) $\int dx^{5-x^3}$

$$\int dx^{5-x^3} = -3 \int -135 - x^3 \, dx = -3 \ln |5 - x^3| + C$$

(15) $\int 11 - \sin x \, dx$

$$\int 11 - \sin x \, dx = \int 11 - \sin x \times 1 + \sin x \cdot 1 + \sin x \, dx = \int 1 + \sin x \cdot 1 - \sin^2 x \, dx = \int 1 + \sin x \cos^2 x \, dx = \int (\sec^2 x + \tan x \sec x) \, dx = \tan x + \sec x + C$$

(16) $\int \sec^2 x (1 + e^x \cos^2 x) \, dx$

$$\int \sec^2 x (1 + e^x \cos^2 x) \, dx = \int (\sec^2 x + e^x) \, dx = \tan x + e^x + C$$

(17) $\int (2x - 2x) \, dx$

$$\int (2x - 2x) \, dx = 2 \ln |x| - 2x \ln 2 + C$$

(18) $\int \sin 3x \cos 2x \, dx$

$$\int \sin 3x \cos 2x \, dx = 12 \int (\sin 5x + \sin x) \, dx = -110 \cos 5x - 12 \cos x + C$$

$$(2x+33x^2+9x-1) \, dx \quad (19) \int$$

$$|3x^2+9x-1| + C \int 2x+33x^2+9x-1 \, dx = 13 \int 6x+93x^2+9x-1 \, dx = 13 \ln f$$

$$(x^2+x+1x^2+1) \, dx \quad (20) \int$$

$$x^2+x+1x^2+1 \, dx = \int (x^2+1x^2+1+xx^2+1) \, dx = \int (1+12 \times 2xx^2+1) \, dx = x \int (x^2+1) + C + 12 \ln$$

$$(x) \, dx \quad (21) \int x \csc x + (\sin^2 x \sin 2 \cos + 1) \int$$

$$x - cx) \, dx = -\cot x + \sin x \csc x + \cot x) \, dx = \int (\csc^2 x \csc x + \sin^2 x \sin 2 \cos + 1) \int x + Cx - \cos \sec$$

$$(x)^2 \, dx \quad (22) \int x + \tan \sec) \int$$

$$x \tan x + 2 \sec x) \, dx = \int (\sec^2 x + \tan^2 x \tan x + 2 \sec x)^2 \, dx = \int (\sec^2 x + \tan \sec) \int x - x + Cx + 2 \sec x - 1) \, dx = 2 \tan x \tan x + 2 \sec x - 1) \, dx = \int (2 \sec^2 x + \sec^2 n$$

$$(e^x - e^{-x} - x e^x + e^{-x}) \, dx \quad (23) \int$$

$$(e^x + e^{-x}) + C \int e^x - e^{-x} - x e^x + e^{-x} \, dx = \ln f$$

$$(x^2 x^3 - 3) \, dx \quad (24) \int$$

$$|x^3 - 3| + C \int 2x^3 - 3 \, dx = 13 \int 3x^2 x^3 - 3 \, dx = 13 \ln f$$

$$(x) \, dx \quad (25) \int x \cos x - 6 \sin x - \sin^2 9 \cos^2) \int$$

$$x) \, dx \times \cos x) - 6 \sin x - (1 - \cos^2 x) \, dx = \int (9 \cos^2 x \cos x - 6 \sin x - \sin^2 9 \cos^2) \int 2x) \, dx = \int (5 + 2x^2) - 1 - 3 \sin x) \, dx = \int (10(1 + \cos x \cos x - 1 - 6 \sin = \int (10 \cos^2 2x + 32 \cos^2 x) \, dx = 4x + 52 \sin^2 x - 3 \sin^2 x) \, dx = \int (4 + 5 \cos^2 x - 1 - 3 \sin^2 5 \cos 2x + C$$

$$(x) \, dx \quad (26) \int x - \sin^4 \cos^4) \int$$

$$xx - \sin^2 x) \, dx = \int (\cos^2 x + \sin^2 x)(\cos^2 x - \sin^2 x) \, dx = \int (\cos^2 x - \sin^4 \cos^4) \int$$

$$2x + C \int 2x dx = \int 12 \sin(x) dx = \int \cos(x) dx$$

أجد قيمة كل من التكاملات الآتية:

$$\int_0^{\pi/2} (12x dx + 27 \int_0^{\pi/2} 12x dx + \int_0^{\pi/2} \cos(x) dx)$$

$$0) = 4\pi^2 - \sin(12x) \Big|_0^{\pi} = 4(\sin(12x) dx = 4 \sin(0) \pi^2 \cos(x) \Big|_0^{\pi/2}$$

$$\int_0^{\pi/2} (x) dx + \int_0^{\pi/2} 2\pi |\sin(x)| dx$$

$$\int_0^{\pi/2} x dx + \int_0^{\pi/2} 2\pi - \sin(x) dx = \int_0^{\pi/2} \pi \sin(x) dx, \pi < x \leq 2\pi \int_0^{\pi/2} 2\pi |\sin(x)| dx, 0 \leq x \leq \pi - \sin(x) = \{ \sin(x) \Big|_0^{\pi} = -(-2) + 1 - 2\pi - \cos(0) + \cos(\pi) - \cos(x) \Big|_0^{\pi/2} = -(\cos(x) \Big|_0^{\pi} + \cos(x) dx = -\cos(x) \Big|_0^{\pi} - 1) = 4$$

$$\int_0^{\pi/3} (x dx + 29\pi/6 \pi/33 \tan^2(x) dx)$$

$$\int_0^{\pi/3} (x dx + 29\pi/6 \pi/33 \tan^2(x) dx) = \int_0^{\pi/3} (x dx + 29\pi/6 \pi/33 (\sec^2(x) - 1) dx) = \int_0^{\pi/3} (x dx + 29\pi/6 \pi/33 \sec^2(x) dx) - \int_0^{\pi/3} 29\pi/6 \pi/33 dx = \left(\frac{x^2}{2} + \frac{29\pi}{6 \cdot 33} \tan(x) \right) \Big|_0^{\pi/3} - \left(\frac{29\pi}{6 \cdot 33} x \right) \Big|_0^{\pi/3} = \left(\frac{(\pi/3)^2}{2} + \frac{29\pi}{6 \cdot 33} \tan(\pi/3) \right) - \left(\frac{29\pi}{6 \cdot 33} \cdot \frac{\pi}{3} \right) = \frac{\pi^2}{18} + \frac{29\pi}{6 \cdot 33} \sqrt{3} - \frac{29\pi^2}{6 \cdot 33}$$

$$\int_0^2 (1e^{8x} x^2 + 1) dx + 30 \int_0^2 (2x) dx$$

$$\int_0^2 (1e^{8x} x^2 + 1) dx + 30 \int_0^2 (2x) dx = 4 \ln(e^2 + 1) - 4 \ln|x^2 + 1| \Big|_0^2 + 4 \int_0^2 1e^{8x} x^2 + 1 dx = 4 \int_0^2 1e^{2x} x^2 + 1 dx = 4 \ln \int_0^2 (e^2 + 12)$$

$$\int_0^{\pi/6} (x dx + 313x \cos(0\pi/6) \sin(x) dx)$$

$$\int_0^{\pi/6} (2x) dx + \int_0^{\pi/6} (104x - 14 \cos(2x)) dx = (-18 \cos(4x) + \sin(x) dx = 12 \int_0^{\pi/6} (\sin(3x) \cos(0\pi/6) \sin(x) dx) = 5160 - 14 \cos(2\pi/6) - (-18 \cos(4\pi/6) - 14 \cos(\pi/6) = -18 \cos$$

$$\int_0^{\pi/4} (x dx + 32x^1 + \cot^2(\pi/4\pi/3) \cot^2(x) dx)$$

$$\int_0^{\pi/4} x dx + \int_0^{\pi/4} 32x^1 dx + \int_0^{\pi/4} \cot^2(x) dx = \int_0^{\pi/4} \pi^4 \pi^3 \cos(2x) \csc(2x) dx = \int_0^{\pi/4} \pi^4 \pi^3 \cot(2x) dx = \int_0^{\pi/4} \pi^4 \pi^3 \cot(2x) dx = \int_0^{\pi/4} \pi^4 \pi^3 (1 + \cos(x)) dx = \int_0^{\pi/4} \pi^4 \pi^3 \cos(2x) (1 + \sin(2x) \sin(2x) = \int_0^{\pi/4} \pi^4 \pi^3 \cos(2x) dx = \left(\frac{\pi^4 \pi^3}{2} \sin(2x) \right) \Big|_0^{\pi/4} = \frac{\pi^4 \pi^3}{2} (2 - 0) = \pi^4 \pi^3 = \pi^6 + 14 \sin(x) = 12(x + 12 \sin$$

$$\int_0^3 (x - 5x) dx + 33 \int_0^3 (03) dx$$

$$\int_0^3 (x - 5x) dx + 33 \int_0^3 (03) dx = 92 - 124 \ln 5 - (0 - 1 \ln 5) \Big|_0^3 = 92 - 125 \ln(x - 5x) dx = (12x^2 - 5x \ln) \Big|_0^3 = 92 - 125 \ln 5$$

$$\int_0^4 (x^2 - 4x + 3) dx$$

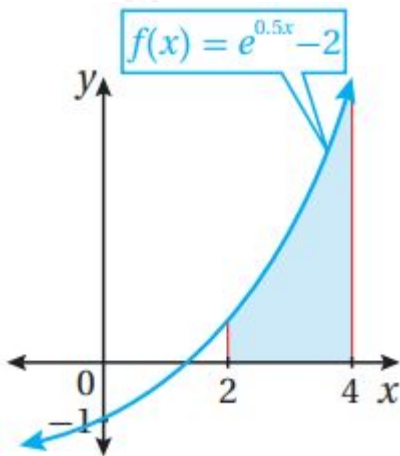
$$\begin{aligned} x^2 - 4x + 3 &= \begin{cases} x^2 - 4x + 3, & x < 1 \\ -x^2 + 4x - 3, & 1 \leq x \leq 3 \\ x^2 - 4x + 3, & x > 3 \end{cases} \\ \int_0^4 (x^2 - 4x + 3) dx &= \int_0^1 (x^2 - 4x + 3) dx + \int_1^3 (-x^2 + 4x - 3) dx + \int_3^4 (x^2 - 4x + 3) dx \\ &= (13x^3 - 2x^2 + 3x) \Big|_0^1 + (-13x^3 + 2x^2 - 3x) \Big|_1^3 + (13x^3 - 2x^2 + 3x) \Big|_3^4 \\ &= 13 - 2 + 3 - 0 + (-9 + 18 - 9) - (-13 + 2 - 3) + 643 - 32 + 12 \end{aligned}$$

$$\int_0^4 (x - 3) dx$$

$$\begin{aligned} x - 3 &= \begin{cases} 3 - x, & x \leq 3 \\ x - 3, & x > 3 \end{cases} \\ \int_0^4 (x - 3) dx &= \int_0^3 (3 - x) dx + \int_3^4 (x - 3) dx \\ &= \int_0^3 3 dx - \int_0^3 x dx + \int_3^4 x dx - \int_3^4 3 dx \\ &= 12x \Big|_0^3 - \frac{1}{2}x^2 \Big|_0^3 + \frac{1}{2}x^2 \Big|_3^4 - 3x \Big|_3^4 \\ &= 36 - \frac{9}{2} + \frac{16}{2} - \frac{9}{2} - 12 + 9 = 132 \end{aligned}$$

(36) إذا كان $f(x) = \begin{cases} x^2 + 4, & x < 0 \\ 4 - x, & x \geq 0 \end{cases}$ ، فأجد قيمة: $\int_{-1}^1 f(x) dx$.

$$\begin{aligned} \int_{-1}^1 f(x) dx &= \int_{-1}^0 (x^2 + 4) dx + \int_0^1 (4 - x) dx \\ &= (\frac{1}{3}x^3 + 4x) \Big|_{-1}^0 + (4x - \frac{1}{2}x^2) \Big|_0^1 \\ &= 0 - (-\frac{1}{3} - 4) + 4 - \frac{1}{2} - 0 = 4\frac{7}{6} \end{aligned}$$



(37) أجد مساحة المنطقة المظللة بين المحور x ومنحنى الاقتران: $f(x) = e^{0.5x} - 2$ في الشكل المجاور.

$$A = \int_2^4 (e^{0.5x} - 2) dx = (2e^{0.5x} - 2x) \Big|_2^4 = 2e^2 - 8 - (2e - 4) = 2e^2 - 2e - 4$$

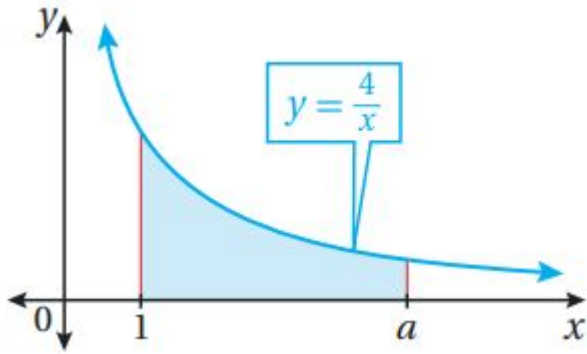
(38) إذا كان: $\int \frac{1}{2ax^2 + 1} dx = \ln |x| + a$ ، فأجد قيمة الثابت a ، حيث: $a > 0$.

$$\begin{aligned} a &= 4a^3a - 2a - \ln|x| \Big|_a^3a = 6a + \ln a \\ \int \frac{1}{2ax^2 + 1} dx &= \int \frac{1}{a(2x^2 + \frac{1}{a})} dx = \frac{1}{a} \int \frac{1}{2x^2 + \frac{1}{a}} dx \\ &= \frac{1}{a} \int \frac{1}{2(x^2 + \frac{1}{2a})} dx = \frac{1}{2a} \int \frac{1}{x^2 + \frac{1}{2a}} dx \\ &= \frac{1}{2a} \ln \left| \frac{x + \sqrt{\frac{1}{2a}}}{x - \sqrt{\frac{1}{2a}}} \right| + C \end{aligned}$$

(39) أثبت أن: $\int \frac{20axx^2 + a^2}{x^2 + a^2} dx = \ln |x^2 + a^2| + C$ ، حيث: $a \neq 0$.

$$\int \frac{20axx^2 + a^2}{x^2 + a^2} dx = 12 \int \frac{0axx^2 + a^2}{x^2 + a^2} dx = 12 \ln |x^2 + a^2| + C$$

$$22 = \ln(2)) = 12 \ln$$



(40) يبين الشكل المجاور منحنى الاقتران: $f(x) = 4/x$. إذا كانت مساحة المنطقة المحصورة بين منحنى الاقتران $f(x)$ ، والمحور x ، والمستقيمين: $x=1, x=a$ ، هي 10 وحدات مربعة، فأجد قيمة الثابت a .

$$a = 53 \Rightarrow a = e^{52} \quad a = 10 \Rightarrow \ln a \Rightarrow 4 \ln 1 = 4 \ln a - 4 \ln |x| \quad |1a = 4 \ln A = \int_1^a 4/x dx = 4 \ln$$

(41) إذا كان: $\int \cos(x) dx = \sin(x) + C$ ، وكان: $f(\pi) = 3$ ، فأجد $f(0)$.

$$3\pi^2(12\pi + \pi) + C = 2 \sin(12x + \pi) + C \quad f(\pi) = 2 \sin(12\pi + \pi) + C = 2 \sin(\pi) + C = 0 + C = C = 3$$

$$\pi + 5 = 5(12x + \pi) + 5 \Rightarrow f(0) = 2 \sin + C = -2 + C \Rightarrow C = 5 \Rightarrow f(x) = 2 \sin$$

(42) إذا كان: $\int \sin(x) dx = -\cos(x) + C$ ، وكان: $y = 1$ عندما $x = \pi/4$ ، فأثبت أنه يمكن كتابة y في صورة: $2x^2 y = 1 + \sin$.

$$(\pi^2 - 2x) + Cy |_{x=\pi/4} = 12(\pi^2 - 2x) - 2 + C = 12 \cos(\pi^2 - 2x) dx = -\cos y = \int \sin$$

$$2x + 1(\pi^2 - 2x) + 12 \Rightarrow y = 12 \sin(\pi^2 - \pi^2) + C = 12 + C \Rightarrow C = 12 \Rightarrow y = 12 \cos$$

$$2x^2 \Rightarrow y = 1 + \sin$$

(43) يمثل الاقتران: $dy/dx = e^{2x} - 2e^{-x}$ ميل المماس لمنحنى الاقتران y . أجد قاعدة الاقتران y إذا علمت أن منحناه يمر بالنقطة $(0, 1)$.

$$y = \int (e^{2x} - 2e^{-x}) dx = 1/2 e^{2x} + 2e^{-x} + C \quad y |_{x=0} = 1/2 + 2 + C = 5/2 + C \Rightarrow C = -3/2$$

$$\Rightarrow y = 1/2 e^{2x} + 2e^{-x} - 3/2$$

(44) إذا كان: $\int (9 + \sin^2(x)) dx = a\pi + b\pi/9$ ، فأجد قيمة الثابتين النسبيين: a و b .

$$\pi^3 = 8\pi^3 - \pi + 13 \cos(3x) |_{\pi/9} = 9\pi - 13 \cos(3\pi/9) = 9\pi - 13 \cos(\pi) = 9\pi + 13$$

$$+ 13 + 16 = 8\pi + 12 \Rightarrow 8\pi + 12 = a\pi + b$$

ونظراً لأن a و b نسبيان، فلا يوجد حل لهذه المعادلة سوى أن يكون: $a = 8, b = 12$

(45) يمثل الاقتران: $x f'(x) = \cos^2(x)$ ميل المماس لمنحنى الاقتران $f(x)$. أجد قاعدة

الاقتران f إذا علمت أن يمر بنقطة الأصل.

$$2x) + Cf(0) = 12(0 + 12\sin^2 x) dx = 12(x + 12\sin x) dx = 12 \int (1 + \cos f(x)) = \int \cos 2x$$

$$2x(0) + C(0) = 0 + C \Rightarrow C = 0 \quad f(x) = 12x + 14\sin x$$

يتحرك جسيم في مسار مستقيم، وتعطى سرعته المتجهة بالاقتران: $v(t) = e^{-2t}$ ، حيث t الزمن بالثواني، و v سرعته المتجهة بالمتري لكل ثانية. إذا كان الموقع الابتدائي للجسيم هو $3m$ ، فأجد كلاً مما يأتي:

(46) موقع الجسيم بعد t ثانية.

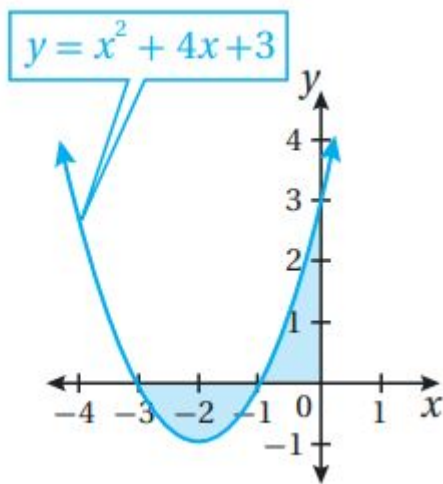
$$s(t) = \int v(t) dt = \int e^{-2t} dt = -\frac{1}{2}e^{-2t} + C \quad s(0) = -\frac{1}{2} + C = 3 \Rightarrow C = 7.5$$

$$s(t) = -\frac{1}{2}e^{-2t} + 7.5$$

(47) موقع الجسيم بعد 100 ثانية.

$$s(100) = -\frac{1}{2}e^{-200} + 7.5 \approx 7.5m$$

48



بيئة: في دراسة تناولت أحد أنواع الحيوانات المهددة بالانقراض في غابة، تبين أن عدد حيوانات هذا النوع ($P(t)$) يتغير بمعدل: $P'(t) = -0.51e^{-0.03t}$ ، حيث t الزمن بالسنوات بعد بدء الدراسة:

(48) أجد قاعدة الاقتران ($P(t)$) عند أي زمن t ، علماً بأن عدد حيوانات هذا النوع عند بدء الدراسة هو 500 حيوان.

$$P(t) = \int -0.51e^{-0.03t} dt = -\frac{0.51}{-0.03}e^{-0.03t} + C = 17e^{-0.03t} + C$$

$$P(0) = 17 + C = 500 \Rightarrow C = 483 \quad P(t) = 17e^{-0.03t} + 483$$

(49) أجد عدد الحيوانات بعد 10 سنوات من بدء الدراسة، مقرباً إجابتي إلى أقرب عدد صحيح.

$$P(10)=17e^{-0.3}+483\approx 496$$



طب: في تجربة لدواء جديد أعطي لمريض لديه ورم حميد، حجمه 30cm^3 ، تبين أن حجم الورم بعد t يوماً من بدء التجربة يتغير بمعدل: $P'(t)=0.15-0.9e^{0.006t}$ مقيساً بوحدة (cm^3/day) :

(50) أجد قاعدة حجم الورم بعد t يوماً من بدء التجربة.

$$P(t)=\int(0.15-0.9e^{0.006t})dt=0.15t-0.90.006e^{0.006t}+C=0.15t-150e^{0.006t}+C$$

$$P(0)=-150+C=30\Rightarrow C=180$$

$$P(t)=0.15t-150e^{0.006t}+180$$

(51) أجد حجم الورم بعد 10 أيام من بدء التجربة.

$$P(10)=1.5-150e^{0.06}+180\approx 22.2\text{cm}^3$$