

أُتَدْرَبُ وَأُحِلُّ الْمَسَائِلَ

الأعداد السالبة


 منهاجي


 أُتَدْرَبُ
 وَأُحِلُّ الْمَسَائِلَ

1 أُكْتُبُ الْعِدَدَ الَّذِي يُمَثِّلُ الْمَوْقِفَ، مُوَضِّحًا مَاذَا يُمَثِّلُ الصُّفْرُ فِي كُلِّ مَوْقِفٍ:

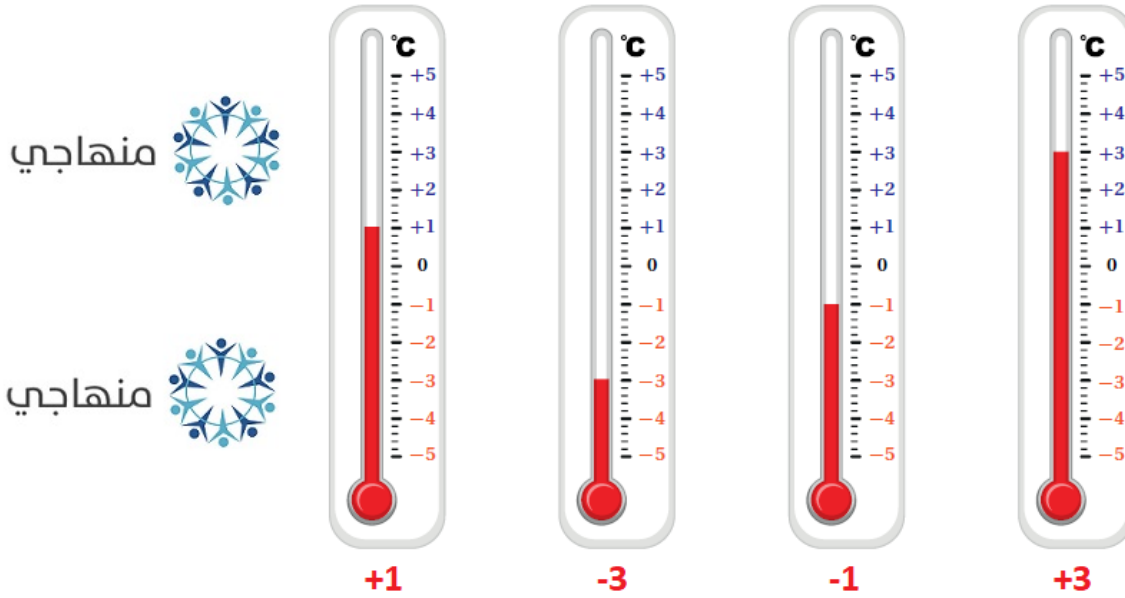
الموقف	العدد الذي يُمثِّلُ الموقفَ	ماذا يُمثِّلُ الصُّفْرُ في الموقفِ؟
سَحَبْتُ مَهَا 50 دِينَارًا مِنْ رَصِيدِهَا.	-50	عدم السحب من الرصيد
ارْتِفَاعُ مَدِينَةٍ عَنْ سَطْحِ الْبَحْرِ 100 m.	100	سطح البحر



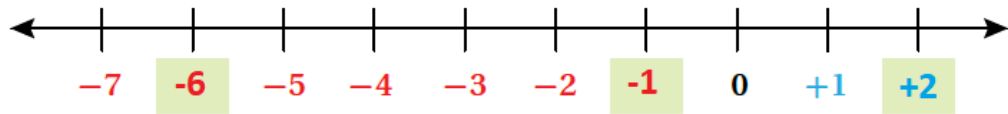
2 تُعَدُّ قَرْيَةٌ أَوْ مِيَاكُونَ فِي سِيْبِيرِيَا أَكْثَرَ الْمَنَاطِقِ الْمَأْهُولَةِ بِشَكْلِ دَائِمٍ بُرُودَةً عَلَى الْأَرْضِ، وَتَنْخَفِضُ دَرَجَةُ الْحَرَارَةِ فِيهَا إِلَى مَا دُونَ 60°C

تَحْتَ الصُّفْرِ. مَا الْعِدَدُ الْمُنَاسِبُ لِيُوصَفِ دَرَجَةَ الْحَرَارَةِ هَذِهِ؟ -60°C

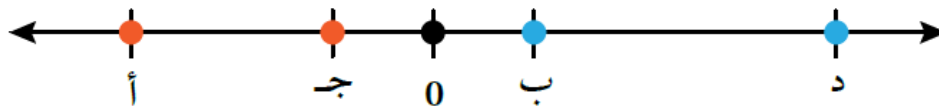
3 أَكْتُبْ دَرَجَةَ الحَرَارَةِ الَّتِي يُشِيرُ إِلَيْهَا مِيزَانُ الحَرَارَةِ فِي كُلِّ مِمَّا يَأْتِي:



4 أَكْمِلْ خَطَّ الأَعْدَادِ الآتِي؛ بِوَضْعِ العَدَدِ المُناسِبِ فِي □ :



تَحْلِيلٌ: إِذَا كَانَتِ الحُرُوفُ (أ، ب، ج، د) تُمَثَّلُ أَعْدَادًا عَلَى خَطِّ الأَعْدَادِ أَذْنَاهُ، فَأُجِيبُ عَمَّا يَأْتِي:



5 ما الحُرُوفُ الَّتِي تُمَثَّلُ عَدَدًا سَالِبًا؟ أُبَرِّرُ إِجَابَتِي. أ، ج؛ لِأَنَّهَا أَقَلُّ مِنْ صِفْرٍ أَوْ عَلَى يَسَارِ الصِّفْرِ.

6 ما الحُرُوفُ الَّتِي تُمَثَّلُ عَدَدًا مُوجِبًا؟ أُبَرِّرُ إِجَابَتِي. ب، د؛ لِأَنَّهَا أَكْبَرُ مِنْ صِفْرٍ.

7 هَلِ الحُرُوفَانِ (ب، ج) لَهُمَا البُعْدُ نَفْسُهُ عَنِ الصِّفْرِ؟ نَعَمْ.