

أسئلة المحتوى وإجاباتها

نظرية بور لذرة الهيدروجين

أتأمل الصورة صفحة (7):

• تدور الإلكترونات حول النواة في مستوياتٍ مُحدَّدةٍ من الطاقة، فما طاقة هذه المستويات؟

تتوزَّع الإلكترونات في الذرة على مستويات من الطاقة، وكل إلكترون يمتلك مقدارًا من الطاقة مساويًا لمقدار طاقة المستوى الموجود فيه.

• ما دلائل انتقال الإلكترون بين المستويات المختلفة للطاقة في الذرة؟
يُعَدُّ طيف الانبعاث أو طيف الامتصاص أحد أهم الدلائل على انتقال الإلكترونات بين مستويات الطاقة.

تجربة استهلاكية صفحة (9):

الطيف الذري

التحليل والاستنتاج:

1- كيف يظهر الضوء الصادر عن المصباح على الشاشة البيضاء؟ أصف ذلك.

يظهر ضوء المصباح العادي على الشاشة البيضاء في صورة مجموعة من الألوان المتتابعة المتداخلة على شكل قوس المطر، ويسمى الطيف المتصل.

2- أصف الضوء الصادر عن أنبوب التفريغ.

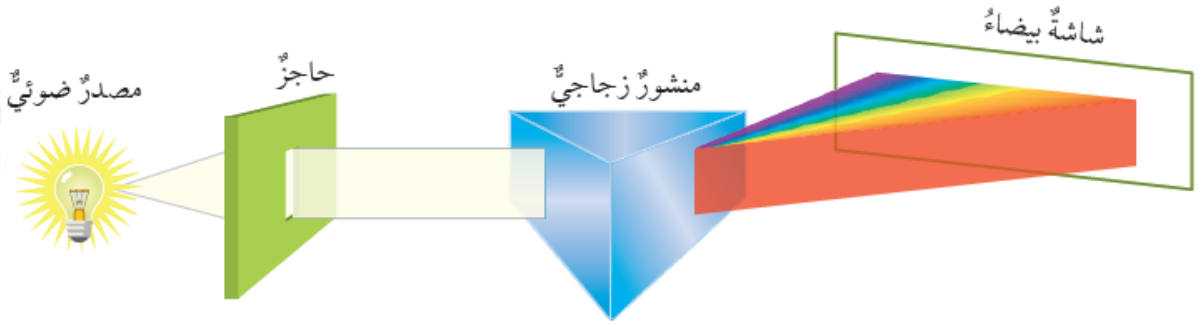
يظهر الضوء الصادر عن أنبوب التفريغ في صورة مجموعة من الخطوط الملونة المتباعدة، ويسمى الطيف المنفصل.

3- ما الفرق بين ألوان الضوء الصادر في كلتا الحالتين؟

الضوء العادي: سلسلة من الألوان المتتابعة المتداخلة، من دون وجود حد فاصل بين اللون واللون الذي يليه.

الضوء الصادر عن أنبوب التفريغ: مجموعة من الخطوط، لكل منها لون خاص به يمكن تمييزه من غيره.

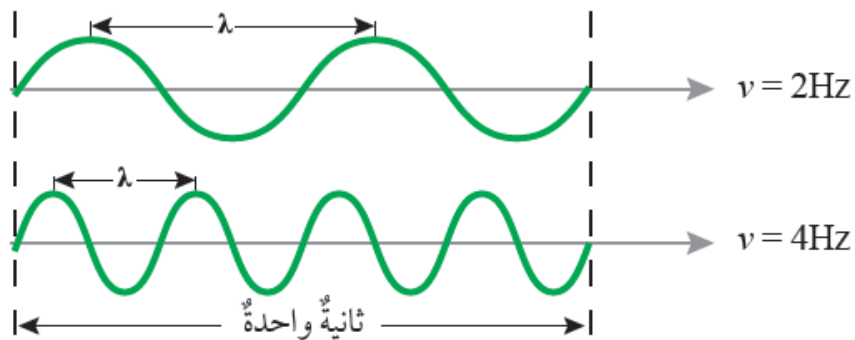
الشكل (2) الطيف المستمر صفحة (11):



أفسر سبب تشتت الضوء بعد خروجه من المنشور.

عندما ينتقل الضوء بين وسطين مختلفين في الكثافة (مثل: الماء، والهواء)، فإن الأطوال الموجية المختلفة تنكسر (تنحرف) عن مسارها بزوايا مختلفة بناءً على تردد الإشعاع الضوئي وطوله؛ لذا يتشتت الضوء بعد خروجه من المنشور.

الشكل (4) التردد وعلاقته بطول الموجة صفحة (13):



أقارن: أيهما أكبر: طول الموجة الأولى أم طول الموجة الثانية؟

الموجة الأولى هي الأطول.

أفكر صفحة (15):

لماذا يختلف الطيف الذري من عنصر إلى آخر؟

بسبب اختلاف تركيب الذرة وبنيتها من عنصر إلى آخر، واختلاف عدد البروتونات، ومستويات الطاقة، وكيفية توزيع الإلكترونات فيها.

✓ أتتحق صفحة (15):

أقارن بين الضوء الذي يظهر في الطيف المتصل والضوء الذي يظهر في الطيف المنفصل.

الطيف المتصل ينتج من تحليل الضوء العادي أو ضوء الشمس خلال منشور زجاجي على شكل حزمة من الأشعة الملونة المتتابعة من دون ظهور حدود فاصلة واضحة بينها.

أما الطيف المنفصل فينتج من تحليل الضوء الصادر عن الذرات المثارة، مثل ضوء مصباح الصوديوم، أو ضوء مصباح الهيدروجين، ويظهر على شكل عدد من الخطوط الملونة المتباعدة التي يمتاز كل منها بطول موجة وتردد خاص به.

تجربة (1) صفحة (15):

اختلاف طيف الانبعاث للفلزات المختلفة

التحليل والاستنتاج:

1- هل يختلف لون الطيف من فلز إلى آخر في المركبات السابقة؟

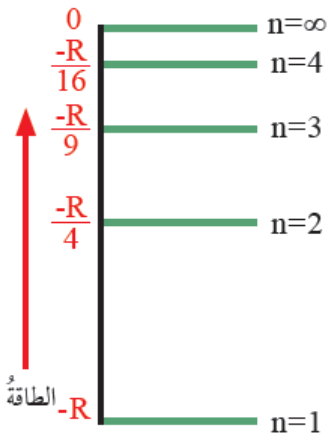
نعم، يختلف.

2- اعتماداً على ألوان الطيف المرئي، ما العلاقة بين لون طيف الفلز وطاقته؟

كلما أصبح لون الطيف مائلاً إلى اللون الأزرق كانت طاقته أعلى.

3- ما سبب اختلاف طاقة طيف الانبعاث الصادر عن ذرات الفلزات المختلفة؟

إجابات محتملة: اختلاف تركيب الذرات، اختلاف أعدادها الذرية، اختلاف عدد إلكتروناتها، اختلاف طاقة المستويات، أو مستويات الطاقة فيها.



الشكل (7): صفحة (16):

مستويات الطاقة في ذرة الهيدروجين.

أستنتج العلاقة بين رقم المستوى الرئيس في ذرة الهيدروجين وفرق الطاقة بين المستويات

n كلما زاد رقم المستوى الرئيس () زادت طاقته، وأصبحت المستويات أكثر قرباً من بعضها، وقلّ فرق الطاقة بينها.