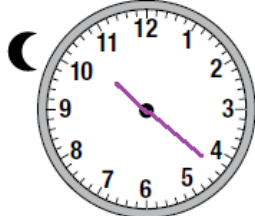




أسئلة كتاب التمارين


قبل الظهر، بعد الظهر

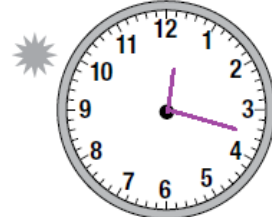
أرسم عقربي الساعة أو أكتب الوقت في الساعة الرقمية، ثم أحدد p.m. أو a.m.:

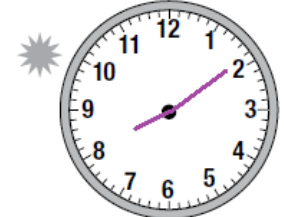
1  a.m. p.m.
10:22

2  a.m. p.m.
7:09

3  a.m. p.m.
9:52

4  a.m. p.m.
8:45

5  a.m. p.m.
12:17

6  a.m. p.m.
8:09

فقدت الساعات الآتية أعدادها، أقدّر الوقت الذي تُشير إليه كل منها، ثم أكتبه بثلاث طرائق مختلفة:

7 
السادة إلا خمس
الخامسة وخمسة وخمسون
5:55

8 
العاشرة والربع
العاشرة و 15 دقيقة
10:15

9 
الخامسة إلا ربع
الرابعة وخمسة وأربعون
4:45