









## أسئلة كتاب التمارين

### تمثيل البيانات بالصور

1 يُبين الجدول الآتي الحيوانات البرية الموجودة في إحدى حدائق الحيوانات: أمثل هذه البيانات باستخدام الصور.

الحيوانات البرية	
▲ ▲ ▲	فيل 
▲ ▲ ▲ ▲	أسد 
▲ ▲	نمر 
▲	دب 
المفتاح: كل ▲ تمثل حيوانين اثنين.	

العدد	الحيوان
6	فيل 
8	أسد 
4	نمر 
2	دب 

الدرس المفضل	
★ ★ ★ ★ ★	اللغة العربية
★ ★ ★ ★ ★ ★	رياضيات
★ ★ ★	علوم
★ ★ ★	لغة إنجليزية
المفتاح: كل ★ تمثل طالبين.	

أمثل بالصور البيانات الآتية التي تبين الدرس المفضل لمجموعة من الطلبة:

2 9 أطفال يفضلون اللغة العربية.

3 12 طفلاً يفضلون الرياضيات.

4 6 أطفال يفضلون العلوم.

5 5 أطفال يفضلون اللغة الإنجليزية.

6 أكتب 3 معلومات يمكن معرفتها من

الجدول المجاور. إجابات متنوعة مثلاً مقارنات بين مكونات الجدول