

## أسئلة تراكمية

### القياس

أكتب العدد بالصورة التحليلية:

1  $516 = \underline{500} + \underline{10} + \underline{6}$

2  $748 = \underline{700} + \underline{40} + \underline{8}$

أكتب العدد الواقع بين عددين في الفراغ:

3  $602, \underline{603}, 604$

4  $880, \underline{881}, 882$

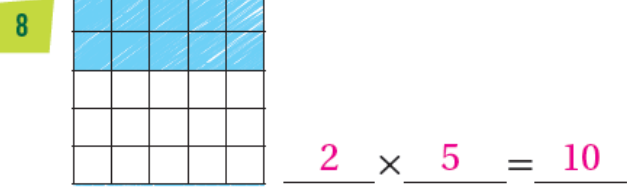
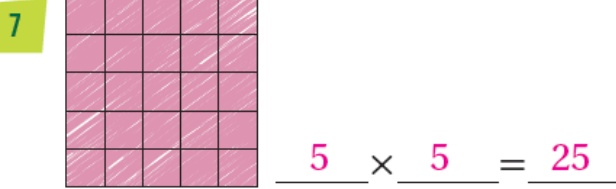
أقدر ناتج الجمع بالتقريب إلى أقرب 10:

5  $352 + 466 \longrightarrow \underline{350} + \underline{470} = \underline{820}$

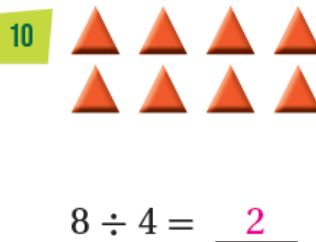
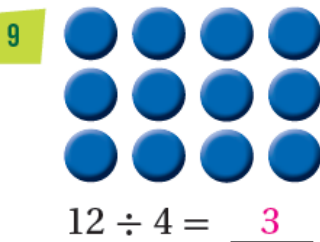
6  $896 + 112 \longrightarrow \underline{900} + \underline{110} = \underline{1010}$



أكتب جملة الضرب التي تمثل الجزء الملون:



أوزع أربعاً، ثم أكمل جملة القسمة:



أكتب الكسر الذي يمثل الجزء الملون، ثم أقرؤه:

