

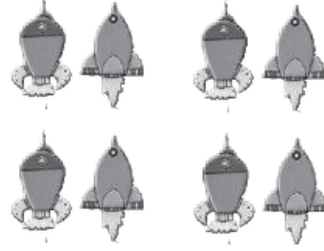
أسئلة كتاب التمارين

تكوين المجموعات المتساوية

2 كم مجموعة خماسية في 15؟ 3




1 كم مجموعة ثنائية في 8؟ 4



4 كم مجموعة ثلاثية في 6؟ 2



3 كم مجموعة خماسية في 20؟ 4




أمثل بالرسم كلاً مما يأتي، ثم أكتب عدد المجموعات الناتجة:

6 10 بُرُتقالاتٍ مُقسَّمة في مجموعاتٍ ثنائية.



عدد المجموعات 5

5 12 تُفاحَةً مُقسَّمة في مجموعاتٍ ثلاثية.



عدد المجموعات 4

7 موقف للسيارات فيه 20 سيارة، تقف كل 4 سيارات في صف، كم صفاً

في الموقف؟ 5

