


## أسئلة كتاب التمارين

### المجموعات المتساوية


أصِفْ كُلاً مِنْ الْمَجْمُوعَاتِ الْمُتَسَاوِيَةِ الْآتِيَةِ:




2 مَجْمُوعَةٌ، فِي كُلِّ مِنْهَا 2



3 مَجْمُوعَاتٍ، فِي كُلِّ مِنْهَا 3




3 مَجْمُوعَاتٍ، فِي كُلِّ مِنْهَا 4



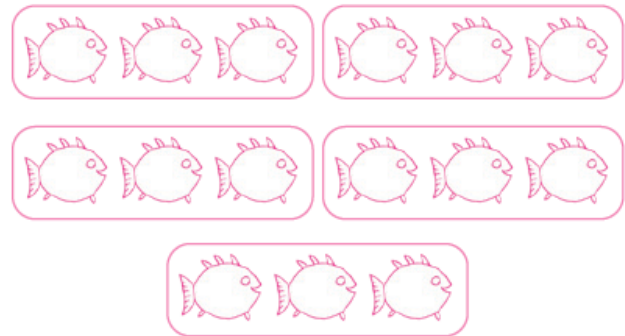
4 مَجْمُوعَاتٍ، فِي كُلِّ مِنْهَا 1

أرْسُمْ بِمَا يُنَاسِبُ الوَصْفَ:

6 4 مَجْمُوعَاتٍ، فِي كُلِّ مِنْهَا 2 نَجْمَةٌ.



5 5 مَجْمُوعَاتٍ، فِي كُلِّ مِنْهَا 3 سَمَكَاتٍ.



7 أكتَشِفُ الخَطَأَ: رَسَمْتُ هُنَاءَ الشَّكْلِ المُجَاوِرِ لِتُمَثِّلَ 5 مَجْمُوعَاتٍ مُتَسَاوِيَةٍ فِي كُلِّ مِنْهَا 2. أكتَشِفُ الخَطَأَ الَّذِي وَقَعْتُ فِيهِ هُنَاءً، وَأَصَحِّحُهُ.

المجموعة الرابعة : يجب ان يكون فيها قلمين