

## إجابات كتاب التمارين

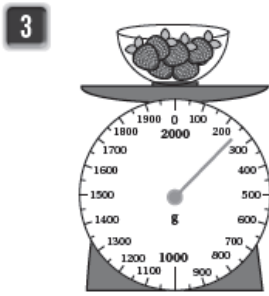
### وحدات قياس الكتلة

أَمَلِّأُ الْفَرَاغَ فِي كُلِّ مِمَّا يَأْتِي:

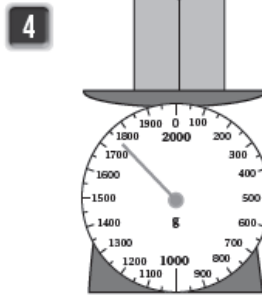
1  $8\text{kg}, 625\text{g} = 8625\text{g}$

2  $9\text{kg}, 45\text{g} = 9.045\text{kg}$

أَكْتُبُ الْكُتْلَةَ فِي كُلِّ مِمَّا يَأْتِي بِالْكِيلُوغْرَامِ:



0.250 kg



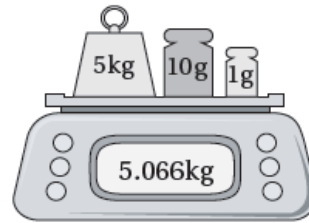
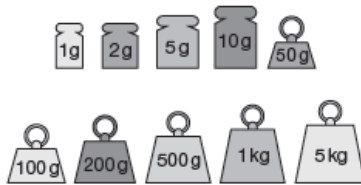
1.75 kg



5 أَضَيْفُ قِطْعَتَيْ أَنْقَالٍ لِلْمِيزَانِ؛ لِتُصَبِّحَ قِرَاءَتُهُ صَحِيحَةً.

5

50



أَجِدُ كُتْلَةَ كُلِّ مَجْمُوعَةِ خُضَارٍ مِمَّا يَأْتِي:



3.8 kg



1.4 kg



1 kg



250 g



1.5 kg



500 g

7 كُتْلَةُ الْبَنْدُورَةِ وَالْخِيَارِ وَالْبَطَاطَا: 2.250 kg

6 كُتْلَةُ الْبَصَلِ وَالْقَرَعِ وَالْجَزَرِ: 6.2 kg