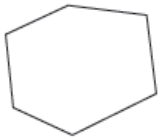






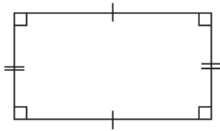
إجابات كتاب التمارين

المضلعات

1 أُصنِّفُ الأشكالَ الآتيةَ إلى مُضَلَّعاتٍ أو غَيْرِ مُضَلَّعاتٍ، وأبرِّرُ إجابتِي:

التَّبريرُ	مُضَلَّعٌ / غَيْرُ مُضَلَّعٍ	الشَّكْلُ
لأنه مكوّن من قطع مستقيمة مغلقة غير متقاطعة.	مضلّع	
لأنه يحتوي منحنيات.	غير مضلّع	
لأنه مكوّن من قطع مستقيمة مغلقة غير متقاطعة.	مضلّع	
لأنه ليس مغلقاً.	غير مضلّع	
لأن أضلاعه متقاطعة.	غير مضلّع	

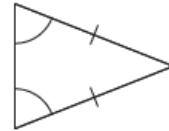
2 أَسْمِي المُضَلَّعَ، وَأذْكَرُ إِنْ كَانَ مُنْتَظِماً أَمْ غَيْرِ مُنْتَظِماً.




مستطيل غير منتظم



مثلث منتظم



مثلث غير منتظم



أرسمُ شكليْنِ رباعيَّيْنِ مُختلِفَيْنِ،
وأجيبُ عن الأَسْئَلَةِ أدناه:

3 أكتبُ 3 أشياء مُشابهةَ في الشَّكْلَيْنِ.
لهما 4 أضلاع 4 زوايا.

4 أكتبُ 3 أشياء مُختلِفةَ في الشَّكْلَيْنِ.
تختلف الإجابات حسب الرسم.