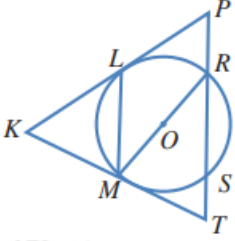


## أدرب وأحل المسائل

أوتار الدائرة، وأقطارها، ومماساتها

O يبين الشكل المجاور دائرة مركزها . أسمى:



(1) نصفى قطرين.

OR ; OM

(2) وترين.

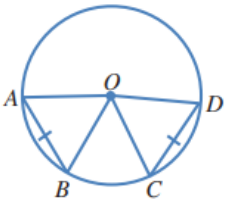
LM ; MR ; RS

(3) مماسين.

KP → ; KT →

(4) قاطعاً.

PT ↔



AB و CD وتران لهما الطول نفسه في دائرة مركزها O.

(5) ما نوع المثلث AOB؟ أبرر إجابتي.

OA متطابق الضلعين؛ لأن OB نصف قطر في الدائرة، فهما متطابقان.

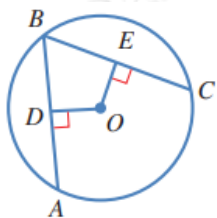
(6) هل المثلثان AOB و COD متطابقان؟ أبرر إجابتي.

نعم؛ لأن أضلاعهما المتناظرة متطابقة.

$$OA = OC, OB = OD, AB = CD$$

(7) إذا كان قياس الزاوية  $OAB$  هو  $65^\circ$ ، فما قياس الزاوية  $COD$ ؟

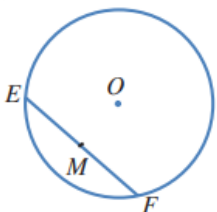
$50^\circ$



(8) في الشكل المجاور،  $AB$  و  $CB$  وتران متطابقان في دائرة مركزها  $O$ .

$OE = x + 9$  إذا كان ، و  $OD = 3x - 7$  ، فما قيمة  $x$ ؟

8



في الشكل المجاور، وتر في دائرة مركزها  $O$ ، والنقطة  $M$  هي منتصف الوتر  $EF$ :

(9) هل المثلثان  $EOM$  و  $FOM$  متطابقان؟ أبرر إجابتي.

نعم متطابقان؛ لأن أضلاعهما المتناظرة متطابقة.

$EM = MF$  (لأن  $M$  منتصف  $EF$ )

$OE = OF$  (لأنهما نصف قطرين في دائرة)

$OM = OM$  (ضلع مشترك)

(10) هل الزاوية  $EMO$  قائمة؟ أبرر إجابتي.

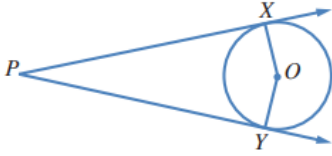
الزاوية  $EMO$  قائمة؛ لأن  $m\angle EMO = m\angle FMO$ ، ومجموعهما يساوي  $180^\circ$ ،

لأن  $EMF$  خط مستقيم، فقياس كل منهما يساوي  $90^\circ$

(11) إذا كان قياس الزاوية  $MOF$  هو  $72^\circ$ ، فما قياس الزاوية  $MEO$ ؟ أبرر إجابتي.

$$18^\circ ؛ لأن: m\angle MFO = 90^\circ - 72^\circ = 18^\circ$$

$$m\angle MEO = m\angle MFO$$



→PX في الشكل المجاور، و →PY مماسان لدائرة مركزها O:

(12) هل قياس الزاوية PXO هو  $90^\circ$ ؟ أبرر إجابتي.

نعم؛ لأن المماس يعامد نصف القطر المار بنقطة التماس.

(13) أبين أن المثلثين XPO و YPO متطابقان.

$$OX = OY \text{ (نصفا قطرين في الدائرة).}$$

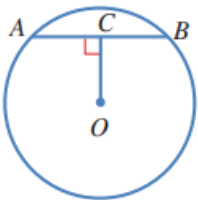
$$PO = PO \text{ (ضلع مشترك).}$$

$$m\angle PXO = m\angle PYO \text{ (المماس يعامد نصف القطر).}$$

يتطابق المثلثان القائمان بضلع ووتر.

(14) إذا كان قياس الزاوية XPO هو  $17^\circ$ ، فما قياس الزاوية XOY؟

$146^\circ$



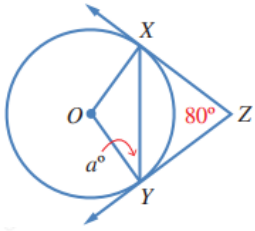
(15) في الشكل المجاور، AB وتر طوله 6 cm في دائرة مركزها O.

إذا كان قياس الزاوية ACO هو  $90^\circ$ ، و  $OC = 4 \text{ cm}$ ، فما طول نصف قطر الدائرة؟

5 cm

(16) أحل المسألة الواردة في بداية الدرس.

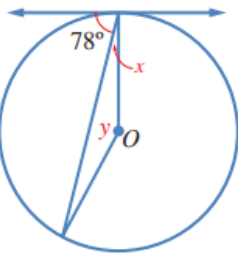
تعيّن نقطتان على حافة الطاولة، ويوصل بينهما بقطعة مستقيمة، ثم يستعمل فرجار ومسطرة لرسم المنصف العمودي لهذه القطعة المستقيمة، ويمد هذا العمود من الجهتين حتى يقطع حافة الطاولة في نقطتين تسميان  $C, D$ ، المنصف العمودي للقطعة المستقيمة  $CD$ ، فتكون نقطة تقاطع هذا المنصف مع  $CD$  هي مركز الطاولة.



17) في الشكل المجاور،  $ZY \rightarrow$  و  $ZX \rightarrow$  مماسان لدائرة مركزها  $O$ .  
أجد قيمة  $a$ .

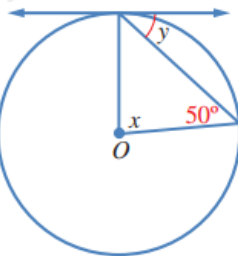
40

$O$  يظهر في كل من الشكلين الآتيين مماس لدائرة مركزها . أجد قيمة  $x$  و  $y$  في كل حالة.



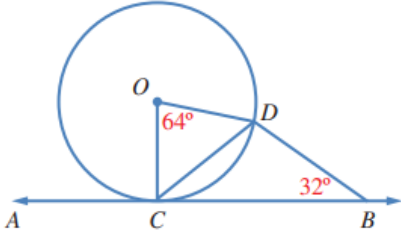
18)

$$x = 12^\circ, y = 156^\circ$$



19)

$$x = 80^\circ, y = 40^\circ$$



20) في الشكل المجاور،  $AB \leftrightarrow$  مماس لدائرة مركزها  $O$  في النقطة  $C$ .

$BCD$  لماذا يعد المثلث متطابق الضلعين؟ أبرر إجابتي.

$ODC$  المثلث متطابق الضلعين؛ لأن:

$OD = OC$  نصف قطر في الدائرة

$$m\angle CDO = m\angle DCO = (180^\circ - 64^\circ) \div 2 = 58^\circ$$

$$m\angle DCB = 90^\circ - 58^\circ = 32^\circ, m\angle DCB = m\angle DBC = 32^\circ$$

$BCD$  إذن: المثلث متطابق الضلعين؛ لأنّ فيه زاويتين متطابقتين.

21) كم مماساً يمكن أن يرسم للدائرة من نقطة عليها، ومن نقطة خارجها، ومن نقطة داخلها؟ أبرر إجابتي.

يمكن رسم مماس واحد فقط للدائرة من نقطة عليها، ويمكن رسم مماسين للدائرة من نقطة خارجها، ولا يمكن رسم أي مماس للدائرة من نقطة داخلها؛ لأن أي مستقيم مرسوم من نقطة داخل الدائرة يقطعها في نقطتين.