

## الأزواج المترافقة من الحمض والقاعدة

### Conjugate Acids and Bases

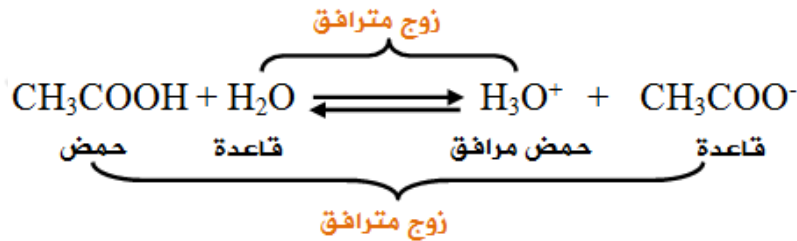
يتأين حمض الإيثانويك في الماء وفق المعادلة:



لاحظ أن جزيء  $\text{CH}_3\text{COOH}$  وأيون  $\text{CH}_3\text{COO}^-$  متشابهان في التركيب ويختلفان عن بعضهما ببروتون واحد، لذلك فهما يشكلان معاً زوجاً من الحمض والقاعدة (زوج مترافق).

لاحظ أيضاً أن جزيء  $\text{H}_2\text{O}$  وأيون  $\text{H}_3\text{O}^+$  متشابهان في التركيب ويختلفان عن بعضهما ببروتون واحد، لذلك فهما يشكلان معاً زوجاً من الحمض والقاعدة (زوج مترافق).

لاحظ أن معادلة التأيين لحمض الإيثانويك تتألف من زوجين مترافقين، هما:




ومن ذلك نستنتج أن:

القاعدة المترافقة = صيغة الحمض -  $\text{H}^+$

الحمض المترافق = صيغة القاعدة +  $\text{H}^+$

سؤال (1):

حدد الزوجين المترافقين (الثنائيات المترافقة) من الحمض والقاعدة في التفاعلين التاليين:



سؤال (2):

ادرس التفاعلين الآتيين، ثم أجب عن السؤالين الذين يليهما:



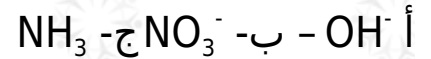
- حدد الحمض والقاعدة في كلا التفاعلين.
- عيّن الأزواج المترافقة في كل منهما.

سؤال (3):

1- عيّن القاعدة المرافقة لكلّ من الحموض الآتية:

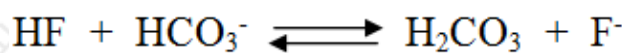


2- حدد الحمض المرافق لكلّ من القواعد الآتية:



سؤال (4):

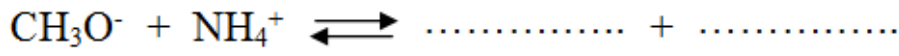
في التفاعل الآتي:



حدد الزوجين المرافقين من الحمض والقاعدة.

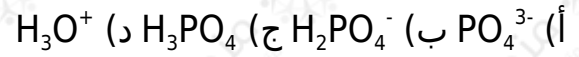
سؤال (5):

أكمل التفاعل الآتي ثم حدّد الأزواج المترافقة من الحمض والقاعدة:

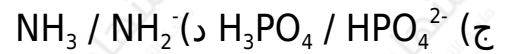
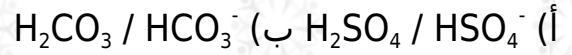


سؤال (6) : أسئلة موضوعية وزارية

1- الحمض المرافق لـ  $\text{HPO}_4^{2-}$  هو:



2- أحد المحاليل الآتية ليس ( حمض / قاعدة ) مترافقان:



إجابات أسئلة الدرس في الملفات المرفقة