

المفاهيم والمصطلحات

1 أصل الكلمة بالصورة المناسبة في ما يأتي:



Soil تربة

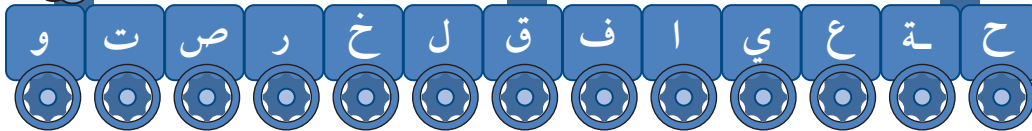
Sun شمس

Rock صخر

Water ماء



2 أختار من قطار الحروف الآتي حروفاً مناسبة لتكوين المفهوم الصحيح، ثم أكتبه داخل الغيمة:


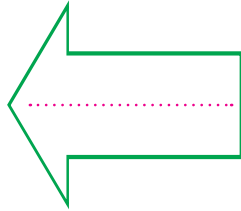
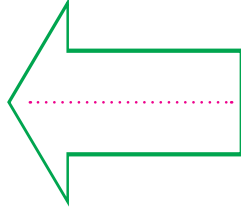


## المهارات والأفكار العلمية

4 أكتب العامل المناسب (ماء، رياح) داخل السهم:

بعد (النتيجة)

قبل (السبب)



5 أصف: كيف يؤثر كل من الماء والرياح في الصخور؟

6 أقرن بين التجوية والتعرية.

7 أفسر: لماذا تبدو بعض الشمعات

مضيئة وكبيرة الحجم، وبعضها

نقاطاً صغيرة لامعة؟



## أَخْتَارُ الْإِجَابَةَ الصَّحِيحَةَ

8 مِنْ مَكُونَاتِ مَنْزِلِي الَّتِي صُنِعَتْ مِنَ الصُّخُورِ:

- أ إطَارُ النَّافِذَةِ
- ب أَنَابِيْبُ الْمِيَاهِ
- ج دِيكُورُ الْجُدْرَانِ
- د أَوْعِيَّةُ الْمَطْبَخِ

9 سَبَبُ وُجُودِ الْكُثْبَانِ الرَّمْلِيَّةِ فِي وَادِي رَمِّ، وَعَدَمُ وُجُودِهَا فِي الْعَقَبَةِ:

- أ الرَّمَالُ وَالرِّيَّاحُ
- ب الرَّمَالُ وَالْمِيَاهُ
- ج الرَّمَالُ وَالْجِبَالُ
- د الصَّحْرَاءُ

## تَقْوِيمُ الْأَدَاءِ

أَصَمُّ تَجْرِبَةً تُوضِّحُ أَثَرَ الْمَاءِ وَالرِّيَّاحِ فِي تَفْتِيَتِ الصُّخُورِ، وَأَوْضَحُ خُطُواتِ  
التَّجْرِبَةِ بِالرَّسْمِ، ثُمَّ أَنْفَّذُهَا.