



السؤال الأول: ضع إشارة (= , < , >) في المربع لتصبح العبارة صحيحة:


- | | | | | | | | |
|----------|-------|----------------------|-------|----------|-------|----------------------|-------|
| 1 | 4.5 | <input type="text"/> | 4.05 | 2 | 9.06 | <input type="text"/> | 90.6 |
| 3 | 45.6 | <input type="text"/> | 4.56 | 4 | 14.02 | <input type="text"/> | 14.22 |
| 5 | 5.87 | <input type="text"/> | 5.78 | 6 | 45.7 | <input type="text"/> | 47.5 |
| 7 | 20.18 | <input type="text"/> | 20.08 | 8 | 10.05 | <input type="text"/> | 100.5 |

السؤال الثاني: رتب الأعداد العشرية تنازلياً:

البداية
12.2 , 12.03 , 12.3 , 12.02 , 12.22
 ----- , ----- , ----- , ----- , -----

البداية
7.98 , 6.79 , 6.97 , 7.89 , 1.45
 ----- , ----- , ----- , ----- , -----

السؤال الثالث: رتب الأعداد العشرية تصاعدياً:

البداية
16.1 , 16.01 , 16.11 , 16.21 , 16.12
 ----- , ----- , ----- , ----- , -----