

تجميع أسئلة

وزارة

الدروس

وحدة الإحصاء والاحتمالات

توجيهي أدبي



إعداد وتجميع أ. سلسيل الخطيب

توجيهي 2020 - 2021



أولاً : مبدأ العد

وزارة 2020 الدورة التكميلية دراسة خاصة

١٣) معرض لبيع السيارات فيه (٧) أنواع من السيارات، لكل نوع (٣) ألوان، أراد شخص شراء سيارة من المعرض، بكم طريقة يمكنه اختيارها؟

أ) ل(٧، ٣) ب) $\binom{7}{3}$ ج) $!٧ \times !٣$ د) ٣×٧

وزارة 2020 الدورة الصيفية (الامتحان العام) دراسة خاصة

١١) يبيع أحد معارض الأجهزة الكهربائية (٣) أنواع مختلفة من الثلاجات، و(٤) أنواع مختلفة من الغسالات، بكم طريقة يمكن لأحد الأشخاص اختيار ثلاجة وغسالة من هذا المعرض؟

أ) $٤ + ٣$ ب) $!٣ + !٤$ ج) ٤×٣ د) $!٣ \times !٤$

١٢) إذا كان $!٤ + !٤ = ١٤٤$ ، فما قيمة ن؟

أ) ٤ ب) ٣ ج) ٦ د) ٥

وزارة 2019 الدورة الصيفية (الامتحان العام) نظاميون

١) بكم طريقة يمكن اختيار سيارة لشراؤها من معرض سيارات فيه (٥) أنواع مختلفة من السيارات وكل نوع متوفر ب(٤) ألوان؟

أ) $!٤ \times !٥$ ب) ٤×٥ ج) $!٤ + !٥$ د) $٤ + ٥$





١) بكم طريقة يمكن اختيار قلم ودفتر لشرائهما من مكتبة تباع أربعة أنواع من الأقلام وثلاثة أنواع من الدفاتر؟

أ) 14×3 ب) 4×3 ج) $14 + 3$ د) $4 + 3$

وزارة 2019 صيفي (الامتحان التكميلي) خطة المنهاج القديم دراسة خاصة

٢) إذا كان $n - 3 = 114$ ، فإن قيمة n تساوي:

أ) 3 ب) 4 ج) 5 د) 6

وزارة 2018 صيفي (الكتاب الجديد)

١) بكم طريقة يمكن اختيار قميص وهداء لشرائهما من محل تجاري يبيع (٣) أنواع من القمصان و(٤) أنواع من الأحذية؟

أ) 14×3 ب) ل (٤ ، ٣) ج) 3×4 د) $\left(\frac{4}{3}\right)$

وزارة 2018 صيفي (الكتاب القديم)

١) كم عددًا مكونًا من (٣) منازل يمكن تكويرته من مجموعة الأرقام {٢ ، ٤ ، ٦} ، إذا سمح بتكرار الأرقام؟

أ) 6 ب) 9 ج) 27 د) 48





وزارة 2020 الدورة التكميلية دراسة خاصة

١٤) قيمة المقدار $\frac{L(3, 4)}{4!}$ تساوي:

أ) ١ ب) ٣ ج) ٦ د) ١٢

وزارة 2020 الدورة التكميلية دراسة خاصة

١٥) إذا كان (S^0) ، فما مجموعة قيم س التي تحقق المعادلة؟

أ) {١ ، ٠} ب) {٥ ، ٠} ج) {٥ ، ٤} د) {٤ ، ١}

وزارة 2020 الدورة التكميلية دراسة خاصة

١٦) بكم طريقة يمكن اختيار (٣) أسئلة للإجابة عنها من بين (٥) أسئلة؟

أ) ل (٣ ، ٥) ب) $(\binom{5}{3})$ ج) ٣! د) ٥!

وزارة 2020 الدورة التكميلية دراسة خاصة

١٨) قيمة ر التي تحقق المعادلة: $L(3, 6) = 360$ هي:

أ) ٢ ب) ٣ ج) ٤ د) ٦

وزارة 2020 الدورة التكميلية دراسة خاصة

٢٢) إذا كان ل (٣ ، ن) $= 4! \times L(1, 5)$ ، فما قيمة ن؟

أ) ٣ ب) ٤ ج) ٥ د) ٦





١٣) بكم طريقة يمكن اختيار رئيس ومساعد له وأمين سر مختلفين من بين (٩) موظفين في إحدى الشركات؟

- (أ) $\binom{9}{3}$ (ب) ل (٩، ٣) (ج) 9×3 (د) ٣!

وزارة 2020 الدورة الصيفية (الامتحان العام) دراسة خاصة

١٤) إذا كان ل (ن، ٣) = ٦٠، فإن قيمة $\binom{ن}{٣}$ تساوي:

- (أ) ٣٦٠ (ب) ١٨٠ (ج) ٢٠ (د) ١٠

وزارة 2019 الدورة الصيفية (الامتحان العام) نظاميون

٢) بكم طريقة يمكن اختيار (٣) طلاب من بين (١٠) طلاب للمشاركة في إحدى المسابقات الوطنية؟

- (أ) ل (٣، ١٠) (ب) ١٣ (ج) $\binom{١٠}{٣}$ (د) ١٠!

وزارة 2019 الدورة الصيفية (الامتحان العام) نظاميون

ب) مجموعة مكونة من (٤) معلمين و (٣) معلمات، بكم طريقة يمكن تكوين لجنة رابعة منهم، بحيث تتكون اللجنة من معلم واحد على الأقل؟ (١٢ علامة)

وزارة 2019 الدورة الصيفية (الامتحان العام) خطة 2018 دراسة خاصة

(٥ علامات)

ج) حل المعادلة الآتية:

$$\binom{٤}{٢} = \frac{ن!}{ل(٢، ن)}$$





(١) كم عددًا مكوّنًا من ثلاث منازل يمكن تكوينه من مجموعة الأرقام {١ ، ٢ ، ٣} ، بحيث لا يسمح بتكرار الأرقام؟

- أ (٩) ب (٦) ج (٨) د (٢٧)

وزارة 2019 الدورة الصيفية (الامتحان العام) خطة المنهاج القديم دراسة خاصة

(٢) ما عدد المجموعات الجزئية الرباعية التي يمكن اختيارها من مجموعة تتكوّن من (٩) عناصر؟

- أ (٩) ب (٤ ، ٩) ج (٤ × ٩) د (٩ × ٤)!

وزارة 2019 الدورة الصيفية (الامتحان العام) خطة المنهاج القديم دراسة خاصة

أ) جد قيمة ن التي تحقق المعادلة الآتية:
ل (٣ ، ن) = ٥ ل (ن ، ٢) (٤ علامات)

وزارة 2019 الدورة الصيفية (الامتحان العام) خطة المنهاج القديم دراسة خاصة

ب) جد قيمة المقدار الآتي:
(٥) ل (٣ ، ٥) ل
(٢) × ١٣





(ج) أجب عن كلِّ ممَّا يأتي:

(١٢ علامة) (١) جد قيمة المقدار: $\binom{6}{4} + \frac{!٥ + !٤}{(!٣) ٦}$

(١٠ علامات) (٢) حلّ المعادلة: $ل(٢, ٥) = \frac{!(٣ + ن)}{!(١ + ن)}$

وزارة 2019 صيفي (الامتحان التكميلي) نظاميون

(٢) ما عدد المجموعات الجزئية الثنائية التي يمكن تكوينها من مجموعة تحوي (٥) عناصر؟

(أ) $\binom{٥}{٢}$ (ب) ٢×٥ (ج) $ل(٢, ٥)$ (د) $!٢ \times !٥$

وزارة 2019 صيفي (الامتحان التكميلي) نظاميون

(ب) مجموعة مكونة من (٣) نساء و (٤) رجال، بكم طريقة يمكن تكوين لجنة رابعة منهم، بحيث تتكون اللجنة من (٣) نساء على الأكثر؟ (١٢ علامة)

وزارة 2019 صيفي (الامتحان التكميلي) خطة 2018 دراسة خاصة

(ج) بكم طريقة يمكن تكوين فريق طبي سداسي للعمل في مستشفى ميداني يتم اختياره من بين ١٠ أطباء و ٦ ممرضين، بحيث يكون الرئيس ونائبه من الأطباء والبقية ممرضون؟ (٤ علامات)





(١) بكم طريقة يمكن اختيار مجموعة مكونة من (٤) طلاب من مجموعة فيها (٥) طلاب للمشاركة في إجراء بحث علمي؟

أ) $(4, 5)$ ب) 15×14 ج) 5×4 د) $\binom{5}{4}$

وزارة 2019 شتوي (الكتاب الجديد)

(١) بكم طريقة يمكن اختيار رئيس نادي رياضي ومساعد له وأمين سر مختلفين من بين (٨) أشخاص؟

أ) $\binom{8}{3}$ ب) 18×13 ج) $8 \times \binom{7}{2}$ د) $(8, 3)$

وزارة 2019 شتوي (الكتاب الجديد)

(٢) إذا كان $\binom{m}{3} = \binom{m}{15}$ ، فإن قيمة m تساوي:

أ) ٥ ب) ٩ ج) ١٢ د) ١٨

وزارة 2019 شتوي (الكتاب القديم)

(١) بكم طريقة يمكن اختيار (٣) طلاب من بين (٥) طلاب للعمل في مشروع علمي؟

أ) $(5, 3)$ ب) $\binom{5}{3}$ ج) 15×13 د) 3×5

وزارة 2019 شتوي (الكتاب القديم)

(٢) إذا كان $l(2, n) = 12$ ، فإن قيمة n تساوي:

أ) ٣ ب) ٤ ج) ٦ د) ١٢





٢) ما عدد تباديل مجموعة مكونة من (٦) عناصر مأخوذة (٤) في كل مرة؟

- أ) ل (٤ ، ٦) ب) $\binom{6}{4}$ ج) 4×6 د) 16×14 !

وزارة 2018 صيفي (الكتاب الجديد)

ج) بكم طريقة يمكن تشكيل فريق طبي رباعي من بين (٦) أطباء، و (٤) ممرضين للمشاركة في يوم طبي مجاني، بحيث يكون رئيس الفريق طبيب ومساعد ممرض ويقية الأعضاء من الأطباء؟ (٥ علامات)

وزارة 2018 صيفي (الكتاب الجديد)

أ) حل المعادلة الآتية:

(٤ علامات)

$$n! = l(3, n) \times 16$$

وزارة 2018 صيفي (الكتاب القديم)

٢) ما عدد المجموعات الجزئية الخماسية التي يمكن اختيارها من مجموعة تتكوّن من (٧) عناصر؟

- أ) $\binom{7}{5}$ ب) ل (٥ ، ٧) ج) 5×7 د) 15×17 !

وزارة 2018 صيفي (الكتاب القديم)

أ) حل المعادلة الآتية:

(٥ علامات)

$$\frac{l(4, n)}{15} = \binom{n}{5}$$





(٤ علامات)

ب) جد قيمة المقدار الآتي:

$$\frac{\binom{5}{2} + 13}{\binom{1}{4}}$$

وزارة 2018 شتوي (الكتاب الجديد)

١) كم عدد مكوّن من منزلتين يمكن تكوينه من مجموعة الأرقام {٥، ٧، ٨} إذا لم يُسمح بتكرار الأرقام؟

أ) ٣×٣ ب) ل(٣، ٢) ج) $\binom{3}{2}$ د) ٨×٧×٥

وزارة 2018 شتوي (الكتاب الجديد)

أ) حلّ المعادلة الآتية:
(٤ علامات)

$$\binom{n}{3} = \binom{n}{4} \times 4! \text{ ، حيث } n \text{ عدد صحيح موجب.}$$

وزارة 2018 شتوي (الكتاب الجديد)

ب) مجموعة مكونة من خمسة رجال وأربع نساء، بكم طريقة يمكن تكوين لجنة رابعة منهم بحيث يكون فيها رجلان على الأقل؟
(٥ علامات)

وزارة 2018 شتوي (الكتاب القديم)

١) بكم طريقة يمكن اختيار رئيس ونائب الرئيس من مجموعة تتكون من ٥ أفراد؟

أ) ١٥ ب) $\binom{5}{2}$ ج) ل(٥، ٢) د) ١٥ × ١٤





(٢) قيمة: $\binom{5}{3}$ تساوي:

$$\text{أ) } \frac{!(3-5)}{13} \quad \text{ب) } \frac{!3 \times !(3-5)}{!5} \quad \text{ج) } \frac{!(3, 5)}{!5} \quad \text{د) } \frac{!(3, 5)}{!3}$$

وزارة 2018 شتوي (الكتاب القديم)

أ) حل المعادلة الآتية:

ل (ن، ٣) = ٥ ل (ن، ٢) \times $\binom{4}{3}$ ، حيث ن عدد صحيح موجب. (٥ علامات)

وزارة 2018 شتوي (الكتاب القديم)

ب) بكم طريقة يمكن اختيار (٤) معلمين وطالبتين اثنتين لتشكيل لجنة من بين (٦) معلمين و(٩) طلاب؟ (٥ علامات)

وزارة 2017 صيفي

ج) جد قيمة: $\binom{9}{8} \times \frac{!(2, 5)}{!(4-7)}$ (٦ علامات)

وزارة 2017 صيفي

أ) مجموعة مكونة من (٨) طلاب و(٤) معلمين، ما عدد طرق تكوين لجنة رابعة منهم بحيث يكون رئيس اللجنة معلماً، ونائبه طالباً وبقية الأعضاء من الطلبة؟ (٦ علامات)

وزارة 2017 شتوي

أ) مجموعة مكونة من (٦) معلمين و(٥) إداريين، جد عدد الطرق التي يمكن بها تكوين لجنة رابعة منهم بحيث يكون رئيس اللجنة إدارياً ونائبه معلماً. (٤ علامات)





(ج) جد قيمة ن التي تحقق المعادلة الآتية:

$$(ن - 1)! = \frac{2}{3} \times ل(٦، ٤) - \binom{١٦}{٢} \quad (٦ علامات)$$

وزارة 2016 صيفي

(ج) جد قيمة ن التي تحقق المعادلة :

$$ل(٢، ن) + ٥! = \binom{٩}{٢} \quad (٥ علامات)$$

وزارة 2016 صيفي

(أ) مجموعة كتب مكونة من (٨) كتب علمية و(٦) كتب أدبية. يرغب طالب في اختيار ثلاثة كتب منها، بكم طريقة يمكنه اختيار الكتب الثلاثة، بحيث يكون من بينها كتاب علمي واحد على الأقل؟ (٥ علامات)

وزارة 2016 شتوي

$$(ج) جد قيمة ن التي تحقق المعادلة (ن + 1)! = \binom{١٠}{٣} \times ل(٦، 1) \quad (٥ علامات)$$

وزارة 2016 شتوي

(ب) مجموعة مكونة من (٤) طلاب من كلية العلوم، و(٦) طلاب من كلية الآداب في إحدى الجامعات. جد عدد الطرق التي يمكن بها اختيار لجنة مكونة من رئيس ونائب للرئيس وأربعة أعضاء من المجموعة بحيث يكون الرئيس ونائبه من كلية الآداب. (٥ علامات)





ب) مجموعة مكونة من ٤ معلمين، ٦ طلاب. جد عدد الطرق التي يمكن بها تكوين لجنة منهم مكونة من رئيس ونائب للرئيس وثلاثة أعضاء بحيث يكون الرئيس معلمًا ونائبه طالبًا. (٤ علامات)

وزارة 2015 صيفي

$$٢) إذا كان $\binom{n}{3} = 10$ ، فجد قيمة ل(٣، ن).$$

وزارة 2015 صيفي

ج) جد قيمة ن التي تحقق المعادلة: (٥ علامات)

$$(n-1)! = l(3, 6) \times \binom{4}{2}$$

وزارة 2015 شتوي

ج) إذا كان ل(٣، ن) = $\binom{n}{4}$ فما قيمة ن؟ (٦ علامات)

وزارة 2015 شتوي

أ) مجموعة مكونة من (٤) معلمين و(٧) طلاب. جد عدد الطرق التي يمكن بها تكوين لجنة ثلاثية منهم بحيث تتكون من معلم واحد على الأقل. (٥ علامات)

وزارة 2015 شتوي

$$١) جد قيمة (قيم س) في المعادلة $\binom{9}{6} = \binom{9}{s}$$$





ج) إذا كان $\binom{n}{3} = \frac{L(n, 2)}{13}$ ، فما قيمة n ؟ (6 علامات)

وزارة 2014 صيفي

أ) مجموعة مكونة من (4) معلمين و (6) طلاب، جد عدد الطرق التي يمكن بها تكوين لجنة رباعية مكونة من رئيس ونائب للرئيس من المعلمين وعضوين من الطلاب. (4 علامات)

وزارة 2014 صيفي

أ) إذا كان $L = \binom{5}{3} + \frac{4}{3} \times \binom{10}{2}$ ، فجد قيمة n . (5 علامات)

وزارة 2014 شتوي

ب) جد قيمة n التي تحقق المعادلة : $L(n, 3) = 6 \times \binom{n}{2}$. (5 علامات)

وزارة 2014 شتوي

أ) مجموعة مكونة من (6) معلمين و (8) طلاب، جد عدد الطرق التي يمكن بها تكوين لجنة ثلاثية تتكون من معلمين اثنين على الأقل. (4 علامات)

وزارة 2014 شتوي

أ) بكم طريقة يمكن أن تجلس أربع طالبات على أربعة مقاعد موضوعة في صف واحد ؟

وزارة 2013 صيفي

أ) بكم طريقة يمكن اختيار كتابين من بين سبعة كتب مختلفة ؟

7 ■

14 ■

21 ■

42 ■





١٠ مجموعة كل قيم s التي تحقق المعادلة $\binom{12}{s} = \binom{12}{8}$ هي :

{١٢، ٨، ٤} ■

{٨، ٤} ■

{٨} ■

{٤} ■

وزارة 2013 صيفي

(٥ علامات)

١) جد قيمة n التي تحقق المعادلة $n! = 2 \times \binom{10}{n} + \binom{10}{6}$

وزارة 2013 شتوي

٧) إذا كان $L = \binom{n}{3} = 60$ ، فإن $\binom{n}{3}$ يساوي :

١٠ (د)

٢٠ (ج)

١٨٠ (ب)

٣٦٠ (أ)

وزارة 2013 شتوي

١٠) قيمة s التي تحقق المعادلة $\binom{s}{5} = \binom{s}{3}$ هي :

٣ (د)

٨ (ج)

٥ (ب)

٢ (أ)

وزارة 2013 شتوي

١) بكم طريقة يمكن اختيار (٣) معلمين وطالبين لتشكيل لجنة من بين (٥) معلمين و(٩) طلاب؟
(٣ علامات)

وزارة 2013 شتوي

(٣ علامات)

٢) جد قيمة r التي تحقق المعادلة $3! \binom{6}{r} = 360$.





الفصل الثاني : المتغيرات العشوائية المنفصلة والمتصلة

أولاً : المتغير العشوائي المنفصل وتوزيع ذي الحدين

وزارة 2020 الدورة التكميلية دراسة خاصة

١٩) إذا كان التوزيع الاحتمالي للمتغير العشوائي S معطى بالمجموعة: $\{(1, 0.3), (2, 0.5), (3, 0.2)\}$ ، فإن قيمة الثابت m تساوي:

- أ) ٠,٠١ ب) ٠,١ ج) ٠,٠٢ د) ٠,٢

وزارة 2020 الدورة التكميلية دراسة خاصة

٢٠) أطلق صياد (٣) رصاصات نحو هدف، إذا كان احتمال إصابة الهدف في كل مرة ثابتاً ويساوي (٠,٧) ، فإن احتمال عدم إصابته للهدف في الطلقات الثلاث يساوي:

- أ) ٠,٠٢٧ ب) ٠,٢٧ ج) ٠,٣ د) ٠,٠٠٩

وزارة 2020 الدورة الصيفية (الامتحان العام) دراسة خاصة

١٥) إذا كان التوزيع الاحتمالي للمتغير العشوائي (S) معطى بالمجموعة الآتية:

$\{(1, 0.3), (2, 0.5), (3, 0.2)\}$ ، فما قيمة الثابت L ؟

- أ) ٠,٢ ب) ٠,١ ج) ٠,٤ د) ٠,٨

وزارة 2020 الدورة الصيفية (الامتحان العام) دراسة خاصة

١٦) غرس مزارع (٤) شجرات تفاح، وكان احتمال نجاح زراعة الشجرة الواحدة (٠,٨) ، ما احتمال نجاح زراعتها جميعاً؟

- أ) (٠,٨) ب) (٠,٢) ج) ٠,٢ د) ٠,٣٢





س	٠	١	٢	٣
ل (س)	٠,٢	م	٠,٣	٠,١

٣) إذا كان التوزيع الاحتمالي للمتغير العشوائي س معطى

بالجدول المجاور، فإن قيمة الثابت (م) تساوي:

أ) ٠,٦ (ب) ٠,٠٦ (ج) ٠,٠٤ (د) ٠,٤

وزارة 2019 الدورة الصيفية (الامتحان العام) نظاميون

ج) في تجربة إلقاء قطعة نقد (٣) مرات متتالية، إذا دلّ المتغير العشوائي س على عدد مرات ظهور صورة، فاكتب جدول التوزيع الاحتمالي للمتغير العشوائي س (١٣ علامة)

وزارة 2019 الدورة الصيفية (الامتحان العام) خطة 2018 دراسة خاصة

١) في تجربة اختيار عشوائي لعائلة لديها طفلان، وتسجيل المواليد حسب الجنس وتسلسل الولادة، إذا دلّ المتغير العشوائي س على عدد الأطفال الذكور، فما قيمة ل (س = ٠)؟

أ) $\frac{1}{4}$ (ب) $\frac{1}{2}$ (ج) $\frac{1}{8}$ (د) $\frac{3}{4}$

وزارة 2019 الدورة الصيفية (الامتحان العام) خطة 2018 دراسة خاصة

ب) إذا كان س متغيرًا عشوائيًا ذا حدين معاملاته $n = 5$ ، $p = 0,9$ ، فجد قيمة ل (س < ٣) (٤ علامات)

وزارة 2019 الدورة الصيفية (الامتحان العام) خطة المنهاج القديم دراسة خاصة

٤) إذا كان (س) متغيرًا عشوائيًا ذا الحدين معاملاته $n = 2$ ، $p = 0,7$ ، فما مجموعة القيم التي يأخذها المتغير العشوائي س؟

أ) {٠، ١} (ب) {٠، ١، ٧} (ج) {٠، ٢} (د) {٠، ١، ٢}





ج) في تجربة رمي حجر نرد ثلاث مرات متتالية، ما احتمال ظهور العدد (6) في ثلاث رميات؟ (6 علامات)

وزارة 2019 صيفي (الامتحان التكميلي) نظاميون

س	0	1	2	3
ل (س)	0,2	0,4	ك	0,1

3) معتمداً الجدول المجاور الذي يُمثّل التوزيع الاحتمالي

للمتغير العشوائي س، ما قيمة الثابت ك؟

أ) 0,03 ب) 0,07 ج) 0,3 د) 0,7

وزارة 2019 صيفي (الامتحان التكميلي) نظاميون

ج) في تجربة اختيار عشوائي لعائلة لديها ثلاثة أطفال وتسجيل المواليد حسب الجنس وتسلسل الولادة، إذا دلّ المتغير العشوائي س على عدد الأطفال الإناث في العائلة، فاكتب جدول التوزيع الاحتمالي للمتغير العشوائي س . (13 علامة)

وزارة 2019 صيفي (الامتحان التكميلي) خطة 2018 دراسة خاصة

س	0	1	2	3
ل (س)	0,2	0,1	ك	0,3

1) معتمداً الجدول المجاور الذي يُبيّن التوزيع الاحتمالي

للمتغير العشوائي س، ما قيمة الثابت ك؟

أ) 0,04 ب) 0,4

ج) 0,6 د) 0,6

وزارة 2019 صيفي (الامتحان التكميلي) خطة 2018 دراسة خاصة

ب) في تجربة إلقاء قطعتي نقد مرة واحدة، إذا دلّ المتغير العشوائي س على عدد مرات ظهور كتابة على الوجه الظاهر، فجد ل (س) $(1 \leq s)$. (5 علامات)





أ) إذا كان احتمال أن يصيب شخص هدفًا في كل طلقة يطلقها على الهدف يساوي $(0,8)$ ، فإذا أطلق (5) طلقات على الهدف، فما احتمال أن يصيب الهدف مرة واحدة على الأقل؟ (٦ علامات)

وزارة 2019 صيفي (الامتحان التكميلي) خطة المنهاج القديم دراسة خاصة

١) معتمدًا الجدول الآتي الذي يُمثّل التوزيع الاحتمالي للمتغير العشوائي (س)، ما قيمة الثابت ك؟

س	٠	١	٢	٣
ل (س)	٠,٢	ك	٠,٣	٠,١

أ) $(0,1)$ ب) $(0,2)$ ج) $(0,3)$ د) $(0,4)$

وزارة 2019 شتوي (الكتاب الجديد)

أ) غرس مزارع (5) نخلات وكانت نسبة احتمال نجاح غرس النخلة الواحدة (40%) ، ما احتمال نجاح غرس (3) نخلات؟ (٥ علامات)

وزارة 2019 شتوي (الكتاب الجديد)

١) إذا كان التوزيع الاحتمالي للمتغير العشوائي (س) كالآتي: $\{(1+P, 2), (0,1, 1), (0,3, 0)\}$ فإن قيمة الثابت P تساوي:

أ) $0,6-$ ب) $0,4-$ ج) $0,4$ د) $0,6$

وزارة 2019 شتوي (الكتاب القديم)

أ) غرس مزارع (5) نخلات وكانت نسبة نجاح غرس النخلة الواحدة (60%) ، ما احتمال نجاح غرس (3) نخلات؟ (٦ علامات)





(١) إذا كان التوزيع الاحتمالي للمتغير العشوائي (س) كالاتي: $\{(٢, ٢), (٠, ٣), (٠, ٢), (٠, ٠)\}$ فإن قيمة الثابت p تساوي:

- (أ) -٠,٥ (ب) -٠,١ (ج) ٠,١ (د) ٠,٥

وزارة 2018 صيفي (الكتاب الجديد)

(ب) إذا كان س متغيرًا عشوائيًا ذا حدين معاملان $n = ٣$ ، $p = ٠,٩$ ، فجد كلاً مما يأتي: (٦ علامات)

(١) $P(S = ٢)$

(٢) $P(S \leq ١)$

وزارة 2018 صيفي (الكتاب القديم)

٢	١	٠	س
٢	٠,٣	٠,١	ل (س)

(٤) معتمدًا الجدول المجاور الذي يُمثّل التوزيع الاحتمالي

للمتغير العشوائي ع ، ما قيمة الثابت p ؟

- (أ) ٠,٤ (ب) ٠,٠٤ (ج) ٠,٦ (د) ٠,٠٦

وزارة 2018 صيفي (الكتاب القديم)

(ج) في تجربة رمي حجر نرد (٤ مرات متتالية، ما احتمال ظهور العدد (٢) في ثلاث رميات؟ (٦ علامات)

وزارة 2018 شتوي (الكتاب الجديد)

٣	٢	١	٠	س
٠,١	ج	٠,٤	٠,٣	ل (س)

(٢) إذا كان التوزيع الاحتمالي للمتغير العشوائي ع معطى بالجدول

المجاور، فما قيمة الثابت ج؟

- (أ) ٠,٨ (ب) ٠,٠٢ (ج) ٠,٠٨ (د) ٠,٢





ج) يحتوي صندوق على (٥) كرات حمراء و (٣) كرات بيضاء، سُحبت من الصندوق كرتان على التوالي مع الإرجاع بطريقة عشوائية، إذا دلّ المتغير العشوائي ع على عدد الكرات الحمراء المسحوبة، فاكتب جدول التوزيع الاحتمالي للمتغير العشوائي ع.

(٦ علامات)

وزارة 2018 شتوي (الكتاب القديم)

٣) إذا كان التوزيع الاحتمالي للمتغير العشوائي (ع) معطى بالمجموعة الآتية:

{ (٠, ٢, ٠) ، (١, ٤, ٠) ، (٢, ٠, ٠) } ، فما قيمة الثابت ب؟

(د) ٠,٠٦

(ج) ٠,٦

(ب) ٠,٤

(أ) ٠,٠٤

وزارة 2018 شتوي (الكتاب القديم)

ج) إذا كان س متغيراً عشوائياً ذا الحدين، معاملاته $n = ٢$ ، $\mu = ٠,٩$ ، فاكتب جدول التوزيع الاحتمالي للمتغير العشوائي س .

(٦ علامات)

وزارة 2017 صيفي

ب) إذا كان س متغيراً عشوائياً يخضع لتوزيع ذي الحدين، معاملاته n ، μ ، وكان ل (س ≤ ١) ، $\frac{٣٧}{٦٤}$ ،

(٥ علامات)

$n = ٣$ ، فجد قيمة μ

وزارة 2017 صيفي

ب) صندوق يحتوي على (٥) بطاقات مرقمة بالأرقام من ١ إلى ٥، سُحبت من الصندوق بطاقتان على التوالي مع الإرجاع بطريقة عشوائية، إذا دلّ المتغير العشوائي س على عدد البطاقات المسحوبة التي تحمل رقماً زوجياً، فكوّن جدول التوزيع الاحتمالي للمتغير العشوائي س

(٦ علامات)





ب) قررت إحدى شركات استيراد مصابيح كهربائية رفض أية شحنة من مستورداتها إذا وُجِدَت وحدتان معيبتان أو أكثر في عينة عشوائية مكونة من (٨) وحدات. إذا كانت نسبة المعيب في إنتاج الشركة الموردة ١٠٪، فما احتمال قبول الشركة للشحنة؟ (٦ علامات)

وزارة 2016 شتوي

أ) يحتوي صندوق على (٤) كرات حمراء، (٦) كرات بيضاء سُحبت من الصندوق (٣) كرات على التوالي مع الإرجاع. إذا دلّ المتغير العشوائي (س) على عدد الكرات الحمراء المسحوبة، كوّن جدول التوزيع الاحتمالي للمتغير العشوائي س. (٦ علامات)

وزارة 2015 صيفي

أ) أُجريت ثلاث عمليات جراحية في أحد المستشفيات الأردنية وكان احتمال نجاح العملية الواحدة ٨٠٪، إذا دلّ المتغير العشوائي (س) على عدد العمليات الناجحة، كوّن جدول التوزيع الاحتمالي للمتغير العشوائي (س). (٦ علامات)

وزارة 2015 شتوي

ج) قررت إحدى شركات الاستيراد رفض مستورداتها من الشركة المصنعة إذا وُجِدَت وحدتان معيبتان أو أكثر في عينة عشوائية مكونة من ٦ وحدات، فإذا كانت نسبة المعيب في إنتاج الشركة المصنعة ١٠٪ فما احتمال قبول الشركة المستوردة للشحنة؟ (٦ علامات)

وزارة 2014 صيفي

ج) إذا كان (س) متغيرًا عشوائيًا يخضع لتوزيع ذي الحدين، معاملاه $n = 4$ ، $p = \frac{1}{6}$ ، وكان $L(s) = \frac{10}{16}$ (س ≤ ١) فجد:
(١) قيمة أ
(٢) $L(s = 3)$ (٦ علامات)





ج) إذا دل المتغير العشوائي (س) على عدد الأطفال الذكور في تجربة اختيار عشوائي لعائلة لديها (3) أطفال وتسجيل النتائج حسب الجنس وتسلسل الولادة وأن احتمال ولادة الطفل ذكراً يساوي احتمال ولادته أنثى، اكتب جدول التوزيع الاحتمالي للمتغير العشوائي س . (5 علامات)

وزارة 2013 صيفي

ب) زرع شخص شجرتين في حديقة منزله، إذا دل المتغير العشوائي (س) على عدد الأشجار الناجحة وكان احتمال نجاح زراعة الشجرة الواحدة (0,8) ، فأجب عما يأتي:
(1) اكتب قيم س
(2) اكتب جدول التوزيع الاحتمالي للمتغير العشوائي س (5 علامات)

وزارة 2013 شتوي

ب) إذا كان س متغيراً عشوائياً ذا الحدين معاملاته $n = 2$ ، $p = 0,3$ ، فجد :
(1) قيم س .
(2) جدول التوزيع الاحتمالي للمتغير العشوائي س . (5 علامات)

وزارة 2013 شتوي

٦) إذا كان التوزيع الاحتمالي للمتغير العشوائي س معطى بالمجموعة
 $\{(1, 4, 1), (0, 5, 2), (3, 3, 1)\}$ فما قيمة ب ؟
أ) 1 ب) 0,9 ج) 0,1 د) 0,01





وزارة 2020 الدورة التكميلية دراسة خاصة

١٧) إذا كان الفرق بين علامتي طالبين في امتحان يساوي (٢٥)، وكان الفرق بين العلامتين المعياريتين المناظرتين لهما (٢,٥) ، فما قيمة الانحراف المعياري لعلامات جميع الطلبة؟

- أ) ٢٠ ب) ١٥ ج) ١٠ د) ٥

وزارة 2020 الدورة التكميلية دراسة خاصة

٢١) إذا كان المتوسط الحسابي لعلامات طلبة في امتحان الرياضيات يساوي (٧٠) والانحراف المعياري لها (٣) ، فإن العلامة المعيارية المقابلة للعلامة ٦٤ هي:

- أ) ٢ ب) ٢- ج) $\frac{1}{2}$ - د) $\frac{1}{4}$

وزارة 2020 الدورة الصيفية (الامتحان العام) دراسة خاصة

١٧) إذا كان المتوسط الحسابي لعلامات طلاب صف ما في مادة اللغة العربية (٦٢) ، والانحراف المعياري لها (٥) ، فإن العلامة المعيارية للعلامة (٥٩) تساوي:

- أ) ٣- ب) ٣ ج) ٠,٦ د) -٠,٦

وزارة 2019 الدورة الصيفية (الامتحان العام) نظاميون

الاسم	علي	محمد	طارق	يوسف
العلامة المعيارية	-٤	-١	٠	٣

٤) معتمداً الجدول المجاور الذي يُبيّن العلامات المعيارية لأربعة طلاب في امتحان الرياضيات، الطالب الذي تحصيله في الامتحان أفضل هو:

- أ) علي ب) محمد ج) طارق د) يوسف





٢) إذا كان المتوسط الحسابي لمجموعة من القيم يساوي (٦٠) والانحراف المعياري لها يساوي (٤) ، فإن القيمة التي تنحرف انحرافين معياريين تحت المتوسط الحسابي هي:

أ) ٥٦ ب) ٥٨ ج) ٦٨ د) ٥٢

وزارة 2019 الدورة الصيفية (الامتحان العام) خطة 2018 دراسة خاصة

٢) إذا كان المتوسط الحسابي لعلامات طلبة في امتحان عام يساوي ٧٠ ، والانحراف المعياري لها ٥ ، فما العلامة المعيارية المقابلة للعلامة ٦٠ ؟

أ) ٢ ب) ٢- ج) ١٠ د) ١٠-

وزارة 2019 صيفي (الامتحان التكميلي) نظاميون

المبحث	اللغة العربية	الرياضيات	التاريخ	العلوم
العلامة المعيارية	٢	٣	١-	٠

٤) الجدول المجاور يُبيّن العلامات المعيارية لفاطمة في أربعة مباحث، المبحث الذي يكون تحصيل فاطمة فيه أفضل هو:

أ) اللغة العربية ب) الرياضيات ج) التاريخ د) العلوم

وزارة 2019 صيفي (الامتحان التكميلي) نظاميون

٢) إذا كان المتوسط الحسابي لعلامات طلبة في مبحث الرياضيات يساوي (٨٠) والانحراف المعياري لها (٢) ، فإن العلامة المعيارية المقابلة للعلامة (٨٦) هي:

أ) ٣- ب) ٣ ج) $\frac{1}{3}$ - د) $\frac{1}{3}$



٢) إذا كان المتوسط الحسابي لعلامات طلبة في امتحان الرياضيات يساوي ٦٠ ، والانحراف المعياري لها ٥ ، فإن العلامة المعيارية المقابلة للعلامة ٥٨ تساوي:

أ) -٠,٤ ب) ٠,٤ ج) -٢ د) ٢

وزارة 2019 شتوي (الكتاب الجديد)

٢) إذا كان الانحراف المعياري لمجموعة مشاهدات يساوي (١)، وكانت المشاهدة (١٢) تقابل العلامة المعيارية (٢)، فإن المتوسط الحسابي لهذه المشاهدات يساوي:

أ) ١٥ ب) ١٤ ج) ١٠ د) ٦

وزارة 2019 شتوي (الكتاب القديم)

٢) إذا كان الوسط الحسابي لعلامات طلبة في مادة الجغرافيا (٦٠) والانحراف المعياري لها (٤)، فإن العلامة المعيارية التي تقابل العلامة (٥٦) هي:

أ) -١ ب) -٤ ج) ١ د) ٤

وزارة 2018 صيفي (الكتاب الجديد)

٤) معتمداً الجدول المجاور الذي يُبيّن العلامات المعيارية لطالب في أربعة مباحث، ما المبحث الذي يكون

المبحث	الرياضيات	التاريخ	الجغرافيا	اللغة العربية
العلامة المعيارية	١	٠	-٣	٢

تحصيل الطالب فيه أفضل؟

أ) الرياضيات ب) التاريخ

ج) الجغرافيا د) اللغة العربية

وزارة 2017 شتوي

١) إذا كانت علامتا طالبين من الصف نفسه في مبحث اللغة العربية ٩٠ ، ٧٥ ، والعلامتان المعياريتان المقابلتان لهاتين العلامتين هما ٢ ، -١ على الترتيب، فجد الوسط الحسابي لعلامات الطلبة في مبحث اللغة العربية في هذا الصف. (٤ علامات)





أ) في توزيع تكراري إذا كانت العلامة الخام (٦٨) تقابل العلامة المعيارية (٠,٥) ، وكان الوسط الحسابي (٦٥) ، جد الانحراف المعياري للتوزيع. (٤ علامات)

وزارة 2014 شتوي

أ) إذا كان الوسط الحسابي لعلامات طالبة في أحد الصفوف في مادة العلوم (٦٠) والانحراف المعياري لها (٦) ، أجب عما يأتي :
١) جد العلامة التي تتحرف انحرافين معياريين فوق الوسط الحسابي.
٢) إذا كان الفرق بين علامتي طالبين من الصف نفسه في مادة العلوم ٩ ، فما الفرق بين العلامتين المعياريتين المناظرتين لهاتين العلامتين ؟

وزارة 2013 صيفي

٧) في توزيع تكراري إذا كانت العلامة الخام (٧٨) تقابل العلامة المعيارية (٣) وكان الوسط الحسابي للتوزيع (٦٠) ، فإن الانحراف المعياري للتوزيع يساوي :
■ ١٨ ■ ١٢ ■ ٩ ■ ٦

وزارة 2013 شتوي

٥) إذا كان الوسط الحسابي لأعمار مجموعة من الأشخاص ٤٢ سنة والانحراف المعياري لها (٤) ، فإن العمر الذي ينحرف انحرافين معياريين تحت الوسط الحسابي هو :
أ) ٣٤ ب) ٥٠ ج) ٤٠ د) ٣٨





وزارة 2020 الدورة التكميلية دراسة خاصة

٢٣) إذا كان (ز) متغيرًا عشوائيًا طبيعيًا معياريًا، وكان ل (ز) $(أ \geq)$ $0,7 =$ ، فإن قيمة ل (ز) $(\leq - أ)$ تساوي:

- (أ) ٠,٠٧ (ب) ٠,٠٣ (ج) ٠,٧ (د) ٠,٣

وزارة 2020 الدورة الصيفية (الامتحان العام) دراسة خاصة

١٨) إذا كان (ز) متغيرًا عشوائيًا طبيعيًا معياريًا ، وكان ل (ز) $(\leq - ٢) = 0,8$ ، فإن ل (ز) (≥ ٢) تساوي:

- (أ) ٠,٢ (ب) ٠,٠٢ (ج) ٠,٠٨ (د) ٠,٨

وزارة 2019 الدورة الصيفية (الامتحان العام) نظاميون

٥) إذا كان (ز) متغيرًا عشوائيًا طبيعيًا معياريًا، وكان ل (ز) $(\geq ٢) = 0,8$ ، فإن قيمة ل (ز) $(\geq - ٢)$ تساوي:

- (أ) ٠,٠٨ (ب) ٠,٢ (ج) ٠,٠٢ (د) ٠,٨

وزارة 2019 الدورة الصيفية (الامتحان العام) نظاميون

ب) تتبع كتل (٢٠٠٠٠) طفل حديثي الولادة توزيعًا طبيعيًا متوسطه الحسابي (٤) كغم، وانحرافه المعياري (٠,٥) ،

ما عدد الأطفال الذين تكون كتلتهم أكبر من أو يساوي (٣,٥) كغم؟ (١٤ علامة)

ملاحظة: يمكنك الاستفادة من الجدول الآتي الذي يمثل جزءًا من جدول التوزيع الطبيعي المعياري:

٢	١,٥	١	٠,٥	٠	٢
٠,٩٧٧٢	٠,٩٣٣٢	٠,٨٤١٣	٠,٦٩١٥	٠,٥٠٠٠	ل (ز) (≥ ٢)



(١) إذا كان (ز) متغيرًا عشوائيًا طبيعيًا معياريًا، وكان ل (ز) $P \geq 0,7$ ، فإن قيمة ل (ز) $P \leq 0,7$ تساوي:

أ) ٠,٠٧ (ب) ٠,٧ (ج) ٠,٣ (د) ٠,٠٣

وزارة 2019 الدورة الصيفية (الامتحان العام) خطة 2018 دراسة خاصة

(ج) تتبع معدلات طلبة في إحدى الجامعات توزيعًا طبيعيًا متوسطه الحسابي يساوي (٦٠) ، وانحرافه المعياري (١٠) ، إذا اختير طالب عشوائيًا، فما احتمال أن يكون معدله أكبر من أو يساوي ٧٥؟ (٤ علامات)

ملاحظة: يمكنك الاستعانة بالجدول الآتي الذي يمثل جزءًا من جدول التوزيع الطبيعي المعياري:

١,٥	١	٠,٥	٠,٢	٠,١	٠	٢
٠,٩٣٣٢	٠,٨٤١٣	٠,٦٩١٥	٠,٥٧٩٣	٠,٥٣٩٨	٠,٥٠٠٠	ل (ز) $P \geq 0$

وزارة 2019 الدورة الصيفية (الامتحان العام) خطة المنهاج القديم دراسة خاصة

(٣) إذا كان (ز) متغيرًا عشوائيًا طبيعيًا معياريًا، وكان ل (ز) $P \geq 0,6$ ، فإن قيمة ل (ز) $P \leq 0,6$ تساوي:

أ) ٠,٠٤ (ب) ٠,٠٦ (ج) ٠,٦ (د) ٠,٤

وزارة 2019 الدورة الصيفية (الامتحان العام) خطة المنهاج القديم دراسة خاصة

أ) تقدم (١٠٠٠٠) طالب لامتحان عام، وكانت علاماتهم تتبع توزيعًا طبيعيًا بوسط حسابي (٥٤) وانحراف معياري (٨)، إذا كانت علامة النجاح (٥٠) ، فجدد عدد الطلبة الناجحين في الامتحان. (٦ علامات)

ملاحظة: يمكنك الاستفادة من الجدول الآتي الذي يُمثل جزءًا من جدول التوزيع الطبيعي المعياري.

٢,٥	٢	١,٥	١	٠,٥	٠	٢
٠,٩٩٣٨	٠,٩٧٧٢	٠,٩٣٣٢	٠,٨٤١٣	٠,٦٩١٥	٠,٥٠٠٠	ل (ز) $P \geq 0$





٥) إذا كان (ز) متغيرًا عشوائيًا طبيعيًا معياريًا، وكان ل (ز) $P \geq 0.6$ ، فإن قيمة ل (ز) تساوي:

أ) ٠,٠٤ ب) ٠,٠٦ ج) ٠,٤ د) ٠,٦

وزارة 2019 صيفي (الامتحان التكميلي) نظاميون

ب) تتبع علامات طلبة في امتحان عام توزيعًا طبيعيًا متوسطه الحسابي (٦٥)، وانحرافه المعياري (١٠) ، إذا اختير طالب عشوائيًا، فما احتمال أن تكون علامته أقل من أو يساوي (٦٠)؟ (١٤ علامة)
ملاحظة: يمكنك الاستفادة من الجدول الآتي الذي يمثل جزءًا من جدول التوزيع الطبيعي المعياري:

٢	١,٥	١	٠,٥	٠,٢	٢
٠,٩٧٧٢	٠,٩٣٣٢	٠,٨٤١٣	٠,٦٩١٥	٠,٥٧٩٣	ل (ز) $P \geq$

وزارة 2019 صيفي (الامتحان التكميلي) خطة 2018 دراسة خاصة

ج) تخضع كتل مواليد حديثي الولادة لتوزيع طبيعي متوسطه الحسابي يساوي (٣,٥) كغم، وانحرافه المعياري (٢) ، إذا اختير طفل عشوائيًا، فما احتمال أن يكون وزنه أكبر من أو يساوي (٤) كغم؟ (٤ علامات)

ملاحظة: يمكنك الاستفادة بالجدول الآتي الذي يمثل جزءًا من جدول التوزيع الطبيعي المعياري:

١	٠,٥	٠,٢٥	٠,٢	٠	٢
٠,٨٤١٣	٠,٦٩١٥	٠,٥٩٨٧	٠,٥٧٩٣	٠,٥٠٠٠	ل (ز) $P \geq$

وزارة 2019 صيفي (الامتحان التكميلي) خطة 2018 دراسة خاصة

١) إذا كان (ز) متغيرًا عشوائيًا طبيعيًا معياريًا، وكان ل (ز) $P \geq 0.8$ ، فما قيمة ل (ز) $P \leq$ ؟

أ) ٠,٢ ب) ٠,٨ ج) ٠,٠٢ د) ٠,٠٨





ب) إذا كان (س) متغيرًا عشوائيًا يتبع التوزيع الطبيعي الذي وسطه الحسابي (٤٠) وانحرافه المعياري (٥) ، فأجب عن كلِّ مما يأتي:

(١) جد قيمة ل (س \geq ٤٥)

(٢) جد قيمة ٢ حيث ل (ز \leq ٢) = ٠,٠٠٦٢

ملاحظة: يمكنك الاستفادة من الجدول الآتي الذي يُمثل جزءًا من جدول التوزيع الطبيعي المعياري:

٢,٥	٢	١,٥	١	٢
٠,٩٩٣٨	٠,٩٧٧٢	٠,٩٣٣٢	٠,٨٤١٣	ل (ز \geq ٢)

وزارة 2019 صيفي (الامتحان التكميلي) خطة المنهاج القديم دراسة خاصة

(٢) تتبع علامات طالبة لتوزيع طبيعي وسطه الحسابي (٦٠)، وانحرافه المعياري (٤)، إذا كانت العلامة المعيارية المقابلة لعلامة طالب تساوي (-٣)، فإن العلامة الفعلية التي حصل عليها هذا الطالب هي:

أ) ٥٧ ب) ٤٨ ج) ٦٤ د) ٧٢

وزارة 2019 شتوي (الكتاب الجديد)

ب) إذا كان (س) متغيرًا عشوائيًا يتبع التوزيع الطبيعي بمتوسط حسابي (١٠) وانحراف معياري (١) فجد:

(١) قيمة ٢ حيث ل (ز \leq ٢) = ٠,٠٢٢٨

(٢) ل (س \geq ١١)

ملاحظة: يمكنك الاستفادة من الجدول الآتي الذي يُمثل جزءًا من جدول التوزيع الطبيعي المعياري:

٢	١	٠,٢	٠,١	٠	ز
٠,٩٧٧٢	٠,٨٤١٣	٠,٥٧٩٣	٠,٥٣٩٨	٠,٥٠٠٠	ل (ز \geq ٢)





ب) إذا كان (س) متغيرًا عشوائيًا يتبع التوزيع الطبيعي بمتوسط حسابي (١٢) وانحراف معياري (٢) فجد:

١) قيمة P حيث $L (Z \leq P) = 0,1587$

٢) $L (س \geq 16)$

ملاحظة: يمكنك الاستفادة من الجدول الآتي الذي يُمثّل جزءًا من جدول التوزيع الطبيعي المعياري:

ز	٠	٠,١	٠,٢	١	٢
$L (Z \geq P)$	٠,٥٠٠٠	٠,٥٣٩٨	٠,٥٧٩٣	٠,٨٤١٣	٠,٩٧٧٢

(٦ علامات)

وزارة 2018 صيفي (الكتاب الجديد)

٣) الشكل المجاور يُمثّل منحنى توزيع طبيعي معياري لبيانات إهدى الدراسات، إذا علمت أن:


$L (Z - \geq P) = 0,3$ ، فما قيمة $L (Z \geq P)$ ؟

أ) ٠,٣

ب) ٠,٠٣

ج) ٠,٧

د) ٠,٠٧



وزارة 2018 صيفي (الكتاب الجديد)

ج) تتبع علامات طالبة في امتحان عام توزيعًا طبيعيًا متوسطه الحسابي (٧٥) ، وانحرافه المعياري (٥) ،

إذا اختير طالب عشوائيًا، فما احتمال أن تكون علامته أقل من أو يساوي (٨٠) ؟ (٤ علامات)

ملاحظة: يمكنك الاستفادة من الجدول الآتي الذي يُمثّل جزءًا من جدول التوزيع الطبيعي المعياري:

ز	٠	٠,١	٠,٢	١	٢
$L (Z \geq P)$	٠,٥٠٠٠	٠,٥٣٩٨	٠,٥٧٩٣	٠,٨٤١٣	٠,٩٧٧٢

وزارة 2018 صيفي (الكتاب القديم)

٣) إذا كان (ز) متغيرًا عشوائيًا معياريًا، وكان $L (Z \leq P) = 0,2$ ، فما قيمة $L (Z - \geq P)$ ؟

أ) ٠,٨

ب) ٠,٢

ج) ٠,٠٨

د) ٠,٠٢





أ) تخضع أوزان أطفال حديثي الولادة لتوزيع طبيعي وسطه الحسابي (٣) كغ، وانحرافه المعياري (٢) كغ، إذا اختير طفل عشوائيًا عند الولادة، فما احتمال أن يكون وزنه أكبر من (٤) كغ؟ (٦ علامات)

ملاحظة: يمكنك الاستفادة من الجدول الآتي الذي يُمثّل جزءًا من جدول التوزيع الطبيعي المعياري.

ز	٠	٠,٥	١	١,٥	٢
ل (ز ≥ ٢)	٠,٥٠٠٠	٠,٦٩١٥	٠,٨٤١٣	٠,٩٣٣٢	٠,٩٧٧٢

وزارة 2018 شتوي (الكتاب الجديد)

أ) إذا كانت أطوال طلبة في إحدى المدارس تتبع توزيعًا طبيعيًا متوسطه الحسابي (١٥٥) سم، وانحرافه المعياري (١٠)، اختير طالب عشوائيًا، ما احتمال أن يكون طوله (١٥٠) سم على الأقل؟ (٥ علامات)

ملاحظة: يمكنك الاستفادة من الجدول الآتي والذي يُمثّل جزءًا من جدول التوزيع الطبيعي المعياري.

ز	٠,٠١	٠,٠٢	٠,٠٥	٠,٢	٠,٥
ل (ز ≥ ١)	٠,٥٠٤٠	٠,٥٠٨٠	٠,٥١٩٩	٠,٥٧٩٣	٠,٦٩١٥

وزارة 2018 شتوي (الكتاب القديم)

أ) إذا كانت أوزان ١٠٠٠٠ طالب تتخذ شكل التوزيع الطبيعي بوسط حسابي (٥٠) كغ، وانحراف معياري (٦)، فما عدد الطلبة الذين تنحصر أوزانهم بين (٤٧) كغ و (٥٦) كغ؟ (٨ علامات)

ملاحظة: يمكنك الاستفادة من الجدول الآتي والذي يُمثّل جزءًا من جدول التوزيع الطبيعي المعياري.

ز	٠	٠,٥	١	١,٥	٢
ل (ز ≥ ١)	٠,٥٠٠٠	٠,٦٩١٥	٠,٨٤١٣	٠,٩٣٣٢	٠,٩٧٧٢





ج) إذا كانت علامات (١٠٠٠٠) طالب تتخذ شكل التوزيع الطبيعي بوسط حسابي (٥٦) وانحراف معياري (١٠)، وكان عدد الناجحين (٦٩١٥) طالبًا، فما علامة النجاح؟
ملاحظة: يمكنك الاستفادة من الجدول الآتي والذي يُمثّل جزءاً من جدول التوزيع الطبيعي المعياري.

ز	٠,١	٠,٢	٠,٣	٠,٤	٠,٥
ل (ز ≥ أ)	٠,٥٣٩٨	٠,٥٧٩٣	٠,٦١٧٩	٠,٦٥٥٤	٠,٦٩١٥

وزارة 2017 شتوي

ج) إذا كانت أوزان (١٠٠٠٠) طالب تتبع توزيعاً طبيعياً وسطه الحسابي (٤٨) كغ، وانحرافه المعياري (٣) كغ، ما عدد الطلبة الذين تنحصر أوزانهم بين (٤٢) كغ و (٥١) كغ؟
ملاحظة: يمكنك الاستفادة من الجدول الآتي الذي يُمثّل جزءاً من جدول التوزيع الطبيعي المعياري.

ز	٠	٠,٥	١	١,٥	٢
ل (ز ≥ أ)	٠,٥٠٠٠	٠,٦٩١٥	٠,٨٤١٣	٠,٩٣٣٢	٠,٩٧٧٢

وزارة 2016 صيفي

ج) نتبع أوزان (٢٠٠٠) صندوق تفاح عند التعبئة توزيعاً طبيعياً، وسطه الحسابي (٦) كغم، وانحرافه المعياري (٠,٣) كغم. جد عدد الصناديق التي يقل وزنها عن (٥,٧) كغم.
ملاحظة: يمكنك الاستفادة من الجدول الآتي والذي يُمثّل جزءاً من جدول التوزيع الطبيعي المعياري.

ز	٠	٠,٣	٠,٥	١	١,٥
ل (ز ≥ أ)	٠,٥٠٠٠	٠,٦١٧٩	٠,٦٩١٥	٠,٨٤١٣	٠,٩٣٣٢





ج) إذا كانت علامات (١٠٠٠٠) طالب تتخذ شكل التوزيع الطبيعي وكان الوسط الحسابي للعلامات (٥٨)،
الانحراف المعياري لها (١٠) وكان عدد الطلبة الناجحين (٦١٧٩) طالباً فجد علامة النجاح. (٧ علامات)

ملاحظة: يمكنك الاستفادة من الجدول الآتي والذي يمثل جزءاً من جدول التوزيع الطبيعي المعياري.

٠,٥	٠,٤	٠,٣	٠,٢	٠,١	٠	ز
٠,٦٩١٥	٠,٦٥٥٤	٠,٦١٧٩	٠,٥٧٩٣	٠,٥٣٩٨	٠,٥٠٠٠	ل (ز ≥ أ)

وزارة 2015 صيفي

ج) يخضع معامل الذكاء للطلبة المسجلين في إحدى الجامعات وعددهم (٦٠٠٠) طالباً لتوزيع طبيعي وسطه الحسابي
(١٠٨) وانحرافه المعياري (١٠)، فما عدد الطلبة الذين ينحصر معامل ذكائهم بين (١٠٣) و (١١٨) ؟
(٧ علامات)

ملاحظة: يمكنك الاستفادة من الجدول الآتي والذي يمثل جزءاً من جدول التوزيع الطبيعي المعياري.

٢	١,٥	١	٠,٥	٠	ز
٠,٩٧٧٢	٠,٩٣٣٢	٠,٨٤١٣	٠,٦٩١٥	٠,٥٠٠٠	ل (ز ≥ أ)

وزارة 2015 شتوي

ب) تقم (١٥٠٠٠) طالباً لامتحان ما، وكانت نتائجهم تتخذ شكل التوزيع الطبيعي وكان الوسط الحسابي لعلاماتهم
(٦٥) والانحراف المعياري (٥) وعلامة النجاح (٦٠). جد عدد الطلبة الناجحين في الامتحان. (٧ علامات)

ملاحظة: يمكنك الاستفادة من الجدول الآتي والذي يمثل جزءاً من جدول التوزيع الطبيعي المعياري.

٢	١,٥	١	٠,٥	٠	ز
٠,٩٧٧٢	٠,٩٣٣٢	٠,٨٤١٣	٠,٦٩١٥	٠,٥٠٠٠	ل (ز ≥ أ)





ب) إذا كانت رواتب (١٠٠٠٠) موظف تتخذ شكل التوزيع الطبيعي، وكان الوسط الحسابي لرواتبهم (٣٥٠) ديناراً، والانحراف المعياري لها (٢٥) ديناراً، فما عدد الموظفين الذين تتحصر رواتبهم بين (٣٢٥) ديناراً و (٤٠٠) ديناراً؟ (٧ علامات)

ملاحظة : يمكنك الاستفادة من الجدول الآتي والذي يمثل جزءاً من جدول التوزيع الطبيعي المعياري.

٢,٥	٢	١,٥	١	٠,٥	٠	ز
٠,٩٩٣٨	٠,٩٧٧٢	٠,٩٣٣٢	٠,٨٤١٣	٠,٦٩١٥	٠,٥٠٠٠	ل (ز ≥ أ)

وزارة 2014 شتوي

ب) إذا كانت علامات (١٠٠٠٠) طالب تتخذ شكل التوزيع الطبيعي وكان الوسط الحسابي للعلامات (٦٢)، والانحراف المعياري لها (١٠)، وكان عدد الطلبة الناجحين (٥٧٩٣) طالباً فما علامة النجاح؟ (٧ علامات)

ملاحظة : يمكنك الاستفادة من الجدول الآتي والذي يمثل جزءاً من جدول التوزيع الطبيعي المعياري.

٠,٥	٠,٤	٠,٣	٠,٢	٠,١	٠	ز
٠,٦٩١٥	٠,٦٥٥٤	٠,٦١٧٩	٠,٥٧٩٣	٠,٥٣٩٨	٠,٥٠٠٠	ل (ز ≥ أ)

وزارة 2013 صيفي

٦) الوسط الحسابي للتوزيع الطبيعي المعياري هو :

١ ■

٠,٥ ■

صفر ■

١- ■





ج) تتخذ أوزان (٢٠٠٠٠) شخص شكل التوزيع الطبيعي بوسط حسابي (٧٥) كغم ، وانحراف معياري (٥) كغم ، جد عدد الأشخاص الذين تقل أوزانهم عن (٧٢) كغم. (٦ علامات)

ملاحظة : يمكنك الاستعانة من الجدول الآتي والذي يمثل جزءاً من جدول التوزيع الطبيعي المعياري.

٣	٢,٦	٢	١,٦	٠,٦	٠,٥٠٠٠	ز
٠,٩٩٨٧	٠,٩٩٥٣	٠,٩٧٧٢	٠,٩٤٥٢	٠,٧٢٥٧	٠,٥٠٠٠	ل(ز)

وزارة 2013 شتوي

أ) تقدم (١٠٠٠٠) طالب لامتحان عام وكانت علاماتهم تتبع التوزيع الطبيعي بوسط حسابي (٥٤) وانحراف معياري (٨) . جد عدد الطلبة الناجحين في الامتحان إذا كانت علامة النجاح (٥٠) . (٦ علامات)
ملاحظة : يمكنك الاستعانة بالجدول الآتي :

٢,٥	٢	١,٥	١	٠,٥	٠	ز
٠,٩٩٣٨	٠,٩٧٧٢	٠,٩٣٣٢	٠,٨٤١٣	٠,٦٩١٥	٠,٥٠٠٠	ل(ز)





أولا : الارتباط

وزارة 2020 الدورة التكميلية دراسة خاصة

٢٤) إذا كان s ، v متغيرين عدد قيم كل منهما ٥ ، وكان $\sum_{k=1}^5 (s_k - \bar{s})^2 = 20$ ، $\sum_{k=1}^5 (v_k - \bar{v})^2 = 80$ ،

$\sum_{k=1}^5 (s_k - \bar{s})(v_k - \bar{v}) = 20$ ، فما قيمة معامل ارتباط بيرسون بين المتغيرين s ، v ؟

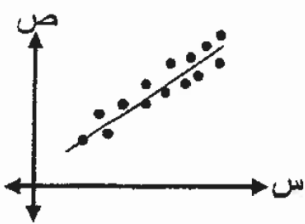
- أ) ٠,٥ (ب) -٠,٥ (ج) -١ (د) ١

وزارة 2020 الدورة الصيفية (الامتحان العام) دراسة خاصة

١٩) إذا كان معامل الارتباط بين المتغيرين s ، v يساوي $(-٠,٩)$ ، فما نوع العلاقة بين s ، v ؟

- أ) عكسية قوية (ب) عكسية تامة (ج) طردية قوية (د) طردية تامة

وزارة 2019 الدورة الصيفية (الامتحان العام) نظاميون



١) ما نوع العلاقة التي تربط بين المتغيرين s ، v في شكل الانتشار المجاور؟

- أ) طردية تامة (ب) عكسية تامة (ج) طردية (موجبة) (د) عكسية (سالبة)

وزارة 2019 الدورة الصيفية (الامتحان العام) نظاميون

٤) إذا كان معامل الارتباط بين المتغيرين s ، v هو $(٠,٦)$ ، فإن قيمة معامل الارتباط بين s^* ، v^*

حيث: $s^* = s - ٥$ ، $v^* = v - ٣$ تساوي:

- أ) $٠,٦$ (ب) $٠,٦$ (ج) $٠,٠٦$ (د) $-٠,٠٦$





(١٣ علامة)

٨	٧	٣	٥	٢	س
١٥	١٣	٥	٩	٣	ص

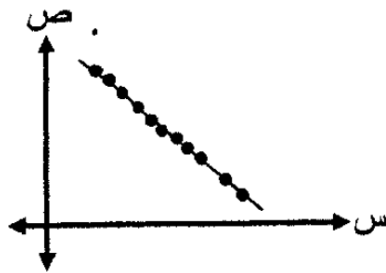
ج) احسب معامل ارتباط بيرسون بين المتغيرين س ، ص للقيم المبينة في الجدول المجاور.

وزارة 2019 الدورة الصيفية (الامتحان العام) خطة 2018 دراسة خاصة

٣) أي معاملات الارتباط الآتية أقوى؟

- أ) -٠,٦ ب) ٠,٧ ج) -٠,٩ د) ٠,١

وزارة 2019 الدورة الصيفية (الامتحان العام) خطة 2018 دراسة خاصة



٢) ما نوع العلاقة بين المتغيرين س ، ص في شكل الانتشار المجاور؟

- أ) طردية (موجبة) ب) عكسية (سالبة)
ج) طردية (تامة) د) عكسية (تامة)

وزارة 2019 الدورة الصيفية (الامتحان العام) خطة 2018 دراسة خاصة

ب) استعن بالجدول الآتي لحساب معامل ارتباط بيرسون الخطي بين المتغيرين س ، ص : (٦ علامات)

س _ك	ص _ك	س _ك - $\bar{س}$	ص _ك - $\bar{ص}$	(س _ك - $\bar{س}$) ^٢	(ص _ك - $\bar{ص}$) ^٢	(س _ك - $\bar{س}$)(ص _ك - $\bar{ص}$)
٦	١٦	٠	٠	٠	٠	٠
٨	٢٢	٢	٦	٤	٣٦	١٢
٤	١٠	-٢	-٦	٤	٣٦	-١٢
٥	١٣	-١	-٣	١	٩	٣
٧	١٩	١	٣	١	٩	٣





وزارة 2019 الدورة الصيفية (الامتحان العام) خطة المنهاج القديم دراسة خاصة

٥) إذا كان معامل الارتباط (ر) بين المتغيرين س ، ص يساوي -١ ، فإن نوع الارتباط بين المتغيرين س ، ص يوصف بأنه:

أ) طردي تام (ب) عكسي تام (ج) طردي قوي (د) عكسي قوي

وزارة 2019 الدورة الصيفية (الامتحان العام) خطة المنهاج القديم دراسة خاصة

ب) معتمداً البيانات الواردة في الجدول الآتي، جد معامل ارتباط بيرسون الخطي (ر) بين المتغيرين س ، ص :
(٤ علامات)

س ك	ص ك	س ك - $\bar{س}$	ص ك - $\bar{ص}$	(س ك - $\bar{س}$) ^٢	(ص ك - $\bar{ص}$) ^٢	(س ك - $\bar{س}$) (ص ك - $\bar{ص}$)
٢	٣	-٣	-٢	٩	٤	-٦
٤	٦	-١	١	١	١	-١
٦	٤	١	-١	١	١	-١
٨	٧	٣	٢	٩	٤	٦

وزارة 2019 صيفي (الامتحان التكميلي) نظاميون

١) أي قيم معامل الارتباط الآتية أقوى؟

أ) -٠,٩ (ب) -٠,٢ (ج) ٠,٦ (د) ٠,٨

وزارة 2019 صيفي (الامتحان التكميلي) نظاميون

٤) إذا كان معامل الارتباط بين المتغيرين س ، ص هو (٠,٨) ، فإن قيمة معامل الارتباط بين س* ، ص* حيث: س* = ١٥ - ٢س ، ص* = ٣ - ص تساوي:

أ) -٠,٠٨ (ب) ٠,٠٨ (ج) -٠,٨ (د) ٠,٨





(ج) احسب معامل ارتباط بيرسون بين المتغيرين س ، ص للقيم المُبيّنة في الجدول الآتي:
(١٣ علامة)

س	٦	٨	١٠	٤	١٢
ص	٥	٦	٧	٤	٨

وزارة 2019 صيفي (الامتحان التكميلي) خطة 2018 دراسة خاصة

(٣) إذا كان معامل الارتباط بين المتغيرين س ، ص يساوي ١ ، فإن العلاقة بين المتغيرين س ، ص توصف بأنها:

أ (طردية (ضعيفة) ب) عكسية (ضعيفة) ج) طردية تامة د) عكسية تامة

وزارة 2019 صيفي (الامتحان التكميلي) خطة 2018 دراسة خاصة

(٢) إذا كان معامل الارتباط بين المتغيرين س ، ص يساوي ٠,٤ ، فإن معامل الارتباط بين المتغيرين س* ، ص* حيث س* = ١ - ٢س ، ص* = ٥ - ص يساوي:

أ) ٠,٦ - ب) ٠,٦ ج) ٠,٤ - د) ٠,٤

وزارة 2019 صيفي (الامتحان التكميلي) خطة 2018 دراسة خاصة

ب) إذا كان س ، ص متغيرين عدد قيم كل منهما ٥ ، وكان $\sum_{ك=١}^٥ (س_ك - \bar{س}) = ١٠$ ،

$\sum_{ك=١}^٥ (ص_ك - \bar{ص}) = ٤٠$ ، $\sum_{ك=١}^٥ (س_ك - \bar{س})(ص_ك - \bar{ص}) = ٢٠$ ،

(٤ علامات)

فاحسب معامل ارتباط بيرسون بين المتغيرين س ، ص .



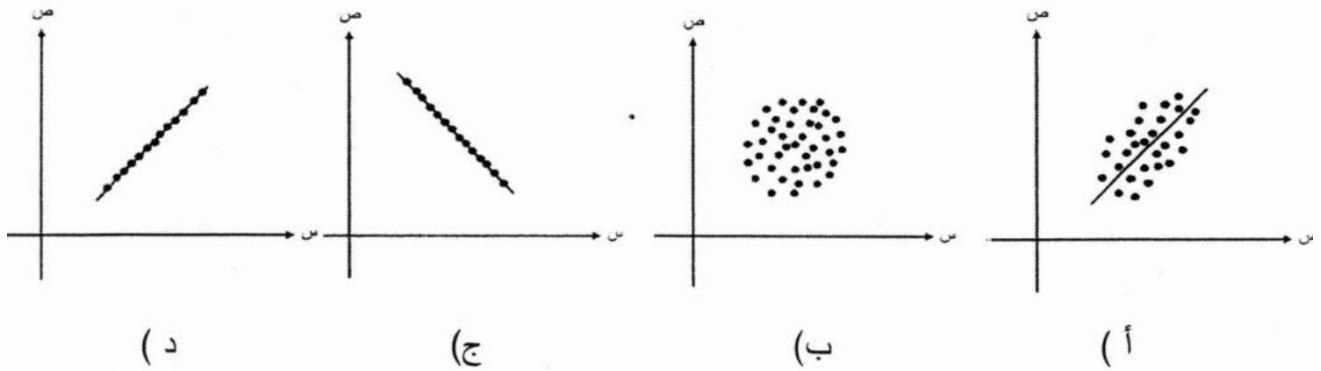


أ) احسب معامل ارتباط بيرسون بين المتغيرين س ، ص للقيم المُبيّنة في الجدول الآتي: (٨ علامات)

س	٦	٧	٥	٣	٤
ص	٥	٦	٤	١	٤

وزارة 2019 صيفي (الامتحان التكميلي) خطة المنهاج القديم دراسة خاصة

٢) أي أشكال الانتشار الآتية يُمثّل علاقة ارتباط عكسي تام بين المتغيرين س ، ص؟



وزارة 2019 شتوي (الكتاب الجديد)

أ) احسب معامل ارتباط بيرسون بين المتغيرين س ، ص في الجدول الآتي: (٨ علامات)


س	٣	٤	٥	٤
ص	٨	٧	٥	٨

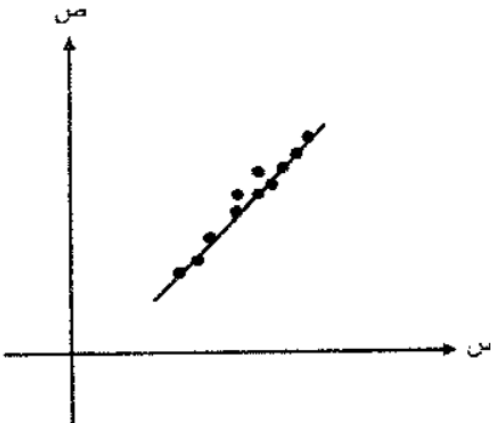
وزارة 2019 شتوي (الكتاب الجديد)

١) إذا كان معامل ارتباط بيرسون بين المتغيرين س ، ص يساوي $(-٠,٢)$ وكان $س = ٥ + ٧$ ،

ص $= ١ - *$ ، فإن معامل الارتباط بين س ، ص $*$ يساوي:

أ) $-٠,٢$ (ب) $-٠,٢$ (ج) $٠,٢$ (د) $١,٢$





٢) ما نوع العلاقة التي تربط بين المتغيرين س ، ص ،
في شكل الانتشار المجاور؟

- أ) طردية قوية
ب) طردية ضعيفة
ج) عكسية قوية
د) عكسية ضعيفة

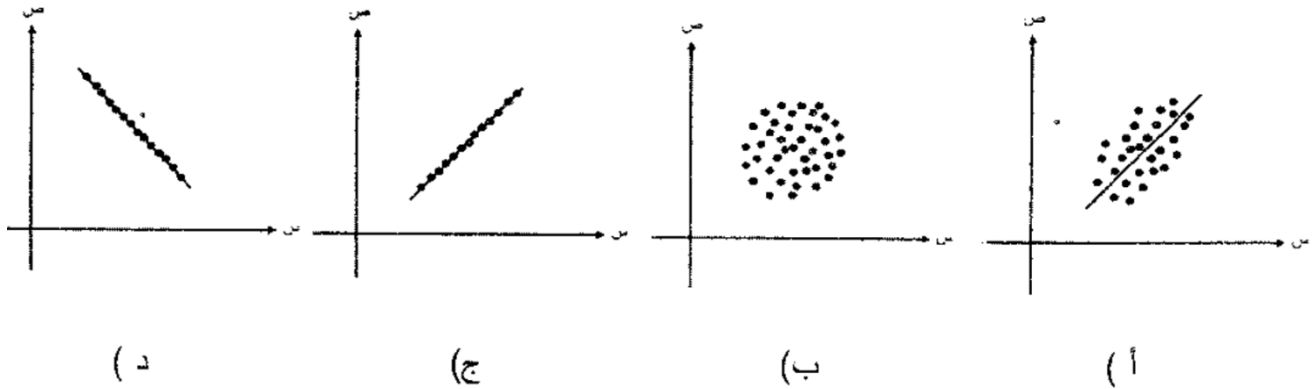
وزارة 2019 شتوي (الكتاب القديم)

أ) احسب معامل ارتباط بيرسون بين المتغيرين س ، ص في الجدول الآتي: (٨ علامات)

س	٣	٣	٦	٤
ص	٦	٨	٧	٧

وزارة 2019 شتوي (الكتاب القديم)

٢) أي أشكال الانتشار الآتية تُمثّل علاقة ارتباط طردي تام بين المتغيرين س ، ص؟





أ) إذا كان s ، v متغيرين ، عدد قيم كل منهما (5) ، وكان

$$\sum_{k=1}^5 (s_k - \bar{s})(v_k - \bar{v}) = 10 \quad , \quad \sum_{k=1}^5 (s_k - \bar{s})(v_k - \bar{v}) = 7$$

$$\sum_{k=1}^5 (v_k - \bar{v})^2 = 20 \quad , \quad \text{فجد معامل ارتباط بيرسون الخطي بين المتغيرين } s \text{ ، } v$$

(4 علامات)

وزارة 2018 صيفي (الكتاب القديم)

ه) إذا كان معامل الارتباط (r) بين المتغيرين s ، v يساوي -0,98 ، فما نوع الارتباط بين

المتغيرين s ، v ؟

أ) طردي تام ب) عكسي تام ج) طردي قوي د) عكسي قوي

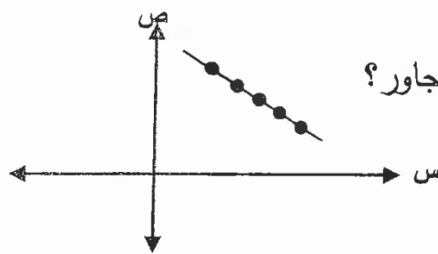
وزارة 2018 صيفي (الكتاب القديم)

ب) إذا كان s ، v متغيرين ، عدد قيم كل منهما (7) ، وكان

$$\sum_{k=1}^7 (s_k - \bar{s})(v_k - \bar{v}) = 10 \quad , \quad \sum_{k=1}^7 (s_k - \bar{s})(v_k - \bar{v}) = 20$$

$$\sum_{k=1}^7 (v_k - \bar{v})^2 = 40 \quad , \quad \text{فاحسب معامل ارتباط بيرسون الخطي بين المتغيرين } s \text{ ، } v \text{ (3 علامات)}$$

وزارة 2018 شتوي (الكتاب الجديد)



3) ما نوع العلاقة التي تربط بين المتغيرين s ، v في شكل الانتشار المجاور؟

- أ) طردية (موجبة) ب) طردية تامة
ج) عكسية تامة د) عكسية (سالبة)



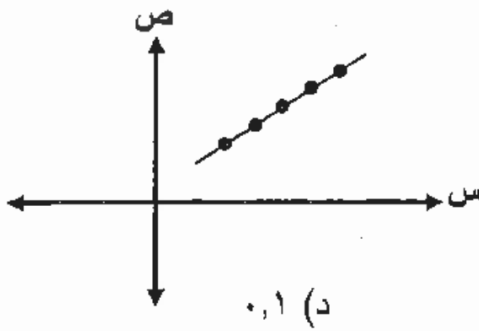


ب) إذا كان s ، v متغيرين عدد قيم كل منهما (9) وكان

$$\sum_{k=1}^9 (s_k - \bar{s})(v_k - \bar{v}) = 160$$
$$\sum_{k=1}^9 (s_k - \bar{s})^2 = 400$$
$$\sum_{k=1}^9 (v_k - \bar{v})^2 = 81$$

فجد معامل ارتباط بيرسون الخطي بين المتغيرين s ، v . (3 علامات)

وزارة 2018 شتوي (الكتاب القديم)



ع) معتمداً شكل الانتشار المجاور الذي يبين العلاقة بين المتغيرين s ، v ، ما قيمة معامل الارتباط (ر) بين المتغيرين s ، v ؟

د) 0,1

ج) -0,1

ب) -1

أ) 1

وزارة 2018 شتوي (الكتاب القديم)

ب) إذا كان s ، v متغيرين عدد قيم كل منهما (6) ، وكان $\sum_{k=1}^6 (s_k - \bar{s})(v_k - \bar{v}) = 12$ ،

$$\sum_{k=1}^6 (s_k - \bar{s})^2 = 9$$
$$\sum_{k=1}^6 (v_k - \bar{v})^2 = 16$$

فاحسب معامل ارتباط بيرسون الخطي (ر) بين المتغيرين s ، v . (3 علامات)





(٨ علامات)

أ) احسب معامل ارتباط بيرسون الخطي بين المتغيرين س ، ص في الجدول الآتي:

س	١٠	٩	١٣	١٥	٨
ص	١٠	١١	٥	٧	١٢

$$r = \frac{\sum_{i=1}^n (s_i - \bar{s})(v_i - \bar{v})}{\sqrt{\sum_{i=1}^n (s_i - \bar{s})^2 \times \sum_{i=1}^n (v_i - \bar{v})^2}}$$

وزارة 2017 شتوي

ج) إذا كان س ، ص متغيرين عدد قيم كل منهما (١٢) وكان $\sum_{r=1}^{12} (s_r - \bar{s})^2 = 36$ ،

$$\sum_{r=1}^{12} (v_r - \bar{v})^2 = 64 ، \sum_{r=1}^{12} (s_r - \bar{s})(v_r - \bar{v}) = 16 ،$$

(٤ علامات)

فجد معامل ارتباط بيرسون الخطي بين المتغيرين س ، ص

وزارة 2016 صيفي

(٨ علامات)

ب) احسب معامل ارتباط بيرسون الخطي (ر) بين المتغيرين س ، ص في الجدول الآتي :

س	٧	٨	٥	٤	٦
ص	١٠	٩	٧	٦	٨

$$r = \frac{\sum_{i=1}^n (s_i - \bar{s})(v_i - \bar{v})}{\sqrt{\sum_{i=1}^n (s_i - \bar{s})^2 \times \sum_{i=1}^n (v_i - \bar{v})^2}}$$





ج) إذا كان s ، v متغيرين عدد قيم كل منهما (10) ، وكان $\sum_{r=1}^n (s_r - \bar{s})^2 = 80$ ،

$$\sum_{r=1}^n (v_r - \bar{v})^2 = 20$$
 ، $\sum_{r=1}^n (s_r - \bar{s})(v_r - \bar{v}) = 24$ ، فجد معامل ارتباط

بيرسون الخطي بين المتغيرين s ، v . (4 علامات)

وزارة 2015 صيفي

أ) أجب عما يأتي:

1) إذا كان معامل الارتباط بين s ، v يساوي 0.4 ، فجد قيمة معامل الارتباط بين s^* ، v^*

$$\text{حيث } s^* = s + 5 \text{ ، } v^* = 2v - 1$$

وزارة 2015 صيفي

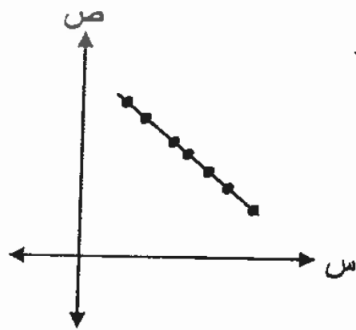
(8 علامات)

ب) جد معامل ارتباط بيرسون الخطي (r) بين المتغيرين s ، v في الجدول الآتي:

7	9	8	6	4	2	s
8	6	5	7	1	3	v

$$r = \frac{\sum_{i=1}^n (s_i - \bar{s})(v_i - \bar{v})}{\sqrt{\sum_{i=1}^n (s_i - \bar{s})^2 \times \sum_{i=1}^n (v_i - \bar{v})^2}}$$





٢) إذا مُنّلت العلاقة بين المتغيرين س، ص في شكل الانتشار المجاور حيث وقعت النقاط جميعها على خط مستقيم. اكتب قيمة معامل الارتباط بين المتغيرين س، ص.

وزارة 2015 شتوي

ج) إذا كان س، ص متغيرين عدد قيم كل منهما (١٥) وكان:

$$\sum_{r=1}^{15} (س_r - \bar{س})(ص_r - \bar{ص}) = 24, \quad \sum_{r=1}^{15} (س_r - \bar{س})^2 = 90, \quad \sum_{r=1}^{15} (ص_r - \bar{ص})^2 = 40$$

(٤ علامات)

فجد معامل ارتباط بيرسون الخطي بين المتغيرين س، ص.

وزارة 2014 صيفي

ج) يُبيّن الجدول الآتي علامات خمسة طلاب في مبحث الرياضيات (س) ، والعلوم (ص) في امتحان قصير نهايته العظمى (٢٠). جد معامل ارتباط بيرسون الخطي (ر) بين المتغيرين س، ص. (٨ علامات)

١٢	١٨	٩	١٥	٦	الرياضيات (س)
١٩	١٧	٨	١٤	١٢	العلوم (ص)

$$r = \frac{\sum_{i=1}^n (س_i - \bar{س})(ص_i - \bar{ص})}{\sqrt{\sum_{i=1}^n (س_i - \bar{س})^2 \sum_{i=1}^n (ص_i - \bar{ص})^2}}$$

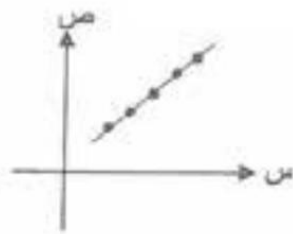




ج) إذا كان s ، v متغيرين عدد قيم كل منهما (10) ، وكان $\frac{1}{r} \frac{dv}{ds} = (s-r)$ ، $64 = \frac{1}{r} \frac{dv}{ds}$ ، فجد معامل ارتباط بيرسون الخطي بين المتغيرين s ، v .

(4 علامات)

وزارة 2014 شتوي



٢) إذا مثلت العلاقة بين المتغيرين s ، v في شكل الانتشار المجاور حيث وقعت جميع النقاط على خط مستقيم. اكتب قيمة معامل الارتباط بين المتغيرين s ، v .

وزارة 2013 صيفي

٥) إذا كان معامل ارتباط بيرسون بين المتغيرين s ، v هو (٠,٧) ، فإن معامل ارتباط بيرسون بين المتغيرين s ، v حيث $s^3 - 12 = v$ ، $v = -4s$ هو :

■ ٠,٧ ■ ٠,٣- ■ ٠,٣ ■ ٠,٧- ■ ٠,٣-

وزارة 2013 صيفي

٨) إذا كان معامل الارتباط بين المتغيرين s ، v يساوي (٠,٩) فإن الارتباط بين s ، v :

■ طردي قوي ■ عكسي قوي ■ طردي تام ■ عكسي تام





ب) بيّن الجدول الآتي علامات خمسة طلاب في مبحثي الرياضيات والعلوم ، حيث النهاية العظمى للعلامة (٢٠) ، احسب معامل ارتباط بيرسون الخطي بين علامات الطلبة في المبحثين . (٨ علامات)

٨	١٤	١٢	١٦	١٠	علامة الرياضيات (س)
١٠	١٨	١٦	١٤	١٢	علامة العلوم (ص)

$$r = \frac{\sum_{i=1}^n (S_i - \bar{S})(V_i - \bar{V})}{\sqrt{\sum_{i=1}^n (S_i - \bar{S})^2 \times \sum_{i=1}^n (V_i - \bar{V})^2}}$$

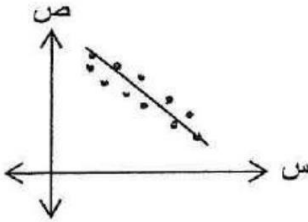
وزارة 2013 شتوي

٨) يُمثّل الشكل المجاور شكل الانتشار لتوزيع بين متغيرين س ، ص .

يمكن الحكم على العلاقة بين المتغيرين س ، ص بأنها :

أ) تامة (ب) عكسية

ج) طردية (د) لا يوجد علاقة



وزارة 2013 شتوي

٩) إذا كان معامل الارتباط بين س ، ص هو (٠,٦) ، فإن قيمة معامل الارتباط بين س* ، ص* :

حيث س* = ٥ - س ، ص* = ٨ + ص يساوي :

أ) -٠,٦ (ب) ٠,٦ (ج) ٠,٤ (د) -٠,٤





(٨ علامات)

ب) جد معامل ارتباط بيرسون (r) بين المتغيرين س ، ص في الجدول الآتي :

٨	١٠	٩	٦	٧	س
١٢	٨	١٠	٧	٨	ص

$$\text{ملاحظة : } r = \frac{\sum_{i=1}^n (s_i - \bar{s})(v_i - \bar{v})}{\sqrt{\sum_{i=1}^n (s_i - \bar{s})^2 \times \sum_{i=1}^n (v_i - \bar{v})^2}}$$





وزارة 2020 الدورة التكميلية دراسة خاصة

(٢٥) إذا علمت أن معادلة خط الانحدار للتنبؤ بقيمة ص إذا عُلمت قيم س هي: $\hat{ص} = ٠,٤س + ١$ ،

وكانت إحدى قيم س تساوي ٦٠ وقيمة ص المناظرة لها ٢٧ ، فإن الخطأ في التنبؤ بقيمة ص يساوي:

- (أ) -٢ (ب) ٢ (ج) -٣ (د) ٣

وزارة 2020 الدورة الصيفية (الامتحان العام) دراسة خاصة

(٢٠) إذا علمت أن معادلة خط الانحدار للعلاقة بين عدد ساعات العمل اليومي (س) وعدد الأخطاء التي يرتكبها موظف في اليوم (ص) هي: $\hat{ص} = ٠,٧س + ١$ ، فما عدد الأخطاء المتنبأ بها لموظف يعمل مدة (١٠) ساعات يوميا؟

- (أ) ٦ (ب) ٧ (ج) ٨ (د) ١٠

وزارة 2019 الدورة الصيفية (الامتحان العام) نظاميون

(٣) إذا علمت أن معادلة خط الانحدار للعلاقة بين رأس المال (س) والأرباح السنوية (ص) هي: $\hat{ص} = ٠,٤س + ١٠$ ، فما قيمة الأرباح بالدينار التي يمكن التنبؤ بها لشركة رأس مالها (١٠٠٠٠) دينار؟

- (أ) ٤٠٠ (ب) ٤٠١٠ (ج) ٤١٠ (د) ٤٠٠٠

وزارة 2019 الدورة الصيفية (الامتحان العام) نظاميون

(د) إذا كان س ، ص متغيرين عدد قيم كل منهما (٥) ، وكان $\bar{ص} = ٣٠$ ، $\bar{س} = ٦١$ ،

$\sum_{ك=١}^٥ (س_ك - \bar{س}) (ص_ك - \bar{ص}) = ٢٠٠٠$ ، $\sum_{ك=١}^٥ (س_ك - \bar{س})^٢ = ١٠٠٠$ ، فجد معادلة خط الانحدار

(٩ علامات)

للتنبؤ بقيمة ص إذا علمت قيم س



٣) إذا كانت معادلة خط الانحدار للعلاقة بين عدد سنوات الخبرة (س) والأجر اليومي (ص) هي: $\hat{ص} = ١,٥س + ٧$ ، فما الأجر اليومي (بالدينار) المتوقع لشخص لديه خبرة ١٠ سنوات؟

أ (٢٢) ب (١٧) ج (١٥) د (٢٣)

وزارة 2019 الدورة الصيفية (الامتحان العام) خطة المنهاج القديم دراسة خاصة

ج) إذا كانت معادلة الانحدار الخطي البسيط للعلاقة بين عدد ساعات الدراسة اليومي (س) والمعدل التحصيلي (ص) هي: $\hat{ص} = ٥س + ٦٠$ ، فجد الخطأ في التنبؤ بمعدل طالب درس (٣) ساعات يومياً وحصل على معدل (٧٠) (٤ علامات)

وزارة 2019 صيفي (الامتحان التكميلي) نظاميون

٣) إذا علمت أن معادلة خط الانحدار للعلاقة بين المعدل في الثانوية العامة س والمعدل في الجامعة ص هي: $\hat{ص} = س - ٥$ ، فما المعدل المتوقع لطالب في الجامعة حصل على معدل (٧٨) في الثانوية العامة؟

أ (٧٣) ب (٨٣) ج (٨٢) د (٩٢)

وزارة 2019 صيفي (الامتحان التكميلي) نظاميون

د) إذا كان س ، ص متغيرين عدد قيم كل منهما (٥) ، وكان $\bar{ص} = ٧$ ، $\bar{س} = ٦$ ،

$\sum_{ك=١}^٥ (س_ك - \bar{س}) (ص_ك - \bar{ص}) = ١٠$ ، فجد معادلة خط الانحدار

للتنبؤ بقيم ص إذا عُلمت قيم س . (٩ علامات)





(٣) إذا كانت معادلة خط الانحدار للعلاقة بين عدد ساعات الدراسة اليومي (س) والمعدل التحصيلي (ص) هي: $\hat{ص} = ٥س + ٤٥$ ، فما المعدل التحصيلي المتوقع لطالب يدرس ٤ ساعات يوميًا ؟

أ) ٦٥ (ب) ٥٦ (ج) ٧٤ (د) ٤٧

وزارة 2019 صيفي (الامتحان التكميلي) خطة 2018 دراسة خاصة

(ج) معتمدًا الجدول الآتي الذي يبين القيم المتناظرة للمتغيرين س ، ص ، جد معادلة خط الانحدار للتنبؤ بقيمة ص إذا علمت قيم س .

(٧ علامات)

٧	٤	٥	٩	١٠	س
١٦	١٠	١٢	٢٠	٢٢	ص

وزارة 2019 صيفي (الامتحان التكميلي) خطة المنهاج القديم دراسة خاصة

(ب) إذا كان س ، ص متغيرين عدد قيم كل منهما (٥) حيث: $\bar{س} = ٢$ ، $\bar{ص} = ٤$ ،

$$\sum_{ك=١}^٥ (سك - \bar{س})^٢ = ١٠$$
 ، $\sum_{ك=١}^٥ (صك - \bar{ص})^٢ = ٣٠$ ،

فجد معادلة خط الانحدار للتنبؤ بقيمة ص إذا علمت قيم س .

(٦ علامات)

وزارة 2019 صيفي (الامتحان التكميلي) خطة المنهاج القديم دراسة خاصة

(١) إذا علمت أن معادلة خط الانحدار للعلاقة بين عدد ساعات الدراسة اليومي (س) والمعدل التحصيلي (ص) هي: $\hat{ص} = ٤س + ٥٢$ ، فإن الخطأ في التنبؤ بمعدل طالب درس (٦) ساعات يوميًا وحصل على معدل (٧٨) يساوي:

أ) ٢- (ب) $\frac{١}{٢}$ - (ج) $\frac{١}{٢}$ (د) ٢





ب) إذا كانت معادلة خط الانحدار للعلاقة بين قيمة رأس المال (س) والأرباح السنوية لشركة بآلاف الدينانير (ص) هي: $\hat{ص} = 0,5س + 8$ ، فجد: (٦ علامات)

- الخطأ في التنبؤ بأرباح شركة رأس مالها (٥٠) ألف دينار وأرباحها السنوية (٣٠) ألف دينار.
- إذا كان الربح المتوقع لشركة ما يساوي (٢٨) ألف دينار، فما رأس مال هذه الشركة؟

وزارة 2019 شتوي (الكتاب القديم)

ب) إذا كان س ، ص متغيرين حيث: $\bar{ص} = 6$ ، $\bar{ص} = 13$ ، $\sum_{ك=1}^٥ (سك - \bar{ص})(صك - \bar{ص}) = 40$ ،

$\sum_{ك=1}^٥ (سك - \bar{ص})(صك - \bar{ص}) = 80$ ، فجد معادلة خط الانحدار للتنبؤ بقيم ص إذا علمت قيم س (٦ علامات)

وزارة 2019 شتوي (الكتاب القديم)

١) إذا كانت $\hat{ص} = 0,2س + ٥$ معادلة خط الانحدار للتنبؤ بقيم ص إذا عرفت قيم س ، وكانت إحدى قيم س تساوي (١٠٠) وقيمة (ص) الحقيقية المناظرة لها تساوي (٣٠) ، فإن الخطأ في التنبؤ بقيمة (ص) يساوي:

- أ - (٥) ب) ٥ ج) ١١ د) ٢٥

وزارة 2018 صيفي (الكتاب الجديد)

ب) إذا كانت معادلة خط الانحدار للعلاقة بين معدل طالب في الثانوية العامة (س)، ومعدله في الجامعة (ص) هي: $\hat{ص} = 1,4س - 35$ ، فتنبأ بمعدل طالب في الجامعة إذا كان معدله في الثانوية العامة (٨٥) (٣ علامات)





ج) إذا كان s ، v يُمثَلان عدد ساعات الدراسة اليومية (s)، والمعدل التحصيلي (v) لخمسة طلاب،

$$\text{وكان } \bar{s} = 5, \bar{v} = 82, \sum_{i=1}^5 (s_i - \bar{s})(v_i - \bar{v}) = 130,$$

فجد معادلة خط الانحدار للتنبؤ بقيمة v إذا علمت قيم s (٥ علامات)

وزارة 2018 شتوي (الكتاب الجديد)

ج) إذا كانت معادلة خط الانحدار للعلاقة بين عدد ساعات العمل اليومي (s) وعدد الأخطاء التي

يرتكبها الموظف في هذا اليوم (v) هي: $\hat{v} = 0,5s + 1$ ، فأجب عن كل ممّا يأتي: (٥ علامات)

(١) تتبأ بعدد الأخطاء التي يرتكبها موظف يعمل ٨ ساعات يومياً.

(٢) إذا كان عدد الأخطاء التي يرتكبها موظف يعمل ١٠ ساعات يومياً هي ٤ أخطاء، فجد الخطأ في التنبؤ.

وزارة 2018 شتوي (الكتاب القديم)

ج) إذا كانت معادلة الانحدار الخطي البسيط للعلاقة بين معامل الذكاء (s) ومعدل التحصيل (v) هي:

$$\hat{v} = 1,4s - 81, \text{ فتنبأ بالمعدل التحصيلي لطالب معامل ذكائه } 110 \text{ (٣ علامات)}$$

وزارة 2017 صيفي

ب) إذا كانت معادلة الانحدار الخطي البسيط للعلاقة بين عدد ساعات الدراسة اليومية (s)

والمعدل التحصيلي (v) هي: $\hat{v} = 5s + 57$ ، فأجب عن كل ممّا يأتي: (٦ علامات)

(١) قدر معدل طالب يدرس (٦) ساعات يومياً.

(٢) إذا كان معدل طالب درس (٣) ساعات يومياً (٧٠) فجد الخطأ في التنبؤ للمعدل الذي حصل عليه.





ب) بيّن الجدول الآتي علامات ٦ طلاب في امتحاني العلوم (س) والرياضيات (ص)، جد معادلة خط الانحدار للتنبؤ بقيم (ص) إذا علمت قيم (س) (٨ علامات)

٤	٥	٨	٧	٦	(س) العلوم
٥	٧	٥	١٠	٨	(ص) الرياضيات

وزارة 2016 صيفي

ج) إذا كان س ، ص متغيرين عدد قيم كل منهما (٨) وكان $\sum_{i=1}^8 (س_i - \bar{س}) (ص_i - \bar{ص}) = ٦٠$ ، $\sum_{i=1}^8 (س_i - \bar{س})^2 = ١٥$ ، $\bar{س} = ١٢$ ، $\bar{ص} = ٥٠$ ، فجد معادلة خط الانحدار للتنبؤ بقيم ص إذا علمت قيم س. (٥ علامات)

وزارة 2016 شتوي

١) إذا كان الوسط الحسابي لأعمار مجموعة من الأشخاص (٤٥) عاماً والانحراف المعياري لها (٤) أعوام. أجب عما يأتي: (٥ علامات)

- ١) جد العمر الذي ينحرف انحرافين معياريين فوق الوسط الحسابي.
- ٢) إذا كان الفرق بين عمري شخصين من المجموعة نفسها ١٠ سنوات، فما الفرق بين العلامتين المعياريتين المناظرتين لهذين العمرين؟

وزارة 2016 شتوي

ب) بيّن الجدول الآتي علامات (٥) طلاب في مبحثي الرياضيات (س) والعلوم (ص)، حيث النهاية العظمى للعلامة (١٠)، جد معادلة خط الانحدار الخطي البسيط للتنبؤ بقيم (ص) إذا علمت قيم (س). (٨ علامات)

٧	٦	٩	٥	٨	(س) الرياضيات
٥	٤	٨	٧	٦	(ص) العلوم





ج) إذا كان (س) يمثل عدد ساعات العمل اليومي في مصنع ما، (ص) كمية الاستهلاك اليومي من الكهرباء في المصنع نفسه بالكيلو واط / ساعة. جُمعت البيانات الآتية لستة مصانع:

(6 علامات)

$$\bar{S} = 8, \bar{V} = 400, \sum_{i=1}^6 (S_i - \bar{S})^2 = 100, \sum_{i=1}^6 (S_i - \bar{S})(V_i - \bar{V}) = 2000, \text{ جد:}$$

(1) معادلة خط الانحدار الخطي البسيط للتنبؤ بقيم ص إذا عُلّمت قيم س.

(2) الخطأ في التنبؤ لكمية استهلاك الكهرباء لمصنع عمل 9 ساعات في أحد الأيام وكان استهلاكه الحقيقي من الكهرباء في ذلك اليوم 410 كيلو واط / ساعة.

وزارة 2015 شتوي

ب) يبين الجدول الآتي علامات (5) طلاب في مبثني الرياضيات (س) واللغة العربية (ص) حيث النهائية العظمى للعلامة تساوي (10). جد معادلة خط الانحدار للتنبؤ بقيم (ص) إذا عُلّمت قيم (س).

(8 علامات)

10	8	7	9	6	الرياضيات (س)
8	10	9	10	8	اللغة العربية (ص)

وزارة 2014 صيفي

ب) إذا كانت معادلة خط الانحدار البسيط للعلاقة بين عدد ساعات الدراسة اليومية (س) والمعدل التحصيلي (ص) لطلبة إحدى الجامعات هي $\hat{V} = 4S + 52$. معتمداً على هذه المعادلة جد الخطأ في التنبؤ للمعدل الذي حصل عليه طالب درس (6) ساعات يومياً وحصل على معدل (78). (4 علامات)





أ) إذا كان s ، v متغيرين عدد قيم كل منهما (12) وكانت $\bar{s} = 10$ ، $\bar{v} = 15$ ،

$$\sum_{i=1}^{12} (s_i - \bar{s})^2 = 20 ، \sum_{i=1}^{12} (v_i - \bar{v})^2 = 16$$

(5 علامات)

فجد معادلة خط الانحدار الخطي البسيط للتنبؤ بقيم v إذا علمت قيم s

وزارة 2013 شتوي

ج) إذا علمت أن معادلة الانحدار الخطي البسيط للعلاقة بين رأس المال (s) والأرباح السنوية (v) مقدرة بالآلاف الدنانير لمجموعة شركات هي : $\hat{v} = 0,3s + 10$ ، معتمداً على هذه المعادلة جد الخطأ في التنبؤ لأرباح شركة رأس مالها (60) ألف دينار وأرباحها السنوية (27,4) ألف دينار. (5 علامات)

