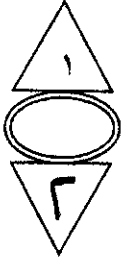


بسم الله الرحمن الرحيم



المملكة الأردنية الهاشمية  
وزارة التربية والتعليم  
إدارة الامتحانات والاختبارات  
قسم الامتحانات العامة

A 7 6 J



## امتحان شهادة الدراسة الثانوية العامة لعام ٢٠١٩

(وثيقة محمية/محدود)

مدة الامتحان : ٣٠ : ١

اليوم والتاريخ: الثلاثاء ٢٠١٩/٦/١١

المبحث : الرياضيات / المستوى الثالث

الفرع : الأدبي والشرعي والإدارة المعلوماتية والتعليم الصحي

ملحوظة : أجب عن الأسئلة الآتية جميعها وعددها (٥)، علماً بأن عدد الصفحات (٤).

السؤال الأول: (٢٢ علامة)

أ) يتكوّن هذا الفرع من (٤) فقرات من نوع الاختيار من متعدد، يلي كل فقرة أربعة بدائل، واحد منها فقط صحيح. انقل إلى دفتر إجابتك رقم الفقرة وبجانبه رمز البديل الصحيح لها: (٨ علامات)

١) نهـا  $\sqrt[3]{15 - 4}$  س تساوي: س ← ٣

أ) ٣ (ب) ٣- (ج) ٢٧ (د) ٢٧-

٢) إذا كانت نهـا  $(4س + ك) = ٣$  ، فإن قيمة الثابت ك تساوي: س ← ١

أ) ١ (ب) ١- (ج) ٧ (د) ٧-

٣) إذا كانت نهـا ق  $(س) = ٨$  ، نهـا هـ  $(س) = ٢-$  ، س ← ٤

فإن نهـا  $(س) - (س) هـ$  تساوي: س ← ٤

أ) ٦ (ب) ٦- (ج) ١٠- (د) ١٠

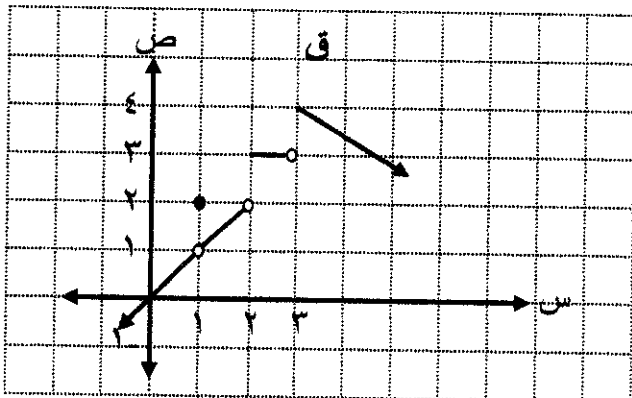
٤) معتمداً الشكل المجاور الذي يُمثّل منحى الاقتران

ق ، ما مجموعة قيم س التي يكون عندها منحى

الاقتران ق غير متصل؟

أ)  $\{٣، ١\}$  (ب)  $\{٣، ٢\}$

ج)  $\{٣، ٢، ١\}$  (د)  $\{٣، ٢، ٠\}$



يتبع الصفحة الثانية .....

الصفحة الثانية

$$\left. \begin{array}{l} \text{س} > 1 \text{ ، } \text{س}^2 + 8 \\ \text{س} \leq 1 \text{ ، } \text{س}^2 - 5 \end{array} \right\} = \text{ (س) ق إذا كان ق}$$

(٥ علامات)

وكانت نهـا ق (س) موجودة، فجد قيمة الثابت  $٢$   
س ← ١

(ج) جد قيمة كل مما يأتي:

(٤ علامات)

$$(١) \text{ نهـا } \left( \sqrt{\text{س}^2 - 2} + 2\text{س} + 1 \right) \text{ س} \leftarrow 2$$

(٥ علامات)

$$(٢) \text{ نهـا } \frac{\text{س}^2 - 2\text{س} - 3}{\text{س}^2 - 9} \text{ س} \leftarrow 3$$

السؤال الثاني: (١٩ علامة)

$$\left. \begin{array}{l} \text{س} > 7 \text{ ، } \text{س}^2 + 7 \\ \text{س} \leq 6 \text{ ، } \text{س}^2 + 6 \end{array} \right\} = \text{ (س) هـ إذا كان ق (س) = } 2\text{س}^2 \text{ ، هـ (س)}$$

وكان الاقتران ل (س) = ق (س) × هـ (س) ، فابحث في اتصال الاقتران ل عند  $\text{س} = 1$  (٦ علامات)

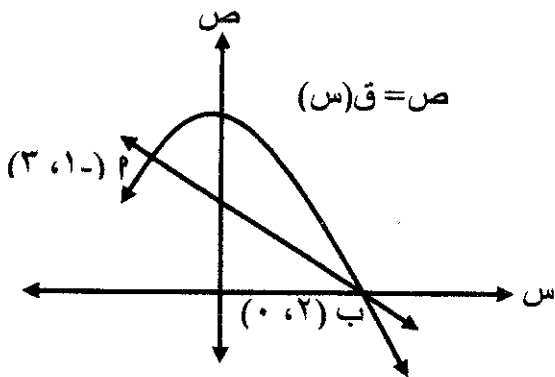
متعة التعليم الحادف

(ب) يتكوّن هذا الفرع من (٤) فقرات من نوع الاختيار من متعدد، يلي كل فقرة أربعة بدائل، واحد منها فقط صحيح. انقل إلى دفتر إجابتك رقم الفقرة وجانبه رمز البديل الصحيح لها:

(٨ علامات)

(١) معتمدًا الشكل المجاور الذي يُمثّل منحنى الاقتران  $\text{ص} = \text{ق} (س)$ ،

ما ميل القاطع المار بالنقطتين ٢ ، ب؟



(ب) ١

(أ) ١-

(د) ٣

(ج) ٣-

(٢) إذا كان ق (س) =  $\text{هـ}^3\text{س}$  ، فإن ق (س) تساوي:

(د)  $٩\text{هـ}^٣\text{س}$

(ج)  $٩\text{هـ}^٣\text{س}$

(ب)  $٣\text{هـ}^٣\text{س}$

(أ)  $٣\text{هـ}^٣\text{س}$

### الصفحة الثالثة

(٣) إذا كان  $v = \frac{d}{s}$  جتا  $s$  ، فإن  $\frac{d}{s}$  تساوي:

- أ) ٤ جا  $s$       ب) - جا  $s$       ج) -٤ جا  $s$       د) جا  $s$

(٤) يتحرك جسيم وفق العلاقة  $v = 6 + 2n$  ، حيث  $v$  المسافة المقطوعة بالأمتار،  $n$  الزمن بالثواني، ما سرعة الجسيم بعد مرور ثانية واحدة من بدء الحركة؟

- أ) ٧ م/ث      ب) ٢ م/ث      ج) ٨ م/ث      د) ٦ م/ث

(ج) إذا كان  $v = s^2 - s$  ، فجد  $v$  (س) باستخدام تعريف المشتقة. (٥ علامات)

### السؤال الثالث: (١٩ علامة)

أ) إذا كانت المسافة التي يقطعها جسيم أثناء سقوطه إلى أسفل تُعطى بالعلاقة:


$v = 20n - 5n^2$  ، حيث  $v$  المسافة المقطوعة بالأمتار،  $n$  الزمن بالثواني، فجد السرعة المتوسطة للجسيم في الفترة الزمنية  $[1, 2]$  ثانية.

(٥ علامات)

ب) جد  $\frac{d^2v}{ds^2}$  لكل مما يأتي:

(٤ علامات)

منهاجي  
متعة التعليم الهادف



(١)  $v = (s - 5)^2 + (5 + s^2)$

(٤ علامات)

(٢)  $v = \frac{s^2 + 7}{s - 1}$  ،  $s \neq 1$

(٦ علامات)

(ج) جد معادلة المماس لمنحنى الاقتران  $v = (s + 1)(s^2 + 1)$  عند  $s = 1$

### السؤال الرابع: (١١ علامة)

أ) يتكوّن هذا الفرع من (٣) فقرات من نوع الاختيار من متعدد، يلي كل فقرة أربعة بدائل، واحد منها فقط صحيح.

(٦ علامات)

انقل إلى دفتر إجابتك رقم الفقرة وبجانبه رمز البديل الصحيح لها:

معتمداً الشكل المجاور الذي يُمثّل منحنى المشتقة الأولى

للاقتران  $v$  ، أجب عن الفقرتين ١ ، ٢ الآتيتين:

(١) ما مجموعة قيم  $s$  الحرجة للاقتران  $v$ ؟

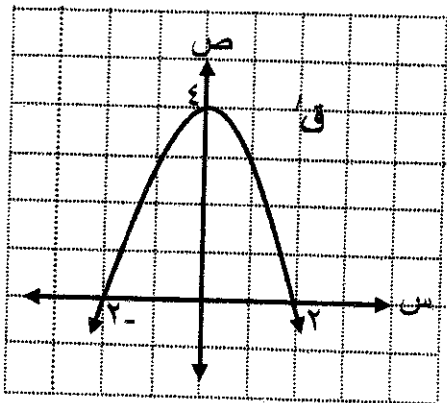
أ)  $\{4, 0\}$       ب)  $\{2, -2\}$

ج)  $\{2, 0\}$       د)  $\{2, -2, 0\}$

(٢) ما قيمة  $s$  التي يكون عندها للاقتران  $v$  قيمة عظمى؟

أ) صفر      ب) -٢

ج) ٢      د) ٤



يتبع الصفحة الرابعة/ ...

### الصفحة الرابعة

٣) إذا كان اقتران الإيراد الكلي للمبيعات هو  $d = 3s^2 - 20s$  دينار، حيث  $s$  عدد القطع المنتجة من سلعة معينة، فإن اقتران الإيراد الحدي (بالدينار) الناتج من بيع  $s$  قطعة يساوي:

أ)  $6s - 20$  (ب)  $3s^2 - 20$

ج)  $6s^2 - 20$  (د)  $3s - 20$

ب) إذا كان  $q = 54s - 2s^3$ ، فجد فترات التزايد وفترات التناقص للاقتران  $q$ . (٥ علامات)

### السؤال الخامس: (٩ علامات)

أ) يبيع مصنع الوحدة الواحدة من سلعة معينة بسعر (٦٠) دينار، فإذا كانت التكلفة الكلية لإنتاج  $s$  وحدة من هذه السلعة تُعطى بالعلاقة  $k = 0.4s^2 + 17s + 300$  دينار، فجد اقتران الربح الحدي الناتج من بيع  $s$  وحدة. (٣ علامات)

ب) صندوق على شكل متوازي مستطيلات قاعدته مربعة الشكل، إذا كان مجموع طول محيط قاعدته وارتفاعه يساوي (٨٤) سم، فجد أبعاد الصندوق التي تجعل حجمه أكبر ما يمكن. (٦ علامات)



﴿ انتهت الأسئلة ﴾



الإجابة النموذجية :

السؤال الأول : (٢٢ علامة)

رقم الصفحة  
في الكتاب

٣١							(P)	
٥٦	لكل فقرة	٤	٣	٢	١	رقم لفقرة	△	
٢٨	علامتها	ج	د	ب	پ	رمز إجابة	△	
٤٧		{٣, ٢, ٥}	١٠	١-	٣	الإجابة		
٢٦		ب) أ نه زيا م (س) موجوده خا نه						
		$\text{زيا م (س)} = \text{زيا م (س)} + 1 \leftarrow \text{س}$						△
		$\text{زيا م (س)} = \text{زيا م (س)} + 1 \leftarrow \text{س}$						
		$\text{زيا م (س)} = \text{زيا م (س)} + 1 \leftarrow \text{س}$						
		$\text{زيا م (س)} = \text{زيا م (س)} + 1 \leftarrow \text{س}$						
		$14 = P \leftarrow 9 = 0 - P \leftarrow 8 + (1) = 0 - P -$						
٢٨		$11 \text{ زيا م} = (1 + 5 + 2 + 3 + 5) \text{ زيا م} = 16 \text{ زيا م}$						△
		$11 = 1 + 4 \times 2 + 2 =$						△
٣٣		$12 \text{ زيا م} = \frac{3 - 5 - 9}{5 - 3 - 9} =$						
		$12 \text{ زيا م} = \frac{3 - 5 - 9}{5 - 3 - 9} =$						
		$12 \text{ زيا م} = \frac{3 - 5 - 9}{5 - 3 - 9} =$						



السؤال الثالث : (١٩ علامة)

رقم الصفحة  
في الكتاب

(P) السرعة المتوسطة للجسيم في [٢،١] تساوي

٦٦

$$\text{ع} = \frac{f(2) - f(1)}{2 - 1} = \frac{2 - 1}{1} = 1$$



$$\text{ع} = \frac{(2 \times 2 - 1 \times 1) - (2 \times 1 - 1 \times 1)}{2 - 1} = \frac{3 - 1}{1} = 2$$

$$\text{ع} = \frac{2 - 1}{2 - 1} = 1$$

٩٣٦٩.

$$\text{ب) (١) } \frac{5x}{x^2} + \frac{5x}{(x-5)^2} = \frac{5x}{x^2(x-5)^2}$$

$$\frac{5x}{x^2(x-5)^2} = \frac{5x}{x^2(x-5)^2}$$



٨٠.

$$\text{ج) (٢) } \frac{(x+2)(x-3) - (x-3)(x-1)}{(x-1)^2} = \frac{5x}{(x-1)^2}$$

$$\frac{(x+2)(x-3) - (x-3)(x-1)}{(x-1)^2} = \frac{5x}{(x-1)^2}$$

$$\text{ع) (١) } (x+1)(x+2) + (x-2)(x+1) = (x-1)(x+1)$$

٨٥ ميل المماس لمنحن  $f(x)$  عند  $x=1$  يساوي  $f'(1)$

$$\text{ع) (١) } f'(1) = (1+1) + (1 \times 2) = 4$$



معادلة المماس هي:  $y - 4 = 4(x - 1)$

$$y - 4 = 4x - 4 \Rightarrow y = 4x$$

لذلك معادلة المماس هي:

$$y - 4 = 4(x - 1)$$

①

$$y - 4 = 4x - 4$$

رقم الصفحة  
في الكتاب

السؤال الرابع : ( ١١ علامة )

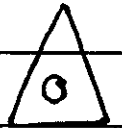
						(٢)
١١٩	لكل فقره	٣	٢	١	رقم فقره	△ ٦
١٢٩	علامتا	P	ج.	ب	رمز الاجابة	
١٢٥		٢-٥٦	٢	{٢،٢}	الاجابة	

(ب) فقره (س) =  $54 - 6 - 3 = 45$  = صفر ①


١١٢

صفر =  $(9 - 3) 6$

صفر =  $(3 - 3)(3 + 3) 6$



①  $3 - 6 3 = 3$



وهو متداخل في الفترتين ①  $(-\infty, 3]$  ①  $[3 - 1, \infty -)$

وهو متزايد في الفترة ①  $[2, 3 -]$



