

ملاحظة: عدد أسئلة الورقة ( ستة ) أسئلة، أجب عن ( خمسة ) أسئلة فقط على أن يكون السؤال ( الأول ) منها.

السؤال الأول: ( 20 علامة )

ضع إشارة ( X ) على رمز الإجابة الصحيحة على الورقة المخصصة في دفتر الإجابة:

1. إذا علمت مقدار الدفع المؤثر على جسم كتلته ك = 2 كغم فإنك تستطيع حساب:  
 ( أ ) سرعته الابتدائية ( ب ) سرعته النهائية ( ج ) التغير في سرعته ( د ) تسارعه
2. إذا كان موضع جسم كتلته 1 كغم في النقطة (0،0) وكان موضع جسم آخر كتلته 2 كغم في النقطة (3،0) فإن موضع مركز الكتلة للجسمين هو:

( أ ) (0،0) ( ب ) (1،2) ( ج ) (1.5،0) ( د ) (2،0)

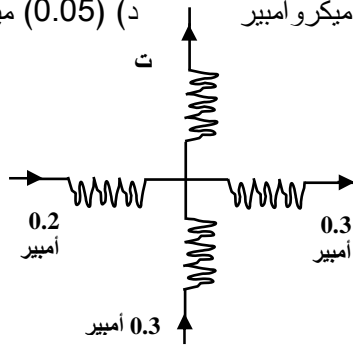
3. إذا علمت أن الشحنات الموجبة التي عبرت مقطع موصل تساوي 3 ميكروكولوم والشحنات السالبة 2 ميكروكولوم خلال فترة زمنية قدرها 20 ثانية فإن شدة التيار المار في السلك الموصل تساوي:

( أ ) 0.01 ميكروأمبير ( ب ) 0.25 ميكروأمبير ( ج ) 100 ميكروأمبير ( د ) 0.05 ميكروأمبير

4. شدة التيار الكهربائي ت في الشكل المجاور تساوي:

( أ ) 0.2 أمبير ( ب ) 0.6 أمبير

( ج ) 1.2 أمبير ( د ) صفر



5. ملفان حلزونيان من النحاس يتكون كل ملف منهما من (2000) لفة طول الملف الأول (2 م) وطول الملف الثاني (1 م)

النسبة بين المجال المغناطيسي الناشئ عن الملف الأول غ<sub>1</sub> إلى المجال المغناطيسي الناشئ عن الملف الثاني غ<sub>2</sub> عندما يسري فيهما تياران متساويان: ( غ<sub>1</sub> / غ<sub>2</sub> ) تساوي:

( أ ) ( 1/4 ) ( ب ) ( 1/2 ) ( ج ) ( 1 ) ( د ) ( 4 )

6. اتجاه حركة السلك أب الواقع في مجال مغناطيسي منتظم

ليتولد فيه تيار حتي من أ ← ب كما هو مبين في الشكل. هو

( أ ) للأعلى (ص<sup>+</sup>) ( ب ) للأسفل (ص<sup>-</sup>)

( ج ) لليساار (س<sup>-</sup>) ( د ) لليمين (س<sup>+</sup>)

7. يمكن تمثيل المجال المغناطيسي حول سلك مستقيم يسري فيه تيار على شكل:

( أ ) خطوط مستقيمة موازية لمحور السلك ( ب ) خطوط مستقيمة عمودية على محور السلك

( ج ) دوائر مستواها مواز لمحور السلك ( د ) دوائر مستواها مواز لمحور السلك

8. مقدار كمية التحرك الخطية لإلكترون ذرة الهيدروجين في المدار الأول هو: ( حيث هـ ثابت بلانك )

( أ ) ( هـ / 2π ) ( ب ) ( هـ / π ) ( ج ) ( هـ / 2π نق1 ) ( د ) ( هـ / نق1 )

9. النظائر لنفس العنصر تمتاز بـ:

( أ ) أنه لا يمكن فصلها بعضها عن بعض ( ب ) لها نفس الكتلة

( ج ) توجد منفصلة بعضها عن بعض في الطبيعة ( د ) لها نفس الخصائص الكيميائية.

10. حزمة من الشحنات الموجبة دخلت منتقي السرعات

المبين في الشكل فانحرفت إلى أعلى لأن:

- (أ) سرعتها أكبر من  $\frac{mg}{eB}$   
 (ب) سرعتها أقل من  $\frac{mg}{eB}$   
 (ج) سرعتها تساوي  $\frac{mg}{eB}$   
 (د) لا علاقة للسرعة بانحرافها

السؤال الثاني: (20 علامة)

(أ) حدد المقصود بكل مما يلي :

الموصلية، القوة الدافعة الكهربائية، الحقل المغناطيسي

(ب) يبين الشكل المجاور تصادم كرة كتلتها (1) كغم وتسير بسرعة (8) م/ث بكرة أخرى ساكنة كتلتها (5) كغم، فإذا انحرفت الأولى عن مسارها  $90^\circ$  وأصبحت سرعتها (4) م/ث.

فجد مقدار واتجاه سرعة الكرة الثانية بعد التصادم مباشرة

علماً بأن جا  $90 = 1$  ، جتا  $90 = 0$  ، صفر ، جا  $60 = 0.87$

جتا  $60 = 0.5$  ، ظا  $60 = 1.73$  ، جا  $27 = 0.45$

جتا  $27 = 0.89$  ، ظا  $27 = 0.5$

(ج) اذكر الخصائص التي تميز القوة النووية

السؤال الثالث: (20 علامة)

أ- فسر كلاً مما يلي:

1- يمكن فصل الجسيمات المشحونة المختلفة باستخدام مطياف الكتلة.

2- نقصان المساحة تحت منحنى إشعاع الجسم الأسود على درجة حرارة معينة في الجزئين الأيمن والأيسر من المنحنى.

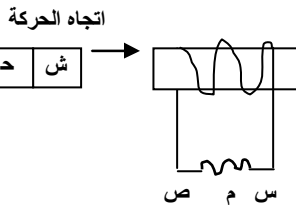
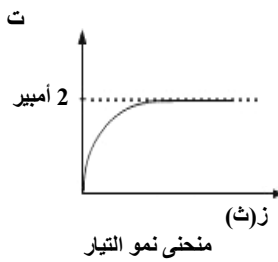
ب- يستخدم سيكلوترون صغير نصف قطره 3م في تسريع بروتونات في مجال مغناطيسي شدته (0.4) تسلا .

احسب: 1- سرعة البروتونات عند مغادرتها السيكلوترون.

2- تردد مصدر الجهد اللازم لعملية التسريع علماً بأن كتلة البروتون تساوي  $(1.67 \times 10^{-27}$  كغم)

وشحنته تساوي  $(1.6 \times 10^{-19})$  كولوم.

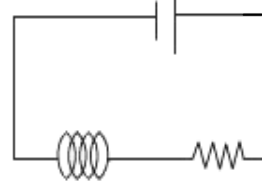
(6علامات)



(4علامات)

(8علامات)

12 فولت



ح = 2 ملي هنري م

ج- الشكل المجاور يمثل منحنى نمو

التيار في دارة كهربائية تحتوي

على محث ومقاومة مجهولة.

احسب معدل نمو التيار عندما

تكون شدة التيار تساوي (1) أمبير.

السؤال الرابع: (20 علامة)

أ- حدد اتجاه التيار الحثي المتولد في المقاومة م مع التعليل.

ب- يشع مكعب من النحاس (0.03 واط / سم<sup>2</sup>) عند درجة حرارة (100س°). احسب:

1- انبعاثية السطح (e)

2- مجموع الطاقة التي يشعها سطح الجسم في وحدة الزمن إذا علمت أن طول ضلع المكعب (10سم)

علماً بأن  $\sigma$  ثابت ستيفان بولتزمان =  $5.67 \times 10^{-8}$  واط/م<sup>2</sup>ك<sup>4</sup>

يتبع صفحة (3)

لاحظ الصفحة التالية

تابع السؤال الرابع: (20 علامة)

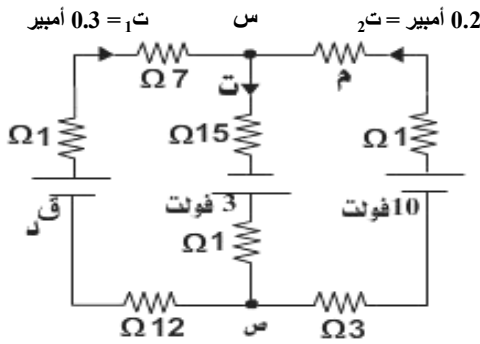
- ج- يقفز رجل كتلته (100) كغم عن ارتفاع (5) م عن سطح الماء في بركة سباحة، فإذا توقف الرجل بفعل تأثير قوة الماء عليه خلال (0.4) ثانية، فاحسب القوة المتوسطة التي يؤثر فيها الماء على الرجل علماً بأن (ج = 10 م / ث<sup>2</sup>)

السؤال الخامس: (20 علامة)

- أ- أذكر نص كل مما يلي: 1- قانون جول 2- قانون فارادي (4 علامات)  
 ب- إذا سقط ضوء طول موجته (350) نانومتر على سطح قطعة من البوتاسيوم اقتران الشغل لها (2.24) إلكترون فولت، أوجد ما يأتي:  
 1- الطاقة الحركية القصوى للإلكترونات المنبعثة.  
 2- أكبر طول موجة ضوء يمكنها التسبب في انبعاث إلكترونات من سطح المادة.  
 علماً بأن (ثابت بلانك هـ =  $10 \times 6.6 \times 10^{-34}$  جول.ث، سرعة الضوء س =  $10 \times 3 \times 10^8$  م/ث وشحنة الإلكترون =  $1.6 \times 10^{-19}$  كولوم ) (8 علامات)

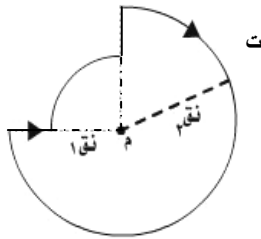
ج- في الدارة الكهربائية المبينة في الشكل المجاور، احسب:

- 1- فرق الجهد بين س،ص 2- القوة الدافعة ق د 3- المقاومة المجهولة م.



السؤال السادس: (20 علامة)

- أ- إذا كانت مقاومة سلك من الحديد تساوي (540 Ω) عند درجة (420 س°)، فاحسب مقاومة السلك عند درجة حرارة (20 س°) علماً بأن المعامل الحراري للحديد =  $10 \times 6.5 \times 10^{-3}$  ك° على فرض ثبوت أبعاد السلك. (6 علامات)  
 ب- في الشكل المجاور إذا علمت أن نق1 تساوي (2سم) وأن نق2 تساوي (4سم). وشدة التيار المار في الموصل يساوي (2 أمبير) فاحسب مقدار المجال المغناطيسي في النقطة م علماً بأن  $\mu = 10 \times \pi \times 10^{-7}$  تسلا.م/أمبير (8 علامات)



- ج- مستخدماً قانوني القوة المركزية وكمية التحرك الزاوية أثبت أن نصف قطر مدار الإلكترون في ذرة الهيدروجين = مقدار ثابت  $\times n^2$ . حيث ن رقم مدار أو مستوى الإلكترون. (6 علامات)

انتهت الأسئلة