



دولة فلسطين

وزارة التربية والتعليم العالي


مديرية التربية والتعليم - غرب غزة

دليل المعلم لتنفيذ منهاج الرياضيات

الصف: التاسع الأساسي

الفصل الدراسي (الأول)

2018/2017م



إعداد وطباعة
أ. فاطمة فارس الوحيدي

تنسيق

أ. أيمن يونس علي

إشراف ومراجعة

د. رحمة عودة - أ. باسم المدهون - أ. عارف السعافين - أ. صلاح الترك
مشرفو الرياضيات بمديرية التربية والتعليم - غرب غزة

2018/2017م

المحتويات

الصفحة	الموضوع
4	مقدمة.
5	إرشادات عامة
6	الخطة الفصلية
10	تحليل محتوى الكتاب المدرسي
22	تسكين الأهداف
46	جدول مواصفات أهداف الكتاب
47	ملاحظات لتنفيذ الأنشطة والمشاريع الريادية
51	نماذج اختبارات
52	- اختبار تشخيصي
54	- اختبارات الوحدات
62	- اختبار نهاية الفصل الدراسي

مقدمة الدليل:

في إطار جهود وزارة التربية والتعليم الفلسطينية للارتقاء بوطننا الحبيب فلسطين تم تطوير المناهج الفلسطينية -بعد العمل بالمناهج الفلسطينية الأولى لمدة تزيد على عشرة أعوام- فخرجت إلى النور المناهج الجديدة التي تسعى إلى تربية المواطن الفلسطيني القادر على الاستقراء والاستنتاج في الإطار المعرفي المنبثق من السياق الحياتي وفي ضوء ارتباطه بقيم ومبادئ تاريخنا وحاضرنا.

ولتحسين أداء طلابنا التحصيلي والعمل على استثمار كامل إمكاناتهم وقدراتهم وتحسين كفاياتهم وتحقيق ذواتهم والعمل على تحديد نقاط ضعفهم لعلاجها ومساعدتهم في تجاوز الصعوبات التي تواجههم في دراسة وفهم وتطبيق هذا المنهاج ارتأت مديرية التربية والتعليم -غرب غزة ممثلة بالمشرفين التربويين والمعلمين المبدعين أن تقدم هذا الدليل الإرشادي ليكون هادياً لك في التعامل مع مقرر الرياضيات الجديد 2018/2017 .

يتضمن الدليل الإرشادي للمعلم الذي بين يديك الخطة الفصلية وتحليل محتوى كتاب الصف التاسع، وتسكين الأهداف، وبعض الإرشادات التي تعينك على تنفيذ بعض الأنشطة، وهذا بلا شك ليس لقلوب المعلم أو الحد من إبداعاتك فالتميز يحتاج منكم وضع لمساتكم الفريدة حسب ما تقتضيه ظروف طلابكم وإمكانات مدارسكم مع ضرورة الحرص الشديد على توظيف الوسائل ومصادر التعلم المناسبة لما لها من عظيم الأثر في تحقيق الأهداف المرجوة.

إرشادات عامة:

- ✓ الالتزام بتوظيف وسائل تعليمية منتمة ومتنوعة، مخططة وهادفة ذات قيمة تربوية وأثر.
- ملاحظة: فاعلية الوسيلة التعليمية تتحدد بمدى أثرها في تبسيط المعلومات وتيسير فهم الموضوع وأفضل الوسائل التعليمية هي التي يشارك الطالب في صنعها من خامات البيئة بأقل التكلفة.
- ✓ تعزيز وتشجيع الطلاب بأساليب متنوعة ومختلفة لأن تعزيز نجاحات الطلاب يقود للمزيد من التقدم والنجاح.
- ✓ يجب توظيف العمل التعاوني (توزيع الطلبة في مجموعات) وتوزيع المهام عليهم بما يتناسب ونوع النشاط وبما يحقق تفاعلاً إيجابياً وتعلماً نشطاً للطلبة.
- ✓ التنويع المبدع في توظيف أساليب مختلفة للتعليم والتعلم النشط من مسابقات تربوية، وألعاب تربوية، وتوظيف استراتيجيات متنوعة التعلم النشط التي تهدف إلى تفعيل دور الطالب في الحصول على المعرفة.
- ✓ الحرص على الاطلاع على تحليل المنهاج وتسكين الأهداف والخطط المرافقة في هذا الدليل والاستفادة من الخبرات المتاحة والعمل على إثراء الموضوعات في ضوء نتائج التحليل.
- ✓ ضرورة الأخذ بعين الاعتبار الالتزام ما أمكن بالخطة الزمنية المقررة لتنفيذ المنهاج.

الخطة الفصلية للصف التاسع الأساسي

الوحدة الأولى: الأعداد الحقيقية

الشهر	الدرس	عدد الحصص	الأهداف العامة	الوسائل التعليمية	استراتيجيات التدريس	وسائل التقويم
سبتمبر	- الأعداد الحقيقية	2	- التعرف إلى مجموعة الأعداد الحقيقية.	الكتاب	الاستنتاج	الملاحظة
	- جمع الأعداد الحقيقية وطرحها	3	- إجراء عمليات حسابية على الأعداد الحقيقية.	الكتاب المدرسي	الحوار	تمارين الكتاب
	- ضرب الأعداد الحقيقية وقسمتها	4	- التعرف إلى خواص العمليات الحسابية على الأعداد الحقيقية.	أوراق عمل	والمناقشة	أوراق عمل
	- القيمة المطلقة	2	- التعرف إلى بعض خواص القيمة المطلقة.	لوحات	التعلم بالأقران	النشاط البيئي
	- الأسس وقوانينها (1)	3	- التعرف إلى الأسس وقوانينها	جدارية	التعلم باللعب	
	- الأسس وقوانينها (2)	3	- التعرف إلى اللوغاريتمات بقوانينها.			
	- اللوغاريتمات	3	- إجراء بعض العمليات على الأسس واللوغاريتمات			
	- تمارين عامة	3				

الخطة الفصلية للصف التاسع الأساسي

الوحدة الثانية: العلاقات والاقترانات

الشهر	الدرس	عدد الحصص	الأهداف التعليمية	مصادر التعلم	استراتيجيات التدريس	وسائل التقويم
أكتوبر	- الضرب الديكارتي	3	- إيجاد حاصل الضرب الديكارتي لمجموعتين رياضيتين	الكتاب	الحوار	تمارين
	- العلاقة	3	- التعرف إلى مفهوم العلاقة الرياضية	المدرسي	والمناقشة	الكتاب
	- خواص العلاقات	3	- تمثيل علاقة رياضية ب (مخطط سهمي، المستوى الديكارتي)	لوحة الرسم	الاستنتاج	أوراق عمل
	- الاقتران	3	- التعرف إلى خواص العلاقات: انعكاس، تماثل، تعدي تكافؤ	البياني	التعلم بالأقران	الملاحظة
	- أنواع الاقترانات	3	- التعرف إلى مفهوم الاقتران	لوحات		
	- الاقتران الخطي	3	- إيجاد المجال والمجال المقابل والمدى لاقتران	جدارية	التعلم التعاوني	متابعة الرسم
	- تركيب الاقترانات	2	- التعرف إلى أنواع الاقترانات			والتمثيل
	- الاقتران النظير (العكسي)	2	- إيجاد قاعدة تركيب اقترانين	أوراق عمل		
	- تمارين عامة	3	- إيجاد اقتران لنظير عكسي			النشاط
						البيتي

الخطة الفصلية للصف التاسع الأساسي

الوحدة الثالثة: الهندسة والقياس

الشهر	الدرس	عدد الحصص	الأهداف التعليمية	مصادر التعلم	استراتيجيات التدريس	وسائل التقويم
نوفمبر	- المسافة بين نقطتين	2	- إيجاد المسافة بين نقطتين في المستوى الديكارتي	الكتاب المدرسي	المناقشة	تمارين الكتاب
	- إحداثيات منتصف القطعة المستقيمة	2	- إيجاد إحداثيات منتصف القطعة المستقيمة	لوحة جدارية	الاستنتاج	أوراق عمل
	- ميل الخط المستقيم	2	- التعرف على ميل الخط المستقيم	لوحة الرسم	التعلم بالأقران	الملاحظة
	- معادلة الخط المستقيم	3	- إيجاد معادلة الخط المستقيم	البياني	حل المشكلات	النشاط
	- القطع المتوسطة للمثلث	3	- التعرف إلى القطع المتوسطة في المثلث	أوراق عمل		البيتي
	- تمارين عامة		- حل مسائل تطبيقية على مسائل الوحدة			

الخطة الفصلية للصف التاسع الأساسي

الوحدة الرابعة: الإحصاء

الشهر	الدرس	عدد الحصص	الأهداف التعليمية	مصادر التعلم	استراتيجيات التدريس	وسائل التقويم
نوفمبر + ديسمبر	- الجداول التكرارية.	2	- تنظيم البيانات في جدول تكراري ذي فئات	الكتاب المدرسي	المناقشة	تمارين الكتاب
	- التمثيل البياني للجداول التكرارية ذات الفئات.	2	- تمثيل التوزيعات التكرارية بيانياً			أوراق عمل
	- مقاييس النزعة المركزية للجداول التكرارية	4	- إيجاد مقاييس النزعة المركزية لبيانات مبوبة في جدول	لوحة الرسم البياني	التعلم بالأقران	الملاحظة
	- الانحراف المعياري للجداول التكرارية	2	- إيجاد الانحراف المعياري لبيانات مبوبة في جدول			النشاط البيئي
	- تمارين عامة	2				

تحليل محتوى الكتاب المدرسي للصف التاسع

الوحدة الأولى: الأعداد الحقيقية

حل مشكلات	معرفة إجرائية (خوارزميات ومهارات)	معرفة مفاهيمية (مفاهيم وتعميمات)	الدرس
<ul style="list-style-type: none"> - يوظف الأعداد الحقيقية في حل المسائل اللفظية (سؤال 5 صفحة 6) - أن يوضح بالأمثلة أن بعض الجذور التربيعية والجذور التكعيبية هي أعداد نسبية 	<ul style="list-style-type: none"> - يستنتج العلاقة بين الأعداد الطبيعية والصحيحة والنسبية والحقيقية - يصنف العدد وفق المجموعات التي ينتمي إليها - يمثل العدد الحقيقي على خط الأعداد - يقارن بين عددين حقيقيين - يوظف الأعداد الحقيقية في حل تمارين متنوعة 	<ul style="list-style-type: none"> - يعرف العدد الحقيقي - يصنف الأعداد إلى المجموعات التي تنتمي إليها 	(1 - 1) الأعداد الحقيقية
<ul style="list-style-type: none"> - يتحقق من خاصية الانغلاق في جمع وطرح مجموعة الأعداد غير النسبية. - يجمع عدد عشري دوري وعدد عشري سالب (سؤال 1 الفرع أ صفحة 9) - يحل مسائل لفظية تؤول إلى معادلات من الدرجة الأولى بمجهول واحد (سؤال 4 صفحة 9) 	<ul style="list-style-type: none"> - يضع الجذور في أبسط صورة - يميز الجذور المتشابهة - يجري عملية جمع الأعداد الحقيقية - يجري عملية طرح الأعداد الحقيقية - يوظف خواص عملية جمع الأعداد في ح في حل التدريبات - يميز عملية الجمع المستخدمة في عمليات جمع معطاه في ح - يحل معادلات من الدرجة الأولى بمجهول واحد 	<ul style="list-style-type: none"> - يعرف الجذر الأصم - يعرف الجذور المتشابهة - يبين أنه عند جمع الأعداد الحقيقية تجمع الحدود المتشابهة بعد تبسيطها - يفسر عملية طرح عددين حقيقيين - يعدد خواص جمع الأعداد الحقيقية 	(2 - 1) جمع الأعداد الحقيقية وطرحها

تحليل محتوى الكتاب المدرسي للصف التاسع

الوحدة الأولى: الأعداد الحقيقية

الدرس	معرفة مفاهيمية (مفاهيم وتميمات)	معرفة إجرائية (خوارزميات ومهارات)	حل مشكلات
(1 - 3) ضرب الأعداد الحقيقية وقسمتها	<ul style="list-style-type: none"> - يعدد خواص ضرب الأعداد الحقيقية - يتعرف إلى مفهوم إنطاق المقام - يعرف العددان المترافقان 	<ul style="list-style-type: none"> - يجد ناتج ضرب الأعداد الحقيقية - يجد ناتج قسمة الأعداد الحقيقية - يوظف خصائص عملية الضرب على الأعداد الحقيقية في إيجاد الناتج. - يكتب أعداد حقيقية في أبسط صورة بإنطاق المقام - يميز الخاصية المستخدمة في عمليات رياضية معطاة على ح 	<ul style="list-style-type: none"> - يشرح بأمثلة رياضية أن عملية قسمة الأعداد الحقيقية ليست تجميعية - يوظف ضرب وقسمة الأعداد الحقيقية في حل معادلات من الدرجة الأولى
(1 - 4) القيمة المطلقة	<ul style="list-style-type: none"> - يعرف مفهوم القيمة المطلقة لعدد حقيقي - يبين أن الجذر التربيعي لمربع عدد حقيقي يساوي القيمة المطلقة لهذا العدد 	<ul style="list-style-type: none"> - يجد القيمة المطلقة لمقادير معينة. - يمثل القيمة المطلقة على خط الأعداد - يوظف تعريف القيمة المطلقة في حل معادلات تربيعية 	<ul style="list-style-type: none"> - يبين رأيه في المقارنة بين قيمتي كل من: -2 ، -3 ، -1 (سؤال 2 صفحة 17) - يثبت بالأمثلة خطأ العبارة: إذا كان عددين حقيقيين وكان: $-2 > -3$ فإن $2 > 3$ (سؤال 4 صفحة 17)
(1 - 5) الأسس وقوانينها (1)	<ul style="list-style-type: none"> - يعرف الأسس على أنها ضرب متكرر - يتعرف إلى الصورة الأسية للعدد - يحدد كل من الأساس، والأس - يتعرف إلى مفهوم القوة النونية - يعدد بعض قوانين الأسس إذا كانت الأسس أعداد صحيحة غير سالبة 	<ul style="list-style-type: none"> - يكتب بعض الأعداد بالصورة الأسية - يوظف قوانين الأسس في حل تدريبات 	<ul style="list-style-type: none"> - يقارن بين حجم كرة وحجم مخروط لهما نفس قطر الدائرة (سؤال 4 صفحة 22)

تحليل محتوى الكتاب المدرسي للصف التاسع

الوحدة الأولى: الأعداد الحقيقية

الدرس	معرفة مفاهيمية (مفاهيم وتميمات)	معرفة إجرائية (خوارزميات ومهارات)	حل مشكلات
(1 - 6) الأسس وقوانينها (2)	<ul style="list-style-type: none"> - يذكر قانون ضرب الأسس - يعرف قانون الأس السالب - يعرف قانون الأس الكسري - يوضح الصورة العلمية للعدد - يشرح معنى المعادلة الأسية 	<ul style="list-style-type: none"> - يطبق قوانين الأسس الصحيحة على مسائل تتضمن قوى كسرية - يوظف قوانين الأسس الصحيحة والكسرية في حل تدريبات - يكتب عدد معطى بالصورة العلمية - يحل معادلات أسية 	<ul style="list-style-type: none"> - يجري عمليات حسابية على أعداد مكتوبة بالصورة الأسية (سؤال 3 فرع ب صفحة 27)
(1 - 7) اللوغاريتمات	<ul style="list-style-type: none"> - يتعرف إلى الصورة العامة للوغاريتم - يحول عدد من الصورة الأسية إلى الصورة اللوغاريتمية - يحول عدد من الصورة اللوغاريتمية إلى الصورة الأسية - يعدد قوانين اللوغاريتمات - أن يتعرف إلى المعادلة اللوغاريتمية 	<ul style="list-style-type: none"> - يحسب قيمة لوغاريتم مطلوب باستخدام قوانين اللوغاريتمات - يعدد قيمة لوغاريتم عدد مطلوب باستخدام قيمة لوغاريتم عدد آخر معطى - يحل معادلات لوغاريتمية بتحويلها إلى الصورة الأسية - يحل معادلات لوغاريتمية باستخدام قوانين اللوغاريتمات 	<ul style="list-style-type: none"> - يحل مسائل حياتية تتضمن أعدادا أسية ولوغاريتمية (سؤال 3 صفحة 34، سؤال 5 صفحة 35)

تحليل محتوى الكتاب المدرسي للصف التاسع

الوحدة الثانية: العلاقات والاقترانات

الدرس	معرفة مفاهيمية (مفاهيم وتعميمات)	معرفة إجرائية (خوارزميات ومهارات)	حل مشكلات
(2 - 1) الضرب الديكارتي	<ul style="list-style-type: none"> - يعرف الزوج المرتب - يحدد المسقط الأول والمسقط الثاني - يعرف حاصل الضرب الديكارتي - يعرف تساوي زوجين مرتبين 	<ul style="list-style-type: none"> - يجد حاصل الضرب الديكارتي لمجموعتين مختلفتين أ، ب - يجد حاصل الضرب الديكارتي لمجموعة مع نفسها $A \times A$ - ان يوظف تساوي زوجين مرتبين في حل معادلات من الدرجة الأولى/ الثانية. 	<ul style="list-style-type: none"> - يستنتج عدد عناصر حاصل الضرب الديكارتي (سؤال 3 صفحة 40)
(2 - 2) العلاقة	<ul style="list-style-type: none"> - يعرف العلاقة - يعرف مجال العلاقة - يعرف مدى العلاقة - شرح مفهوم المخطط السهمي - يتعرف على التمثيل البياني للعلاقة 	<ul style="list-style-type: none"> - يحدد مجال/ مدى علاقة معطاة. - يجد علاقة على مجموعة. - يمثل العلاقة من مجموعة إلى أخرى بمخطط سهمي. - يمثل العلاقة من مجموعة إلى نفسها سهمياً. - يمثل العلاقة من مجموعة إلى أخرى بيانياً - يكتب علاقة على شكل مجموعة من الأزواج المرتبة بمعلومية قاعدة العلاقة. 	<ul style="list-style-type: none"> - يوظف العلاقات في مسائل حياتية (سؤال 6 صفحة 44)

تحليل محتوى الكتاب المدرسي للصف التاسع

الوحدة الثانية: العلاقات والاقترانات

الدرس	معرفة مفاهيمية (مفاهيم وتعميمات)	معرفة إجرائية (خوارزميات ومهارات)	حل مشكلات
(2 - 3) خواص العلاقات	<ul style="list-style-type: none"> - يعرف خاصية الانعكاس - يعرف خاصية التماثل - يعرف خاصية التعدي - يعرف خاصية التكافؤ - يذكر العلاقات التي تعطي أكبر أو أصغر عدد من العناصر 	<ul style="list-style-type: none"> - يميز العلاقة من حيث كونها علاقة انعكاس أم لا - يميز العلاقة من حيث كونها علاقة تماثل أم لا - يميز علاقة معطاة من حيث كونها علاقة متعدية أم لا - يميز علاقة معطاة من حيث كونها علاقة تكافؤ أم لا - يكون علاقة انعكاس/ تماثل/ تعدي/ تكافؤ على مجموعة معلومة 	<ul style="list-style-type: none"> - يوظف خواص العلاقات في مسائل حياتية (سؤال 5، 6، 7 صفحة 49)
(2 - 4) الاقتران	<ul style="list-style-type: none"> - يعرف الاقتران - يعرف المجال - يعرف المجال المقابل - يعرف مدى الاقتران - يحدد العلاقة بين المدى والمجال المقابل 	<ul style="list-style-type: none"> - يميز العلاقة الممثلة سهمياً من حيث كونها اقتران - يجد عناصر الاقتران بمعلومية قاعدته - يحدد المجال والمجال المقابل والمدى - يستنتج أن كل اقتران علاقة، ليس كل علاقة اقتران. 	<ul style="list-style-type: none"> - يوظف مفهوم الاقتران في حل مسائل لفظية حياتية (سؤال 7 صفحة 53)

تحليل محتوى الكتاب المدرسي للصف التاسع

الوحدة الثانية: العلاقات والاقترانات

الدرس	معرفة مفاهيمية (مفاهيم وتعميمات)	معرفة إجرائية (خوارزميات ومهارات)	حل مشكلات
(2 - 5) أنواع الاقترانات	<ul style="list-style-type: none"> - يعرف الاقتران الشامل - يعرف الاقتران الواحد لواحد - يعرف اقتران التناظر - يعدد شرطي الاقتران التناظر 	<ul style="list-style-type: none"> - يميز الاقتران الشامل من غيره من الاقترانات - يعطي أمثلة لاقترانات شاملة - يميز الاقتران الواحد لواحد من غيره من الاقترانات - يعطي أمثلة لاقترانات واحد لواحد - يعين اقتران التناظر من مجموعة من الاقترانات - يعطي أمثلة لاقتران التناظر 	<ul style="list-style-type: none"> - يوظف مفهوم/ الاقتران الشامل، الواحد لواحد/ التناظر في حل تدريبات سؤال 4، 5 صفحة (57)
(2- 6) الاقتران الخطي	<ul style="list-style-type: none"> - يذكر الصورة العامة لمعادلة الاقتران الخطي - يعين مجال ومدى الاقتران الخطي - يعرف الاقتران المحايد - يعرف الاقتران الثابت - يشرح لماذا لا يمثل محور الصادات اقترانات - يبين نوع الاقتران الذي يمثله محور السينات 	<ul style="list-style-type: none"> - يحدد الاقتران الخطي - يمثل الاقتران الخطي على المستوى الديكارتي - يمثل الاقتران المحايد على المستوى الديكارتي - يمثل الاقتران الثابت على المستوى الديكارتي - يميز الاقتران الثابت من الاقترانات الأخرى - يمثل الاقتران المحايد بمخطط سهمي 	<ul style="list-style-type: none"> - يوظف الاقتران الخطي والثابت في مسائل حياتية (سؤال 5 صفحة (61)

تحليل محتوى الكتاب المدرسي للصف التاسع

الوحدة الثانية: العلاقات والاقترانات

الدرس	معرفة مفاهيمية (مفاهيم وتعميمات)	معرفة إجرائية (خوارزميات ومهارات)	حل مشكلات
(2 - 7) تركيب الاقترانات	<ul style="list-style-type: none"> - يعرف تركيب اقرانين - يقرأ رمز تركيب اقرانين - يعبر عن تركيب اقرانين رمزيا بأكثر من صورة. 	<ul style="list-style-type: none"> - يمثل تركيب اقرانين بمخطط سهمي - يجد تركيب اقرانين - يجد ناتج تركيب اقرانين عند أي قيمة معينة - يستنتج ان (ق 5 هـ) (س) ≠ (هـ 5 ق) (س) 	<ul style="list-style-type: none"> - يجد ناتج تركيب ثلاث اقرانات (سؤال 5 صفحة 64)
(2 - 8) الاقتران النظير الاقتران العكسي	<ul style="list-style-type: none"> - يعرف الاقتران العكسي - يعبر عن الاقتران العكسي تران معلوم رمزيا 	<ul style="list-style-type: none"> - يجد الاقتران العكسي من المخطط السهمي - يجد الاقتران العكسي لاقتران معبر عنه بأزواج مرتبة - يجد الاقتران العكسي لاقتران معبر عنه بقاعدة باستخدام قاعدة الاقتران المحايد - يستنتج أن الاقترانات الزوجية ليس لها اقتران عكسي 	<ul style="list-style-type: none"> - يستخدم تركيب الاقترانات في ايجاد الاقتران العكسي (سؤال 4 صفحة 67)

تحليل محتوى الكتاب المدرسي للصف التاسع

الوحدة الثالثة: الهندسة والقياس

حل مشكلات	معرفة إجرائية (خوارزميات ومهارات)	معرفة مفاهيمية (مفاهيم وتعميمات)	الدرس
<ul style="list-style-type: none"> - يوظف قانون المسافة بين نقطتين في حل تمارين متنوعة . سؤال (2،4،5) صفحة 75. - يحدد إحداثيات نقطة إذا علمت المسافة بين نقطتين 	<ul style="list-style-type: none"> - يستنتج قانون حساب المسافة بين نقطتين - يطبق قانون المسافة بين نقطتين - يجد نقطة بمعلومية المسافة بين نقطتين 	<ul style="list-style-type: none"> - يعين إحداثيات نقطة في المستوى الديكارتي - يعرف المسافة بين نقطتين - يذكر قانون المسافة بين نقطتين 	(3 _ 1) المسافة بين نقطتين
<ul style="list-style-type: none"> - يوظف القانون في حل المسائل المتنوعة سؤال (2 , 3 , 4) صفحة 77 	<ul style="list-style-type: none"> - يستنتج قانون احداثيات نقطة منتصف قطعة مستقيمة - يجد نقطة منتصف قطعة مستقيمة 	<ul style="list-style-type: none"> - يعرف نقطة منتصف قطعة مستقيمة 	(3 _ 2) إحداثيات نقطة المنتصف
<ul style="list-style-type: none"> - يوظف الميل في تفسير مواقف حياتية (سؤال 4 صفحة 82) 	<ul style="list-style-type: none"> - يجد ميل الخط المستقيم بمعلومية نقطتين - يجد ميل الخط المستقيم بمعلومية زاوية الميل - يجد ميل الخط المستقيم بمعلومية المحور الموازي 	<ul style="list-style-type: none"> - يعرف الخط المستقيم - يعرف التغير في الإحداثيات - يعرف ميل الخط المستقيم بدلالة نقطتين - يعرف ميل الخط المستقيم بدلالة زاوية ميله - على الاتجاه الموجب لمحور السينات - يذكر ميل محور السينات والمستقيمات الموازية له - يذكر ميل محور الصادات والمستقيمات الموازية له 	(3 _ 3) ميل الخط المستقيم

تحليل محتوى الكتاب المدرسي للصف التاسع

الوحدة الثالثة: الهندسة والقياس

الدرس	معرفة مفاهيمية (مفاهيم وتعميمات)	معرفة إجرائية (خوارزميات ومهارات)	حل مشكلات
(3 _ 4) معادلة الخط المستقيم	<ul style="list-style-type: none"> - يعرف الخط المستقيم - يعرف المقطع الصادي والسيني - يعرف الصورة العامة لمعادلة الخط المستقيم بدلالة الميل والمقطع الصادي - يعرف معادلة الخط المستقيم بدلالة الميل ونقطة تقع عليه - يعرف المستقيمين المتوازيين - يعرف المستقيمين المتعامدين - يشرح العلاقة بين محوري السينات والصادات ويفسر ميليهما 	<ul style="list-style-type: none"> - يمثل معادلة الخط المستقيم بيانيا - يجد معادلة الخط المستقيم بمعلومية الميل والمقطع الصادي - يجد معادلة الخط المستقيم بمعلومية الميل ونقطة تقع عليه - يجد معادلة الخط المستقيم بمعلومية المقطعين الصادي والسيني - يوظف ميلي خطين مستقيمين في إثبات العلاقة بينهما - يحسب ميل خط مستقيم بمعلومية ميل خط مستقيم آخر إذا علمت العلاقة 	<ul style="list-style-type: none"> - يوظف معادلة الخط المستقيم في حل مسائل متنوعة (سؤال 6 , 7 صفحة 87)
(3 _ 5) القطع المتوسطة للمثلث	<ul style="list-style-type: none"> - يعرف المثلث - يعرف القطعة المتوسطة في المثلث - يذكر أن نقطة تقاطع القطع المتوسطة تقسم كل قطعة منها بنسبة 2 : 1 من جهة الرأس 	<ul style="list-style-type: none"> - يحدد نقطة تقاطع القطع المتوسطة - يجد طول القطع المتوسطة في مثلث 	<ul style="list-style-type: none"> - يوظف النسب بين أجزاء القطع المتوسطة في حل مسائل متنوعة سؤال (4 صفحة 91)

تحليل محتوى الكتاب المدرسي للصف التاسع

الوحدة الرابعة: الإحصاء

الدرس	معرفة مفاهيمية (مفاهيم وتعميمات)	معرفة إجرائية (خوارزميات)	حل مشكلات
(4 _ 1) الجداول التكرارية	<ul style="list-style-type: none"> - يعرف الاحصاء - يعرف الجداول التكرارية - يعرف المدى لمجموعة بيانات - يعرف الفئة - يعرف طول الفئة 	<ul style="list-style-type: none"> - يجد المدى لمجموعة بيانات - يجد طول الفئة لجداول تكرارية 	<ul style="list-style-type: none"> - يوظف المدى في حل مسائل متنوعة - (سؤال 2 صفحة 99)
(4 _ 2) التمثيل البياني للجداول ذات الفئات	<ul style="list-style-type: none"> - يعرف المدرج التكراري - يعرف المضلع التكراري - يعرف المنحنى التكراري - يعرف المنحنى التكراري المجتمع الصاعد 	<ul style="list-style-type: none"> - يجد الحد الفعلي الاعلى والادنى للفئات - يجد مركز الفئة لمجموعة بيانات - يمثل البيانات بالمدرج التكراري - يمثل البيانات بمضلع تكراري - يمثل البيانات بمنحنى تكراري - يمثل بيانات بالمنحنى المجتمع الصاعد 	
(4 _ 3) مقاييس النزعة المركزية للجداول التكرارية	<ul style="list-style-type: none"> - يعرف النزعة المركزية - يعدد مقاييس النزعة المركزية - يعرف قانون الوسط الحسابي - يعرف رتبة الوسيط - يعرف الفئة المنوالية - يعرف المنوال لمجموعة قيم 	<ul style="list-style-type: none"> - يجد الوسيط الحسابي للجداول التكرارية - يجد الوسيط للجداول التكرارية - يجد المنوال للجداول التكرارية 	<ul style="list-style-type: none"> - يوظف مقاييس النزعة المركزية في حل المسائل (سؤال 2 صفحة 111)
(4-4) الانحراف المعياري للجداول التكرارية	<ul style="list-style-type: none"> - يعرف مقاييس التشتت - يعرف الانحراف المعياري للقيم - يعرف الانحراف المعياري للجداول التكرارية 	<ul style="list-style-type: none"> - يجد الانحراف المعياري للجداول التكرارية 	

تسكين اهداف الكتاب المدرسي للصف التاسع

الوحدة الأولى: الأعداد الحقيقية

الدرس	الهدف السلوكي	مستوى الهدف	البند الاختباري
(1 - 1) مجموعة الأعداد الحقيقية	- أن تعرف العدد الحقيقي..	معرفة مفاهيمية	- اختر /
	- أن تستنتج العلاقة بين الأعداد الطبيعية والصحيحة والنسبية والحقيقة .	معرفة إجرائية	*العدد π هو عدد (ط ، ص ، ن ، ن) / * $ح \cap ن = (ط ، ص ، ن ، ح)$ * $ن \cup ن = (ط ، ح ، ن ، ن +)$
	- أن تصنف العدد وفق المجموعات التي ينتمي إليها.	معرفة إجرائية	- نشاط (2) صفحة 5 - سؤال (2) صفحة 6 * ضع < ، > ، = :-
	- أن تمثل العدد الحقيقي على خط الأعداد .	معرفة إجرائية	5,5 ؟ 24
	- أن تقارن بين عددين حقيقيين .	معرفة إجرائية	$\frac{2}{9}$ - 2,
	- أن توظف الأعداد الحقيقية في حل المسائل اللفظية	حل مشكلات	س (5) صفحة (6)

تسكين اهداف الكتاب المدرسي للصف التاسع

الوحدة الأولى: الأعداد الحقيقية

الدرس	الهدف السلوكي	مستوى الهدف	البند الاختباري
(1 - 2) جمع الأعداد الحقيقية	<ul style="list-style-type: none"> - أن تعرف الجذر الأصم . - أن تعرف الجذور المتشابهة . - أن تميز الجذور المتشابهة . - أن تبسط الجذور . - ان تجري عملية الجمع في ح . - ان تجري عملية الطرح في ح . - أن تعدد خواص جمع الأعداد الحقيقية - ان توظف خواص عملية الجمع على ح في التمارين - أن تحل معادلات من الدرجة الأولى بمجهول واحد. 	<ul style="list-style-type: none"> معرفة مفاهيمية معرفة مفاهيمية معرفة إجرائية معرفة إجرائية معرفة إجرائية معرفة مفاهيمية معرفة إجرائية معرفة إجرائية 	<ul style="list-style-type: none"> - حددي الجذر الأصم مما يلي : 4ة 5ة 12ة -ضعي دائرة حول الجذور المتشابهة 7ة 28ة 7ة3 50ة -سؤال (5) صفحة (9) ضع (✓) أو (×) (1) عملية الجمع مغلقة بالنسبة لجمع الأعداد النسبية () (2) النظير الجمعي للعدد - 9؟ هو 3 () (3) عملية طرح الأعداد الحقيقية عملية تبديلية () جد قيمة س فيما يلي : 4 2؟ + س = 2 2؟

تسكين اهداف الكتاب المدرسي للصف التاسع

الوحدة الأولى: الأعداد الحقيقية

الدرس	الهدف السلوكي	مستوى الهدف	البند الاختباري
(3 - 1) ضرب الأعداد الحقيقية وقسمتها	<ul style="list-style-type: none"> - أن تجد ناتج ضرب الأعداد الحقيقية. - أن تجد ناتج قسمة الأعداد الحقيقية . - أن تعدد خواص ضرب الأعداد الحقيقية - أن توظف خصائص عملية الضرب على الأعداد الحقيقية في ايجاد الناتج. - أن ننطق المقام - أن توظف انطاق المقام في حل معادلات من الدرجة الأولى . 	<ul style="list-style-type: none"> معرفة إجرائية معرفة إجرائية معرفة مفاهيمية معرفة إجرائية معرفة إجرائية معرفة إجرائية معرفة إجرائية 	<ul style="list-style-type: none"> - أجد الناتج لما يلي : (1) $5 \times 5 = ?$ (2) $18 \div 2 = ?$ - نشاط (3) صفحة (11) - جد قيمة س فيما يلي :- (1) $5 = س$ ؟ 45 ؟ (2) $5 + 3 = س$ ؟ 2 = س -سؤال (5) صفحة (11)

تسكين اهداف الكتاب المدرسي للصف التاسع

الوحدة الأولى: الأعداد الحقيقية

الدرس	الهدف السلوكي	مستوى الهدف	البند الاختباري
القيمة المطلقة (1 - 4)	<ul style="list-style-type: none"> - أن تعرف القيمة المطلقة . - أن تجد القيمة المطلقة لمقادير معينة. - أن تمثل القيمة المطلقة على خط الأعداد. - أن توظف تعريف القيمة المطلقة في حل معادلات تربيعية. 	<ul style="list-style-type: none"> معرفة مفاهيمية معرفة إجرائية معرفة إجرائية معرفة إجرائية 	<p>- أجد قيمة ما يلي :</p> <p>(1) بيئ 8 بيئ = بيئ (2) بيئ - 0.5 بيئ = بيئ (3) بيئ -1 بيئ ؟ 3 بيئ = بيئ (4) بيئ -3 بيئ ؟ 5 بيئ = بيئ * اجد باستخدام خط الأعداد بيئ -1 بيئ ؟ 2 بيئ * أجد قيمة س ؟</p> <p>(1) س @ = 5 (2) (س + 7) @ = 20 -سؤال (4) صفحة (17)</p>

تسكين اهداف الكتاب المدرسي للصف التاسع

الوحدة الأولى: الاعداد الحقيقية

الدرس	الهدف السلوكي	مستوى الهدف	البند الاختباري
(5 - 1) الأسس وقوانينها (1)	<ul style="list-style-type: none"> - أن تعرف الأساس . - أن تعرف الأس . - أن تعرف القوة النونية . - ان تعرف الصورة الأسية - ان تعدد قوانين الأسس (1) . - أن توظف قوانين الأسس (1) في حل تدريبات. 	<p>معرفة مفاهيمية</p> <p>معرفة مفاهيمية</p> <p>معرفة مفاهيمية</p> <p>معرفة مفاهيمية</p> <p>معرفة مفاهيمية</p> <p>معرفة إجرائية</p>	<p>-ضع (/) أو (×) فيما يلي :</p> <p>(1) # 2 = 2 × 2 × 2 ()</p> <p>(2) \$ 5 الأساس هو 4 والأس هو 5 ()</p> <p>(3) أنن = أ + أ + أ + ... + أ (ن من المرات) ()</p> <p>اكمل الفراغات الآتية :-</p> <p>(1) س نن × س ه =</p> <p>(2) س ن ÷ س و =</p>

تسكين اهداف الكتاب المدرسي للصف التاسع

الوحدة الأولى: الأعداد الحقيقية

البند الاختباري	مستوى الهدف	الهدف السلوكي	الدرس
<p>أكمل ما يلي:</p> <p>(1) ((ا) نن) و = (2) ا_ نن = (3) ن ؟ اه = - حل المعادلات الآتية / (1) 5 نن = 125 (2) 2@ نن × 2@ = 8 *أكمل / الصورة العلمية للعدد 280000 =</p>	<p>معرفة مفاهيمية معرفة مفاهيمية معرفة إجرائية معرفة إجرائية معرفة إجرائية</p>	<p>- أن تعرف القوى الكسرية . - أن تعدد قوانين الأسس (2) . - أن توظف قوانين الأسس الصحيحة والكسرية في حل تدريبات - أن تحل معادلات أسية . - أن تكتب الأعداد بالصورة العلمية</p>	<p>(6 - 1) الأسس وقوانينها (2)</p>

تسكين اهداف الكتاب المدرسي للصف التاسع

الوحدة الأولى: الأعداد الحقيقية

الدرس	الهدف السلوكي	مستوى الهدف	البند الاختباري
(1 - 7) اللوغاريتمات	<ul style="list-style-type: none"> - أن تعرف الصورة العامة للوغاريتم - أن تعدد قوانين اللوغاريتمات . - أن تحول الصورة اللوغاريتمية الى أسية (والعكس) - أن توظف قوانين اللوغاريتمات في حل التدريبات - أن تحل معادلات لوغاريتمية. - توظف الأعداد الغير نسبية في حل مسائل حياتية متنوعة . 	<ul style="list-style-type: none"> معرفة مفاهيمية معرفة مفاهيمية معرفة إجرائية معرفة إجرائية معرفة إجرائية حل مشكلات 	<p>- * أكمل /</p> <p>1) اذا كان $v = ان$ فان $لواص =$</p> <p>- نشاط (5) ، (6) ، (7) صفحة (29) ، (30)</p> <p>(</p> <p>- سؤال (2) صفحة (33)</p> <p>- اجد قيمة ما يلي /</p> <p>1) لوح (81) + لو حح (9) =</p> <p>2) لو حح (3) @ (#) =</p> <p>* حل المعادلات الاتية /</p> <p>1) لو ثث س = 3-</p> <p>2) لو سش (س) + لو سش (3) = 2</p>

تسكين اهداف الكتاب المدرسي للصف التاسع

الوحدة الثانية: العلاقات والاقترانات

الدرس	الهدف السلوكي	مستوى الهدف	البند الاختباري
(1 - 2) الضرب الديكارتي	<ul style="list-style-type: none"> - أن تعرف الزوج المرتب . - ان تعرف حاصل الضرب الديكارتي . - أن تجد حاصل الضرب الديكارتي لمجموعتين مختلفتين أ، ب - أن تجد حاصل الضرب الديكارتي لمجموعة مع نفسها أ × أ - ان توظف تساوي زوجين مرتبين في حل معادلات من الدرجة الأولى/ الثانية. 	<ul style="list-style-type: none"> معرفة مفاهيمية معرفة مفاهيمية معرفة إجرائية معرفة إجرائية معرفة إجرائية 	<p>- أكمل:</p> <p>(1) تمثل النقطة في المستوى الديكارتي على شكل</p> <p>(2) $\{ (س ، ص) : س \in \dots ، ص \in \dots \}$ × ب = { (س ، ص) : س \in \dots ، ص \in \dots }</p> <p>*اذا كانت $\{ 1 ، 2 \} = ا$ ، $\{ 5 ، 6 \} = ب$ ، أجد</p> <p>(1) $ا \times ا$</p> <p>(2) $ب \times ب$</p> <p>(3) $ا \times ب$</p> <p>*اذا كان $(س + 1 ، 9) = (3 ، ص @)$</p> <p>أجد قيمة س ، ص ؟</p> <p>-سؤال (4) صفحة (40)</p>

تسكين اهداف الكتاب المدرسي للصف التاسع

الوحدة الثانية: العلاقات والاقترانات

الدرس	الهدف السلوكي	مستوى الهدف	البند الاختباري
(2 - 2) العلاقة	<ul style="list-style-type: none"> - أن تعرف العلاقة . - أن تعرف مجال العلاقة . - أن تعرف مدى العلاقة . - أن تجد علاقة على مجموعة. - أن تحدد مجال/ مدى علاقة معطاة. - ان تتعرف على المخطط السهمي . - أن تمثل العلاقة من مجموعة إلى نفسها سهمياً. - أن تتعرف على التمثيل البياني للعلاقة . - أن تمثل العلاقة من مجموعة إلى أخرى بمخطط سهمي. - ان تمثل العلاقة من مجموعة إلى أخرى بيانياً (المستوى الديكارتي) - أن تكتب علاقة على شكل مجموعة من الأزواج المرتبة بمعلومية قاعدة العلاقة. 	<ul style="list-style-type: none"> معرفة مفاهيمية معرفة مفاهيمية معرفة مفاهيمية معرفة إجرائية معرفة إجرائية معرفة مفاهيمية معرفة إجرائية معرفة مفاهيمية معرفة إجرائية معرفة إجرائية معرفة إجرائية 	<p>اكمل :-</p> <p>(1) مجموعة كل المساقط الأولى للأزواج المرتبة في العلاقة تسمى</p> <p>(2) مجموعة كل المساقط الثانية للأزواج المرتبة في العلاقة تسمى</p> <p>-إذا كانت $a = \{1, 2, 3\}$</p> <p>(1) اكتب $E = \{(s, v) \mid \exists a \times a, s = v\}$</p> <p>(2) اذكر المجال و المجال المقابل؟</p> <p>(3) مثل ع بالمخطط السهمي؟</p> <p>(4) مثل ع بالمستوى الديكارتي؟</p> <p>-نشاط (5) صفحة (43)</p> <p>-سؤال (5) صفحة (44)</p>

تسكين اهداف الكتاب المدرسي للصف التاسع

الوحدة الثانية: العلاقات والاقترانات

الدرس	الهدف السلوكي	مستوى الهدف	البند الاختباري
(2- 3) خواص العلاقات	<ul style="list-style-type: none"> - ان تعرف خاصية الانعكاس . - أن تميز العلاقة من حيث كونها علاقة انعكاس أم لا. - ان تعرف خاصية التماثل . - ان تميز العلاقة من حيث كونها علاقة تماثل أم لا. - ان تعرف خاصية التعدي . - ان تميز علاقة معطاة من حيث كونها علاقة متعدية أم لا. - ان تعرف خاصية التكافؤ - ان تميز علاقة معطاة من حيث كونها علاقة تكافؤ أم لا. 	<ul style="list-style-type: none"> معرفة مفاهيمية معرفة إجرائية معرفة مفاهيمية معرفة إجرائية معرفة مفاهيمية معرفة إجرائية معرفة مفاهيمية معرفة إجرائية 	<p>أكمل:</p> <p>- تسمى العلاقة ع علاقة انعكاس على ا اذا كان (.....) \exists ع لكل س \exists ا</p> <p>- اذا كانت $a = \{ 1, 2, 3, 4 \}$ بيني أي العلاقات تمثل علاقة انعكاس :</p> <p>ع $1 = \{ (2, 2), (3, 3), (4, 4) \}$</p> <p>ع $2 = \{ (2, 1), (3, 3), (2, 2) \}$</p> <p>*أكمل :</p> <p>- اذا كان (س ، ص) \exists ع ، (ص ، س) \exists ع فان العلاقة تسمى (لكل س ، ص \exists للمجموعة أ)</p> <p>تابع البند الاختباري في الصفحة التالية..</p>

تسكين اهداف الكتاب المدرسي للصف التاسع

الوحدة الثانية: العلاقات والاقترانات

الدرس	الهدف السلوكي	مستوى الهدف	البند الاختباري
تابع (3 - 2) خواص العلاقات			<p>*اكمل:</p> <p>- اذا كان (س ، ص) \exists ع ، (ص ، ل) \exists ع (س ، ل) \exists ع فان العلاقة تسمى</p> <p>(لكل س ، ص ، ع \exists للمجموعة ا)</p> <p>*اذا كانت ا = { 1 ، 2 ، 3 ، 4 } بيني أي العلاقات تمثل علاقة تعدي :</p> <p>ع = 1 = { (1 ، 1) ، (2 ، 1) ، (2 ، 2) ، (3 ، 3) ، (4 ، 4) ، (1 ، 2) }</p> <p>ع = 2 = { (1 ، 2) ، (2 ، 1) ، (1 ، 2) ، (4 ، 3) ، (3 ، 4) }</p> <p>*أكمل: اذا كانت العلاقة انعكاس وتمائل ومتعدية فان العلاقة تسمى</p> <p>*أي العلاقات السابقة تمثل علاقة تكافؤ ؟</p>

تسكين اهداف الكتاب المدرسي للصف التاسع

الوحدة الثانية: العلاقات والاقترانات

الدرس	الهدف السلوكي	مستوى الهدف	البند الاختباري
(2 - 4) الاقتران	<ul style="list-style-type: none"> - أن تعرف الاقتران . - ان تعرف المجال . - ان تعرف المجال المقابل . - ان تعرف مدى الاقتران - أن تميز العلاقة الممثلة سهمياً من حيث كونها اقتران. - ان تحدد المجال والمجال المقابل . - أن تجد عناصر الاقتران بمعلومية قاعدته. - ان توظف الاقتران في مسائل حياتية . 	<ul style="list-style-type: none"> معرفة مفاهيمية معرفة مفاهيمية معرفة مفاهيمية معرفة مفاهيمية معرفة إجرائية معرفة إجرائية معرفة إجرائية حل مشكلات 	<p>ضع (✓) او (x) :- اذا كانت ق : ا ← ب</p> <p>(1) الاقتران هو علاقة بين مجموعتين بحيث يرتبط كل عنصر من عناصر ا بعنصر من عناصر ب ()</p> <p>(2) مجال الاقتران هو عناصر المجموعة ب بينما المجال المقابل هو عناصر المجموعة ا ()</p> <p>(3) المدى \subseteq المجال المقابل ()</p> <p>سؤال (1) صفحة (53)</p> <p>- اذا كان ق : ص ← ص ، ق (س) = 2س + 1 أجد /</p> <p>ق (-1) ، ق (0) ، ق (3) مبينة المجال والمجال المقابل والمدى ؟</p>

تسكين اهداف الكتاب المدرسي للصف التاسع

الوحدة الثانية: العلاقات والاقترانات

الدرس	الهدف السلوكي	مستوى الهدف	البند الاختباري
(2 - 5) أنواع الاقترانات	<ul style="list-style-type: none"> - أن تعرف الاقتران الشامل . - أن تعرف الاقتران الواحد لواحد . - أن تعرف اقتران التناظر - أن تحدد الاقتران الشامل. - أن تعطي أمثلة لاقترانات شاملة. - أن تميز الاقتران الواحد لواحد. - أن تعطي أمثلة لاقترانات واحد لواحد. - أن تحدد اقتران التناظر. - أن توظف مفهوم/ الاقتران الشامل، الواحد لواحد/ التناظر في حل تدريبات 	<ul style="list-style-type: none"> معرفة مفاهيمية معرفة مفاهيمية معرفة مفاهيمية معرفة إجرائية معرفة إجرائية معرفة إجرائية معرفة مفاهيمية معرفة مفاهيمية معرفة مفاهيمية 	<ul style="list-style-type: none"> - اكمل / ق : ا ← ب (1) اذا كان مدى الاقتران = المجال المقابل للاقتران فيسمى الاقتران ق (2) يسمى الاقتران ق اقتران واحد لواحد اذا (3) اذا كان الاقتران واحد لواحد وشامل يسمى الاقتران ق -سؤال (1) صفحة (57) -سؤال (3) صفحة (57) -سؤال (5) صفحة (57)

تسكين اهداف الكتاب المدرسي للصف التاسع

الوحدة الثانية: العلاقات والاقترانات

الدرس	الهدف السلوكي	مستوى الهدف	البند الاختباري
تابع (5 - 2) أنواع الاقترانات	<ul style="list-style-type: none"> - أن تعرف الاقتران الخطي . - أن تعرف الاقتران المحايد . - أن تعرف الاقتران الثابت . - أن تحدد الاقتران الخطي . - أن تمثل الاقتران الخطي على المستوى الديكارتي - أن تمثل الاقتران المحايد على المستوى الديكارتي - أن تمثل الاقتران الثابت على المستوى الديكارتي - أن تحدد الاقتران الثابت من الاقترانات . - أن تمثل الاقتران المحايد بمخطط سهمي - أن توظف الاقتران الخطي والثابت في مسائل حياتية 	<p>معرفة مفاهيمية</p> <p>معرفة إجرائية</p> <p>معرفة إجرائية</p> <p>معرفة إجرائية</p> <p>معرفة مفاهيمية</p> <p>معرفة مفاهيمية</p> <p>معرفة إجرائية</p> <p>معرفة إجرائية</p> <p>حل مشكلات</p>	<p>اكمل /</p> <p>1) كل اقتران على الصورة ق (س) = اس + ب ، ا ، ب \exists ح ، ا \neq صفر يسمى</p> <p>*اختر /</p> <p>1) الاقتران ق (س) = س يسمى اقتران (ثابت ، محايد ، تربيعي ، لاشي مما ذكر)</p> <p>2) الاقتران الثابت فيما يلي هو</p> <p>ق(س) = س ، ق(س) = 4 ، ق(س) = 5س + 5 ، ق(س) = س @ 1 +)</p> <p>3) جميع الاقترانات الاتية خطية ما عدا</p> <p>ق(س) = 3س ، ق(س) = ؟س ، ق(س) = 2س + 1 ، ق(س) = 5س - 7)</p> <p>*مثل على المستوى الديكارتي /</p> <p>1) ق(س) = 3س + 1</p> <p>2) ق(س) = س</p> <p>3) ق(س) = 3</p> <p>-سؤال (5) صفحة (61)</p>

تسكين اهداف الكتاب المدرسي للصف التاسع

الوحدة الثانية: العلاقات والاقترانات

الدرس	الهدف السلوكي	مستوى الهدف	البند الاختباري
(7 - 2) تركيب الاقترانات	<ul style="list-style-type: none"> - أن تعرف تركيب اقرانين - أن تمثل تركيب اقرانين بمخطط سهمي . - أن تجد تركيب اقرانين عند قيمة محددة . - ان تركب اقرانين عند أي متغير . - ان تستنتج ان ق 5 هـ (س) \neq (هـ 5 ق) (س) 	<ul style="list-style-type: none"> معرفة مفاهيمية معرفة إجرائية معرفة إجرائية معرفة إجرائية معرفة إجرائية 	<p>- نشاط (2) صفحة (62) من الكتاب المدرسي</p> <p>*اذا كانت ق(س) = 2س + 1 ، هـ(س) = 4س - 3 اجد /</p> <p>(1) ق 5 هـ (2) = (2) ق 5 هـ (س) = (3) هـ 5 ق (س) =</p> <p>ماذا تستنتج ؟</p>

تسكين اهداف الكتاب المدرسي للصف التاسع

الوحدة الثانية: العلاقات و الاقترانات

الدرس	الهدف السلوكي	مستوى الهدف	البند الاختباري
(8 - 2) الاقتران العكسي	<ul style="list-style-type: none"> - أن تعرف الاقتران العكسي - أن تجد الاقتران العكسي في المخطط السهمي. - أن تجد الاقتران العكسي باستخدام قاعدة الاقتران المحايد - أن تستخدم تركيب الاقترانات في ايجاد الاقتران العكسي. 	<p>معرفة مفاهيمية</p> <p>معرفة إجرائية</p> <p>معرفة إجرائية</p> <p>حل مشكلات</p>	<p>- أكمل / (ق 5 ق_ !) (س) =</p> <p>العبارة السابقة تسمى قاعدة الاقتران</p> <p>أجد / ق_ ! لما يلي :</p> <p>(1)</p>  <p>(2) ق (س) = 2س + 4</p> <p>سؤال (4) صفحة (67)</p>

تسكين اهداف الكتاب المدرسي للصف التاسع

الوحدة الثالثة: الهندسة والقياس

الدرس	الهدف السلوكي	مستوى الهدف	البند الاختباري
(1 - 3) المسافة بين نقطتين	<ul style="list-style-type: none"> - ان يعرف المسافة بين نقطتين - ان يستنتج قانون حساب المسافة بين نقطتين - أن يجد نقطة بمعلومية المسافة بين نقطتين - ان يوظف قانون المسافة بين نقطتين في حل تمارين متنوعة 	<ul style="list-style-type: none"> معرفة مفاهيمية معرفة اجرائية معرفة اجرائية حل المشكلات 	<ul style="list-style-type: none"> -اذا كانت أ (س₁ ، ص₁) ، ب (س₂ ، ص₂) فإن طول أب=..... -اذا كانت المسافة بين م(أ،7) ، ن(-2 ، 3) تساوي 5 وحدات ، جد قيمة أ سؤال (3) صفحة 74 *سؤال (2) ، (4) ، (5) صفحة 74
(2 - 3) احداثيات نقطة منتصف القطعة المستقيمة	<ul style="list-style-type: none"> - أن يعرف نقطة منتصف قطعة مستقيمة - ان يستنتج قانون احداثيات نقطة منتصف قطعة مستقيمة - ان يجد نقطة منتصف قطعة مستقيمة - ان يوظف القانون في حل المسائل المفتوحة 	<ul style="list-style-type: none"> معرفة مفاهيمية معرفة اجرائية معرفة اجرائية حل المشكلات 	<ul style="list-style-type: none"> * نشاط (3) صفحة 75 -أ ، ب ، ج تمثل ثلاثة مواقع في المستوى الديكارتي : ب(6 ، -4) ، هو منتصف المسافة بين أ ، ج ، اذا كان أ(5 ، -3) ، ما موقع ج ؟ سؤال (2) ، (3) ، (4) صفحة 77

تسكين اهداف الكتاب المدرسي للصف التاسع

الوحدة الثالثة: الهندسة والقياس

الدرس	الهدف السلوكي	مستوى الهدف	البند الاختباري
(3 - 3) ميل الخط المستقيم	<ul style="list-style-type: none"> - أن يعرف الخط المستقيم - ان يعرف ميل الخط المستقيم - ان يجد ميل الخط المستقيم بمعلومية نقطتين - ان يجد ميل الخط المستقيم بمعلومية زاوية الميل - ان يجد ميل الخط المستقيم بمعلومية المحور الموازي - ان يوظف الميل في حل المسائل 	<ul style="list-style-type: none"> معرفة مفاهيمية معرفة مفاهيمية معرفة اجرائية معرفة اجرائية معرفة اجرائية حل المشكلات 	<p>-أكمل :مجموعة غير منتهية من النقاط التي تقع على استقامة واحدة</p> <p>-جد ميل الخط المستقيم المار بالنقطتين أ(4 ، 6) ، ب (2 ، -3)؟</p> <p>سؤال (1) (أ ، ب) صفحة 82</p> <p>* نشاط (4) صفحة 80</p> <p>-ضع علامة (✓) أو (×):</p> <p>ميل الخط المستقيم الموازي لمحور السينات يساوي صفر ()</p> <p>ميل الخط المستقيم الموازي لمحور الصادات يساوي 1 ()</p> <p>سؤال (4) صفحة 82</p>

تسكين اهداف الكتاب المدرسي للصف التاسع

الوحدة الثالثة: الهندسة والقياس

الدرس	الهدف السلوكي	مستوى الهدف	البند الاختباري
(3 - 4) معادلة الخط المستقيم	<ul style="list-style-type: none"> - ان يعرف الخط المستقيم - ان يمثل معادلة الخط المستقيم - ان يعرف المقطع الصادي والسيني - ان يجد معادلة الخط المستقيم بمعلومية الميل والمقطع الصادي - ان يجد معادلة الخط المستقيم بمعلومية الميل ونقطة عليه - ان يوظف معادلة الخط المستقيم في حل مسائل متنوعة - ان يجد العلاقة بين ميلي مستقيمين متوازيين - ان يجد العلاقة بين ميلي مستقيمين متعامدين 	<ul style="list-style-type: none"> معرفة مفاهيمية معرفة اجرائية معرفة مفاهيمية معرفة اجرائية معرفة اجرائية حل المشكلات حل المشكلات حل المشكلات 	<p>* نشاط (1) صفحة (83)</p> <p>-مثل بيانياً المعادلة $ص = 2س + 3$</p> <p>اكمل :</p> <p>الاحداثي تاصادي لنقطة تقاطع الخط المستقيم ومحور الصادات = ويسمى</p> <p>-جد معادلة الخط المستقيم الذي ميله -2 ويقطع محور الصادات عند النقطة (0 ، 4)</p> <p>سؤال (2 ، 3 ، 4 ، 5) صفحة 87</p> <p>- نشاط (7) ، (8) صفحة 86</p> <p>-ما العلاقة بين المستقيمين $ص = 2س + 1$ ، $ص = 2س - 4$ ؟</p>

تسكين اهداف الكتاب المدرسي للصف التاسع

الوحدة الثالثة: الهندسة والقياس

الدرس	الهدف السلوكي	مستوى الهدف	البند الاختباري
(3 - 5) القطع المتوسطة للمثلث	<ul style="list-style-type: none"> - ان يعرف المثلث - ان يعرف القطعة المتوسطة - ان يحدد نقطة تقاطع القطع المتوسطة - ان يجد طول القطع المتوسطة من مثلث - ان يوظف القطع المستقيمة في حل مسائل متنوعة 	<ul style="list-style-type: none"> معرفة مفاهيمية معرفة مفاهيمية معرفة اجرائية معرفة اجرائية حل المشكلات 	<p>-أكمل :</p> <p>المثلث هو شكل هندسي</p> <p>القطعة المتوسطة للمثلث هي</p> <p>عدد القطع المتوسطة للمثلث المتساوي الساقين =</p> <p>وللمثلث متساوي الاضلاع =</p> <p>* نشاط (2) صفحة 89</p> <p>-أص ، ج س قطع متوسطة يتقاطعون في م في المثلث أ ب ج ، و طول م ص = 6 سم، جد (1 طول أم 2) طول أص</p> <p>- نشاط (3) صفحة 90</p> <p>سؤال (3) صفحة 91</p> <p>سؤال (4) صفحة 91</p>

تسكين اهداف الكتاب المدرسي للصف التاسع

الوحدة الرابعة: الإحصاء

الدرس	الهدف السلوكي	مستوى الهدف	البند الاختباري
(1 - 4) الجداول التكرارية	- ان يعرف الاحصاء	معرفة مفاهيمية	* نشاط (2) صفحة 97
	- ان يعرف الجدول التكراري	معرفة مفاهيمية	سؤال (1) صفحة 99
	- ان يعرف المدى لمجموعة بيانات	معرفة مفاهيمية	-اكمل:
	- ان يجد المدى لمجموعة بيانات	معرفة جرائية	المدى لمجموعة من البيانات هو
	- ان يعرف طول الفئة	معرفة مفاهيمية	الفئة هي.....
	- ان يجد طول الفئة لجداول تكرارية	معرفة اجرائية	يمكن ايجاد طول الفئة من القانون
	- ان يعرف الفئة	معرفة مفاهيمية	-سؤال (2) صفحة 99

تسكين اهداف الكتاب المدرسي للصف التاسع

الوحدة الرابعة: الإحصاء

الدرس	الهدف السلوكي	مستوى الهدف	البند الاختباري														
(4 _ 2) التمثيل البياني للجداول التكرارية ذات الفئات	<ul style="list-style-type: none"> - ان يعرف المدرج التكراري - ان يجد الحد الفعلي الادنى و الاعلى للمدرج التكراري - ان يمثل بيانات بالمدرج التكراري - ان يعرف المضلع التكراري - ان يجد مركز الفئة لمجموعة بيانات - ان يعرف المنحنى التكراري - ان يعرف المنحنى التكراري المجتمع الصاعد - ان يمثل بيانات بالمنحنى المجتمع الصاعد 	<ul style="list-style-type: none"> معرفة مفاهيمية معرفة اجرائية معرفة اجرائية معرفة مفاهيمية معرفة اجرائية معرفة مفاهيمية معرفة مفاهيمية معرفة اجرائية 	<p>اكمل :</p> <p>المدرج التكراري هو</p> <p>الحد الاعلى للفئة 12 - 14 هو والحد الأدنى هو</p> <p>.....</p> <p>-سؤال (1) (أ) صفحة 105</p> <p>-أكمل</p> <p>المضلع التكراري هو</p> <p>مركز الفئة =</p> <p>المنحنى التكراري هو</p> <p>-سؤال (1) (ب) صفحة 105</p> <p>- نشاط (4) صفحة 103</p> <p>-مثل الجدول التكراري الاتي بالمنحنى التكراري</p> <p>والمنحنى التكراري المجتمع الصاعد</p> <table border="1" style="width: 100%; text-align: center;"> <thead> <tr> <th>الفئات</th> <th>5-3</th> <th>8-6</th> <th>11-9</th> <th>14-12</th> <th>17-15</th> <th>20-18</th> </tr> </thead> <tbody> <tr> <td>التكرار</td> <td>5</td> <td>3</td> <td>4</td> <td>2</td> <td>1</td> <td>6</td> </tr> </tbody> </table>	الفئات	5-3	8-6	11-9	14-12	17-15	20-18	التكرار	5	3	4	2	1	6
	الفئات	5-3	8-6	11-9	14-12	17-15	20-18										
التكرار	5	3	4	2	1	6											

تسكين اهداف الكتاب المدرسي للصف التاسع

الوحدة الرابعة: الإحصاء

الدرس	الهدف السلوكي	مستوى الهدف	البند الاختباري
(3 _ 4) مقاييس النزعة المركزية للجداول التكرارية	<ul style="list-style-type: none"> - ان يعرف النزعة المركزية - ان يعدد مقاييس النزعة المركزية - ان يجد الوسط الحسابي للجداول التكرارية - ان يعرف رتبة الوسيط - ان يجد الوسيط للجداول التكرارية - ان يعرف المنوال لمجموعة قيم - ان يجد المنوال للجداول التكرارية - ان يوظف مقاييس النزعة المركزية في حل المسائل 	<ul style="list-style-type: none"> معرفة مفاهيمية معرفة مفاهيمية معرفة اجرائية معرفة مفاهيمية معرفة اجرائية معرفة مفاهيمية معرفة اجرائية حل المشكلات 	<ul style="list-style-type: none"> * نشاط (2) صفحة 107 -ضع (✓) أو (×): الوسط الحسابي من مقاييس النزعة المركزية () الانحراف المعياري من مقاييس النزعة المركزية () الوسيط ليس من مقاييس النزعة المركزية () -أكمل / المنوال لمجموعة القيم (1 ، 12 ، 5 ، 12 ، 6 ، 12 ، 5 ، 1 ، 12) هو -سؤال (1) (ب) صفحة 111 - نشاط (5) صفحة 110 -سؤال (1) (ج) صفحة 111 -سؤال (2) صفحة 111
(4 _ 4) الانحراف المعياري للجداول التكرارية	<ul style="list-style-type: none"> - ان يعرف الانحراف المعياري للجداول التكرارية - ان يجد الانحراف المعياري للجداول التكرارية 	<ul style="list-style-type: none"> معرفة مفاهيمية معرفة اجرائية 	<ul style="list-style-type: none"> - نشاط (2) صفحة 113 -سؤال (1) صفحة 113 -سؤال (2) صفحة 113

جدول مواصفات أهداف كتاب الصف التاسع

المجموع	حل المشكلات	المعرفة الإجرائية	المعرفة المفاهيمية	الوحدة
30.8% 69	5.3% 12	13.3 30%	12% 27	الأولى (الأعداد الحقيقية)
35.7% 80	3.5% 8	16.9% 38	15.1% 34	الوحدة الثانية (العلاقات و الاقترانات)
19.1% 43	2.6% 6	7.1% 16	9.3% 21	الوحدة الثالثة (الهندسة و القياس)
14.2% 32	0.8% 2	5.3% 12	8% 18	الوحدة الرابعة (الإحصاء)
100% 224	12.6% 28	42.8% 96	44.6% 100	المجموع

ارشادات لتنفيذ الانشطة والمشاريع الريفية

الوحدة	عنوان الدرس	رقم النشاط و رقم الصفحة	ارشادات التنفيذ
الأولى (الأعداد الحقيقية)	جمع الأعداد الحقيقية وطرحها	نشاط (4) صفحة (8)	قم بشرح خواص عملية الجمع على ح ، ومن ثم اطلب من الطلاب ملء الجدول في النشاط بأمثلة عددية حسب ما فهموه .
	اللوغاريتمات	نشاط (7) ، (12) صفحة (30) ، (32)	قم بعمل مسابقة بين طالبين لحل المثال بطريقتين مختلفتين والحصول على نفس الناتج، واعطي امثلة اضافية ، وعزز الطلاب المتسابقين.
	مشروع الوحدة	صفحة (35)	قسم الطلاب الى مجموعات وعين قائدا لكل مجموعة ، قم بتوزيع الأدوار على افراد المجموعة الواحدة حسب المطلوب بالمشروع يحدد المسافة ف من خلال العلاقة المعطاة يكتب المسافة (بالميل ، الكيلو متر) وهكذا..

ارشادات لتنفيذ الانشطة والمشاريع الريبادية

الوحدة	عنوان الدرس	رقم النشاط و رقم الصفحة	ارشادات التنفيذ
الوحدة الثانية / العلاقات والاقترانات	خواص العلاقات	نشاط (7) صفحة (48)	قم باختيار 4 طلاب وتكليفهم بدراسة خاصية الانعكاس ، التماثل ، والتعدي ، والتكافؤ على السبورة ، ويكون باقي الطلاب هم الحكم في الفصل قدم الارشادات المناسبة للطلبة على السبورة ومن ثم عزز الحلول الصحيحة
	الاقتران الخطي	نشاط (2) صفحة (58)	قم بكتابة مجموعة الاقترانات بالنشاط على بطاقات وقسم السبورة جزأين (اقتران خطي ، اقتران ليس خطي) واطلب من الطلاب فرز البطاقات حسب نوع الاقتران.
	مشروع الوحدة	صفحة (69)	كلف الطلاب بالبحث على مواقع الشبكة العنكبوتية عن فصائل الدم والمعطي والمستقبل من هذه الفصائل ومن خلال بحثه يرسم علاقة بين الفصائل ويحدد نوع هذه العلاقة

ارشادات لتنفيذ الانشطة والمشاريع الriادية

الوحدة	عنوان الدرس	رقم النشاط و رقم الصفحة	ارشادات التنفيذ
الوحدة الثالثة / الهندسة والقياس		نشاط (5) صفحة (76)	يفكر الطالب بطريقة اخرى لإيجاد احداثيات النقطة د ارشاد : من خواص متوازي الاضلاع ان كل ضلعين متقابلين متساويين في الطول (أب = ج د)
	مشروع الوحدة	صفحة (93)	يتم اختيار مقياس رسم مناسب ومن خلاله يرسم الطلاب خارطة فلسطين على المستوى الديكارتي، ويتم تحديد مواقع بعض المدن الفلسطينية على الخارطة يتعاون كل طالب و زميله في حساب المسافة التقريبية بين القدس وجنين المسافة التقريبية بين القدس و غزة، ثم يقارن المسافتين يحدد موقع اريحا والخليل وعكا بالنسبة للعاصمة القدس يختار 3 مدن تقع على خط مستقيم ويحسب معادلته

ارشادات لتنفيذ الانشطة والمشاريع الريفية

الوحدة	عنوان الدرس	رقم النشاط و رقم الصفحة	ارشادات التنفيذ
الوحدة الرابعة / الأحصاء	التمثيل البياني للجداول التكرارية ذات الفئات	نشاط (2) صفحة (101)	التأكيد على إجادة الطلاب لقراءة المدرج التكراري المرسوم اعط مجموعة متنوعة من الاسئلة الشفهية والكتابية على قراءة الرسم البياني .
	مشروع الوحدة	صفحة (115)	يكلف المعلم الطلاب بقياس اطوالهم قبل البدء بالنشاط ، ثم يقسمهم الى مجموعات وكل مجموعة تقوم بتشكيل فريق كرة السلة بحيث تكون اطوالهم مثلا على الاقل 150 سم . تقوم كل مجموعة بحساب معدل اطوال فريق كرة السلة الذي تم تشكيله ومن ثم اعطاؤهم الفرصة للعب كرة السلة في ملعب المدرسة

اختبارات الوحدات

الصف : التاسع الأساسي (الفصل الأول)



دولة فلسطين

وزارة التربية والتعليم العالي

مديرية التربية والتعليم - غرب غزة

بسم الله الرحمن الرحيم

الاختبار التشخيصي للفصل الدراسي الأول

للعام الدراسي 2018/2017م

عدد الصفحات: (3) صفحات

المبحث: الرياضيات

الصف: التاسع الأساسي

الزمن: حصة واحدة

اسم الطالب/ة:

الشعبة:

السؤال الأول : اختر الاجابة الصحيحة مما بين القوسين : (16 درجة)

1- ناتج جمع $4 + 5 = \dots\dots\dots$

- ا] 9 ب] -1 ج] +1 د] 20

2- $\dots\dots\dots = 24$ (كحاصل ضرب اعداد اولية)

- ا] 8×3 ب] 6×4 ج] 3×2^2 د] 2×3^2

3- $n > \dots\dots\dots$

- ا] ص ب] ط ج] ن : د] ح

4- العدد 75ة في ابسط صورة

- ا] 5ة3 ب] 3ة5 ج] 15ة3 د] 15ة15

5- قيمة س في المعادلة $3 + 4 = 4$ هي

- ا] 7 ب] +1 ج] -1 د] 12

6- قيمة س في المعادلة $5^2 - 6 = 0$

- ا] { 3 , 2 } ب] { 3 , 2- } ج] { 3 - , 2- } د] { 3 - , 2 }

7- النقطة (-5 ، 2) تقع في الربع من المستوى الديكارتي

- ا] الاول ب] الثاني ج] الثالث د] الرابع

8- $A = \{ 3 , 2 , 1 \}$ ، $B = \{ 3 , 2 \}$ ، فإن $A \cap B = \dots\dots\dots$

- ا] { 2 } ب] { 2 , 2 } ج] { 3 , 2 } د] { 3 }

9- اذا كان $5 = 4 + 2$ ، $4 = 2 + 2$ ، فإن $4 + 2 = \dots\dots\dots$

- ا] 24 ب] 22 ج] 20 د] 26

10- الاعداد 3 ، 4 ، اعدادا فيثاغورثية

- ا] 5 ب] 8 ج] 7 د] 1

- 11- من انواع المثلثات حسب الزوايا
 [ا] مختلف الاضلاع [ب] حاد الزوايا [ج] متساوي الاضلاع [د] متساوي الساقين
- 12- شكل هندسي رباعي فيه كل ضلعين متقابلين متوازيين
 [ا] المثلث [ب] شبه المنحرف [ج] متوازي الاضلاع [د] الدائرة
- 13- ظل الزاوية $60^\circ = \dots\dots$
 [ا] $3\sqrt{3}$ [ب] $3\sqrt{2}$ [ج] $3\sqrt{2}$ [د] $0.5\sqrt{2}$
- 14- في المثلث متساوي الساقين ، عدد القطع المتوسطة
 [ا] 1 [ب] 2 [ج] 3 [د] صفر
- 15- القيمة الاكثر تكرارا في مجموعة بيانات معدة تسمى
 [ا] الوسط الحسابي [ب] الوسيط [ج] المنوال [د] الانحراف المعياري
- 16- $2 : 3 \ni ______$
 [ا] ص [ب] ن [ج] ط [د] ط*

السؤال الثاني :-

(درجتان)

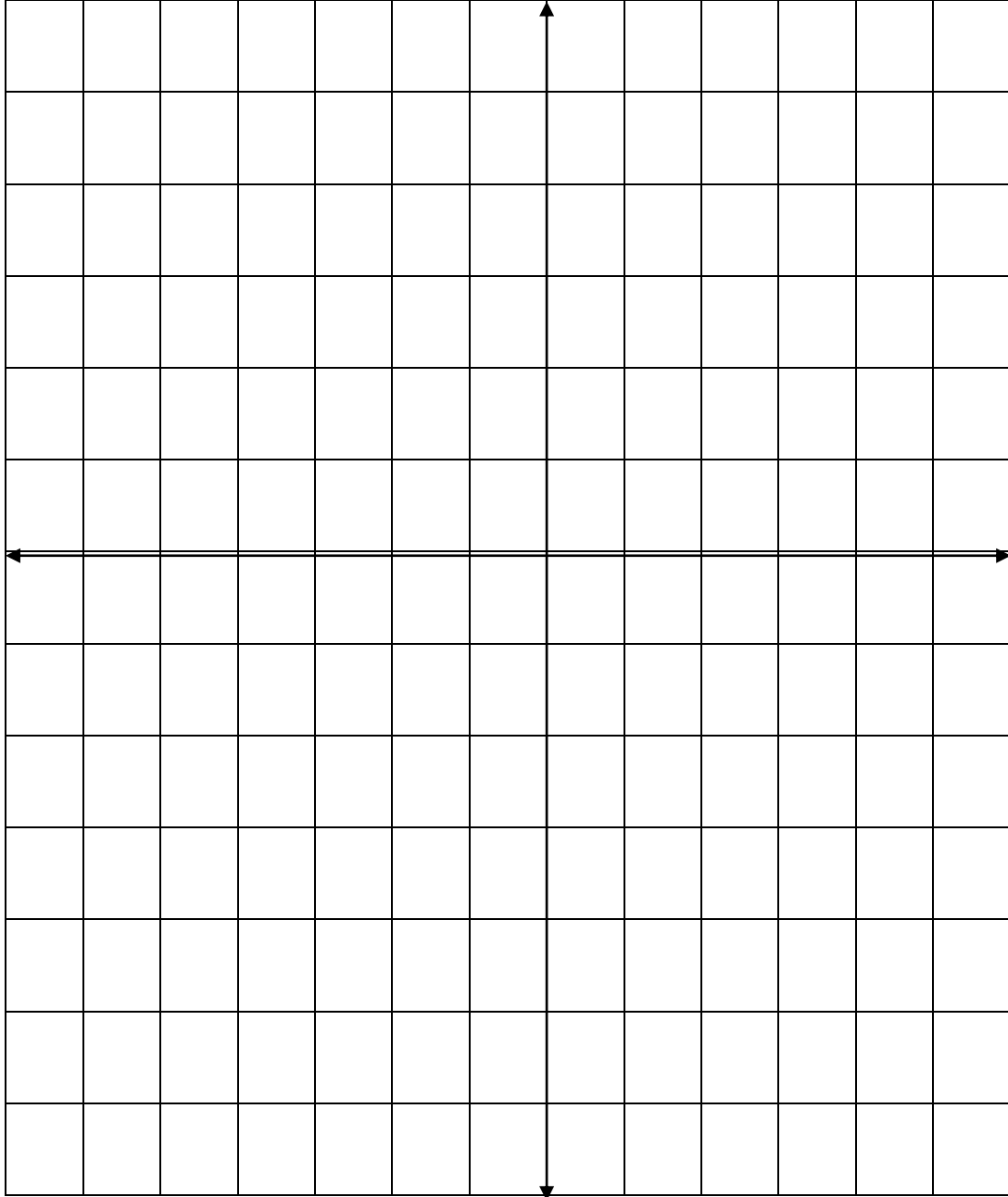
أ) حل المعادلة التالية :-

$$2س^2 - س - 15 = 0$$

(درجتان)

ب) مثل النقاط التالية على المستوى الديكارتي

$(-4, -4)$ ، $(0.5, 5)$ ، $(0, 0)$ ، $(-3, 1)$





دولة فلسطين

وزارة التربية والتعليم العالي
مديرية التربية والتعليم - غرب غزة

بسم الله الرحمن الرحيم

اختبار الوحدة الأولى للفصل الدراسي الأول
للعام الدراسي 2018/2017م
عدد الصفحات: (2) صفحات

المبحث: الرياضيات
الصف: التاسع الأساسي
الزمن: حصة واحدة
اسم الطالب/ة:
الشعبة:

السؤال الأول : ضع دائرة حول رمز الاجابة الصحيحة:

- (1). لو₂ 32 = (5 ، -5 ، 3 ، 2)
- (2). العدد المكافئ للصورة العلمية 1.3 × 10⁻⁵ [130000 ، 0.000013 ، 1300 ، 1.3]
- (3). قيمة (س + 1)⁰؛ حيث س عدد حقيقي (1 ، س ، صفر ، -1)
- (4). العدد غير النسبي مما يلي [2.125401 ، 36° ، 24° ، 2.65:47]
- (5). 64 بالصورة الأسية [3⁵ ، 2⁴ ، 2⁶ ، 3⁶]
- (6). لو₃(س × ص) = [لو₃س + لو₃ص ، لو₃س × لو₃ص ، لو₃(س ص) ، 3]
- (7). بيء - 45 = بيء [45 ، 41 ، بيء - 4 ، بيء 45]
- (8). 900° × $\frac{1}{3}$ = [10 ، 30 ، 3 ، 100]
- (9). 75° = [5°3 ، 3°5 ، 15°3 ، 13°5]
- (10). π ∃ [ن ، ن: ، ص ، ط]

السؤال الثاني :

(أ) أوجد قيمة س فيما يلي:

(1). 5°س - 5° = 0

(2). 17 = 2(س - 3)

(3). لو₁₀ 10° = $\frac{1}{2}$

ب) جد قيمة ما يلي :-

$$(1). \text{لو}_3 9 + \text{لو}_3 24 + \text{لو}_3 3 + 2$$

$$(2). (8 - 5)^5 (8 - 5)^{-5}$$



دولة فلسطين

وزارة التربية والتعليم العالي

مديرية التربية والتعليم - غرب غزة

بسم الله الرحمن الرحيم

اختبار الوحدة الثانية للفصل الدراسي الأول

للعام الدراسي 2018/2017م

عدد الصفحات: (2) صفحات

المبحث: الرياضيات

الصف: التاسع الأساسي

الزمن: حصة واحدة

اسم الطالب/ة:

الشعبة:

السؤال الأول: ضع علامة (✓) أو (×) أمام كل عبارة مما يلي :- (5 علامات)

- 1- في الاقتران اذا كان المدى يساوي المجال يكون الاقتران شامل ()
- 2- كل اقتران واحد لواحد يكون تناظر ()
- 3- $(3, 1) = (1, 3)$ ()
- 4- اذا كانت A ، B مجموعتين غير خاليتين ، فإن $A \times B = B \times A$ ()
- 5- $(C, H) = (H, C)$ (س) ()

السؤال الثاني: اختر الاجابة الصحيحة مما بين القوسين :- (5 علامات)

- 1- يمثل الاقتران الثابت بمستقيم يوازي محور السينات محور الصادات المستقيم $S = V$ المستقيم $V = -S$
- 2- اذا كان $C(س) = 3س$ ، فإن $(C, H^{-1}) = (4, -)$
- 3- أي الاقترانات يعتبر اقتران محايد $C(س) = 2س$ $(C, H^{-1}) = (س)$ $C(س) = 8$ $C(س) = 8$
- 4- $C : V \leftarrow V$ بحيث $C(س) = 2س - 5$ ، فأی النقاط تحقق قاعدة الاقتران $(2, 1)$ $(6, 2)$ $(1, 3)$ $(3, 2)$
- 5- $C = (2, 0)$ ، $(5, 1)$ ، $(6, 2)$ ، d ، فإن $C^{-1}(2) =$
- 5 صفر 6 غير ذلك

إذا كانت $a = 1, 2, 3, 4, d$ ، $b = c = 3, 4, 5, 6, d$ ، $c : a \leftarrow b$

ق : س \leftarrow س + 1

أوجد (1) ق (1)

(2) ق (-2)

(3) ق (5)

هل ق اقتران شامل؟

هل ق اقتران واحد لواحد؟

هل ق اقتران تناظر؟

إذا كانت هـ (س) = $s + 1$ ؛ ، ق (س) = $s^2 - 4$ ، أوجد :

(ه ه ه ق) (3)

(ق ه ه ه) (6)

(ه ه ه ق) (س)

(ق ه ه ه) (س)



دولة فلسطين

وزارة التربية والتعليم العالي

مديرية التربية والتعليم - غرب غزة

بِسْمِ اللَّهِ الرَّحْمَنِ الرَّحِيمِ

اختبار الوحدة الثالثة للفصل الدراسي الأول

للعام الدراسي 2018/2017م

عدد الصفحات: (2) صفحات

المبحث: الرياضيات

الصف: التاسع الأساسي

الزمن: حصة واحدة

اسم الطالب/ة:

الشعبة:

(5 علامات)

السؤال الأول : اختر الاجابة الصحيحة مما يلي :-

1- ميل الخط المستقيم المار بالنقطتين (1 ، 0) ، (6 ، 3) هو

3- 3 - $\frac{1}{3}$ - $\frac{1}{3}$

2- المسافة بين النقطة (- 6 ، 8) ونقطة الاصل هي

5 10 3 100

3- خط مستقيم ميله 2 ، ومقطعه الصادي - 3 ، فإن معادلته

ص = 2س - 3 ص = 3س - 2 ص = 2س + 3 ص = 3س + 2

4- المقطع الصادي للخط المستقيم الذي معادلته 3ص = 2س - 12 هو

4 - 4 - 3 $\frac{2}{3}$

5- اذا كانت (4 ، 3) منتصف أب ، حيث أ (3 ، 4) ، فإن ب

(5 ، 2) (2 ، 5) (5 ، 2) (5 ، 2 -)

السؤال الثاني :

(ا) جد قيمة هـ التي تجعل الخط المستقيم ص = (هـ - 4)س + 5 يوازي محور السينات . (3 علامات)

(ب) جد ميل الخط المستقيم الذي يصنع زاوية قياسها 60 هـ مع محور السينات الموجب. (علامتان)

(ج) بين أن النقاط أ (- 2 ، 5) ، ب (3 ، 3) ، ج (- 4 ، 3) تقع على استقامة واحدة. (3 علامات)

السؤال الثالث :

(ا) جد معادلة الخط المستقيم الذي يمر بالنقطتين (1 ، 5) ، (4 ، 3) . (3 علامات)

(ب) اص ، ج س قطع متوسطة في المثلث ا ب ج تتقاطع في النقطة ن ، و طول ن ص = 6 سم ،
جد : (1) طول ا ن (2) طول ا ص (4 علامات)



دولة فلسطين

وزارة التربية والتعليم العالي
مديرية التربية والتعليم - غرب غزة

بِسْمِ اللَّهِ الرَّحْمَنِ الرَّحِيمِ

اختبار الوحدة الرابعة للفصل الدراسي الأول

للعام الدراسي 2018/2017م

عدد الصفحات: (2) صفحات

المبحث: الرياضيات

الصف: التاسع الأساسي

الزمن: حصة واحدة

اسم الطالب/ة:

الشعبة:

(4 علامات)

السؤال الأول : اختر الاجابة الصحيحة مما يلي :-

1-	مركز الفئة 12 - 14 هو	13	12
2-	أحد المقاييس التالية ليس من مقاييس النزعة المركزية	الوسيط	المنوال
3-	إذا كان سعة	ت × (س _ س :) = 210 ، ن = 30 ، فإن قيمة σ =	2
4-	إذا كان سعة	(س × ت) = 500 ، وكان س : = 10 ، فإن مجموع التكرارات	500
		10	50
		8	7
		10	100

السؤال الثاني :

أ) استخدم البيانات الواردة في الجدول التكراري الاتي للإجابة عن الاسئلة التي تليه . (8 علامات)

20 - 16	15 - 11	10 - 6	5 - 1	الفئات
3	6	4	5	التكرار

- 1- احسب الوسط الحسابي للبيانات
- 2- احسب الوسيط للبيانات
- 3- احسب المنوال للبيانات
- 4- احسب الانحراف المعياري للبيانات

ب (يمثل الجدول الآتي التوزيع التكراري لعلامات (20) طالباً: (8 علامات)

الفئات	8 - 4	13 - 9	18 - 14	23 - 19	28 - 24
عدد الطلبة	3	5	7	4	1

مثل التوزيع التكراري بما يلي :

- 1- بالمدرج التكراري
- 2- بالمضلع التكراري
- 3- بالمنحنى التكراري
- 4- بالمنحنى التكراري المتجمع الصاعد



دولة فلسطين

وزارة التربية والتعليم العالي

مديرية التربية والتعليم - غرب غزة

بسم الله الرحمن الرحيم

اختبار نهاية الفصل الدراسي الأول

للعام الدراسي 2017/2018م

عدد الصفحات: (3) صفحات

المبحث: الرياضيات

الصف: التاسع الأساسي

الزمن: ساعة ونصف

اسم الطالب/ة:

الشعبة:

(10 درجات)

السؤال الأول : اختر الاجابة الصحيحة ما بين القوسين :-

- العدد الحقيقي الذي يقع بين 12 ، 13 هو
 ا] $1+99$ ب] $1+121$ ج] 132 د] 169
- الصورة العلمية للعدد 540000
 ا] $10 \times 5.4 \times 10^5$ ب] $10 \times 5.4 \times 10^4$ ج] $10 \times 54 \times 10^4$ د] $10 \times 540 \times 10^3$
- قيمة (س + 3 ص) 0 ، حيث س، ص $\in \mathbb{R}$ هي
 ا] -1 ب] 1 ج] صفر د] س
- قيمة لو 3 لـ 27
 ا] 3 ب] -3 ج] 1 د] 9
- عدد عناصر المجموعة أ = 7 عناصر ، وعدد عناصر المجموعة ب = 6 عناصر ، فإن عدد عناصر أ×ب =
 ا] 13 ب] 42 ج] 1 د] 44
- قيمة (ق هه ق $^{-1}$) (5) =
 ا] 25 ب] 10 ج] 5 د] صفر
- الاقتران الخطي من الاقترانات التالية
 ا] ق(س) = s^2 ب] ق(س) = es ج] ق(س) = s^{-1} د] ق(س) = $3s$
- اذا كانت (4 ، 3-) منتصف أب ، حيث أ = (3 ، 4-) ، فإن احداثيات النقطة ب
 ا] (5 ، 2-) ب] (2 ، 5) ج] (5 ، 2) د] (5 ، 2-)
- خط مستقيم ميله $5/1$ ، ومقطعه الصادي 2 فإن معادلته
 ا] $5/1 = ص + 2$ ب] $ص = 5س + 2$ ج] $ص = 5/1س - 2$ د] $ص = 2س + 5/1$
- احد المقاييس التالية ليس من مقاييس النزعة المركزية
 ا] المنوال ب] الوسط الحسابي ج] الوسيط د] الانحراف المعياري

السؤال الثاني : ضع علامة (✓) او (×) أمام كل عبارة مما يلي :- (5 درجات)

1. $س^5 \times س^{-3} = س^8$ ()
2. اذا كان سة \times ت (س-س) : $320=2^2[$ ، $ن = 40$ فإن $8=\sigma$ ()
3. قيمة ع التي تجعل الخط المستقيم ص = (ع+3) س + 2 يوازي محور السينات هي 3 ()
4. ميل الخط المستقيم المار بالنقطتين (3،5) ، (0 ، 2-) هو 1- ()
5. النقاط أ ، ب ، ج على استقامة واحدة اذا كان أب + ب ج = أج ()

السؤال الثالث :

أ] لتكن $أ=1$ ، $ب=2$ ، $ج=3$ ، $د=4$ ، $هـ=5$
(5 درجات)

ع علاقة معرفة على أ بحيث $ع = C$ (س ، ص) $أ \times$: س-ص=د2

- 1- اكتب العلاقة ع على شكل أزواج مرتبة.
- 2- جد مجال ومدى العلاقة ع.
- 3- مثل العلاقة ع بالمخطط السهمي.
- 4- هل تمثل ع اقترانا ؟ اذكر السبب.

ب] مثل الاقتران الخطي ق(س) = 2س + 1 في المستوى الديكارتي. (3 درجات)

السؤال الرابع :

(4 درجات)

أ [حل المعادلات الآتية:

$$1. \text{ لو }_2 (س+2) - \text{ لو }_2 (س-1) = 2$$

$$2. \text{ لو }_5 (س^2) \div 5 = 125$$

(3 درجات)

ب [جد قيمة المقادير الآتية :-

$$1. \text{ بي } 4 - 54 \text{ بي}$$

$$2. \text{ لو }_3 (3 + 12 \text{ لو }_3) [$$

$$3. \frac{2\text{ة} - 14\text{ة}}{2\text{ة} + 14\text{ة}}$$



دولة فلسطين

وزارة التربية والتعليم العالي

مديرية التربية والتعليم - غرب غزة

بِسْمِ اللَّهِ الرَّحْمَنِ الرَّحِيمِ

اختبار نهاية الفصل الدراسي الأول

للعام الدراسي 2017/2018م

عدد الصفحات: (3) صفحات

المبحث: الرياضيات

الصف: التاسع الأساسي

الزمن: ساعة ونصف

اسم الطالب/ة:

الشعبة:

السؤال الأول : - اختاري الاجابة الصحيحة مما يلي :- (10 درجات)

1- اذا كان عدد عناصر المجموعة | = 4عناصر ، وعدد عناصر المجموعة ب = 6 عناصر

فإن عدد عناصر | × ب

24 10 36 16

2- قيمة (ق هه ق⁻¹) = (5)

25 10 5 0

3- الخاصية المستخدمة في العبارة 3 + 5 = 5 + 3 هي

التجميع التبدل العنصر المحايد النظير الجمعي

4- اذا كانت | = c 1 ، 2 ، 3 ، d ، وكانت ع = c (2 ، 3) ، (2 ، 2) ، (س ، ص) ، d

علاقة تماثل ،

فإن (س ، ص) =

(1 ، 2) (1 ، 1) (3 ، 2) (3 ، 3)

5- خط مستقيم ميله 5/1 ، ومقطعه الصادي 2 فإن معادلته

اص = 5/1 + 2ص 2 + 5ص = ص 2 + 5/1 = ص 5/1 + 2ص =

6- مرافق العدد 5 - 3ة

5 - 3ة 5 - 3ة 5 - 3ة

3ة +

7- ما قيمة 9) + (! 9) × (! 1)

0 9 1 2

8- اذا كانت (7 ، 2ص + 1) = (3 + س ، 8) فإن

ص = 2 ، 7 = 2ص + 1 ، 8 = 3 + س ، 7 = 2ص + 1 ، 2 = ص ، 2 = ص ، 2 = ص ، 2 = ص

9- قيمة (2 + 3ة) × (!) × (3ة - 2) × (!) =

3 1 3ة 2 2

10- قيمة المقدار 2ة × 24ة

26ة 12ة 2 12ة 4

السؤال الثاني : - (ا) اذا كانت ق : ط ← ط ، حيث ق(س) = 2س + 1 (6 درجات)

أوجد (1) ق(0)

(2) ق(1)

(3) ق(3)

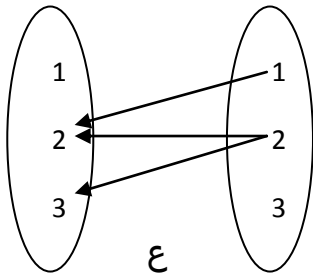
(4) مدى ق

- حدد نوع الاقتران ق (شامل ، واحد لواحد ، تناظر).

- اذا كان ق (س) = 7 ، جد قيمة س.

(3 درجات)

(ب) في الشكل المجاور :



1- مجال ع

2- مدى ع

3- هل ع تمثل اقتران ، اذكر السبب.

السؤال الثالث :-

(4 درجات)

(ا) حل المعادلة الآتية :-

$$(1) \text{ لوشس } 7^5 = 2 \text{ س}$$

(2) جد معادلة المستقيم المار بالنقطتين أ(5 ، 2) ، ب(-2 ، 7).

(درجتان)

(ب) جدي ناتج :-

$$\text{لوثن } 32 \times \text{لوحن } 27 = \dots\dots\dots$$

ب) يمثل الجدول الاتي التوزيع التكراري لعلامات (20) طالبا : (5 علامات)

الفئات	8 - 4	13 - 9	18 - 14	23 - 19	28 - 24
عدد الطلبة	2	3	8	6	1

احسب ما يلي :

(1) الوسط الحسابي للبيانات

(2) المنوال للبيانات

(3) مثل البيانات بالمدرج التكراري